

Algorithmen II

Übung am 27.11.2012

INSTITUT FÜR THEORETISCHE INFORMATIK · PROF. DR. DOROTHEA WAGNER

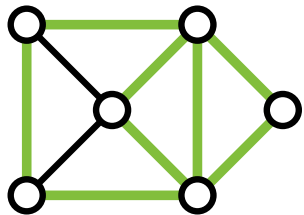


Kreisbasen

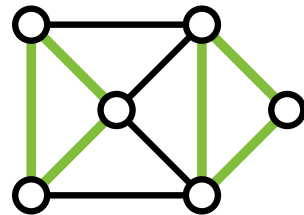
Definition: Kreis

(Definition 5.1)

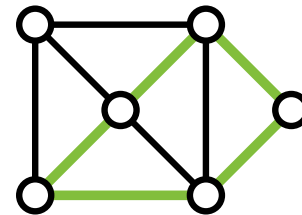
Ein Teilgraph $C = (V_C, E_C)$ von $G = (V, E)$ (d.h. $V_C \subseteq V, E_C \subseteq E$) heißt *Kreis* in G , falls alle Knoten aus V_C in C geraden Grad haben. Falls C zusammenhängend ist und alle Knoten aus V_C Grad zwei haben, so heißt C *einfacher Kreis*.



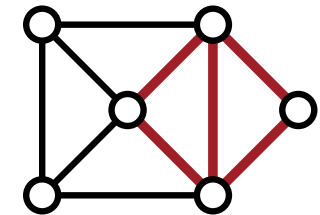
Kreis



Kreis



einfacher Kreis

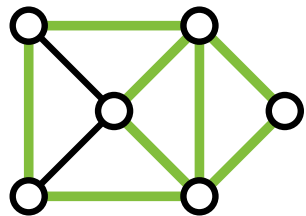


kein Kreis

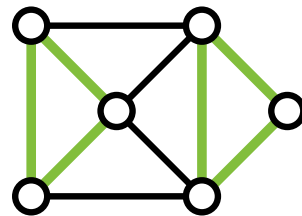
Definition: Kreis

(Definition 5.1)

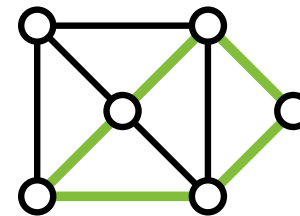
Ein Teilgraph $C = (V_C, E_C)$ von $G = (V, E)$ (d.h. $V_C \subseteq V, E_C \subseteq E$) heißt *Kreis* in G , falls alle Knoten aus V_C in C geraden Grad haben. Falls C zusammenhängend ist und alle Knoten aus V_C Grad zwei haben, so heißt C *einfacher Kreis*.



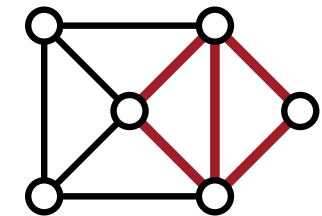
Kreis



Kreis



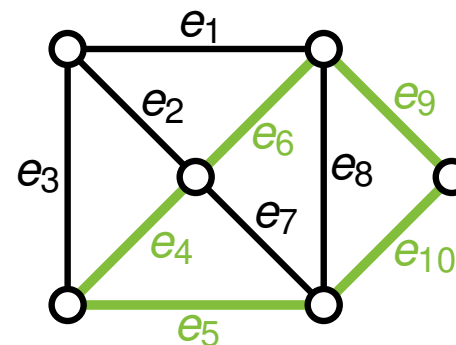
einfacher Kreis



kein Kreis

Fasse Kreis als Kantenmenge $E' \subseteq E = \{e_1, \dots, e_m\}$ auf und kodiere E' als Vektor $X^{E'}$ mit

$$X_i^{E'} := \begin{cases} 1, & \text{falls } e_i \in E' \\ 0, & \text{sonst} \end{cases}$$



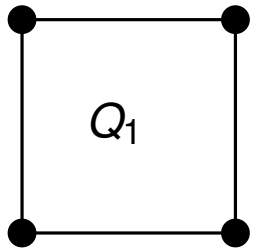
$$X^{E'} = \begin{pmatrix} 0 \\ 0 \\ 0 \\ 1 \\ 1 \\ 1 \\ 0 \\ 0 \\ 1 \\ 1 \end{pmatrix} \begin{matrix} e_1 \\ e_2 \\ e_3 \\ e_4 \\ e_5 \\ e_6 \\ e_7 \\ e_8 \\ e_9 \\ e_{10} \end{matrix}$$

Problem 3

(a) Gesucht: Familie $(G_i)_{i \in \mathbb{N}}$ mit $|C_i|$ **exponentiell** in $|E_i|$.

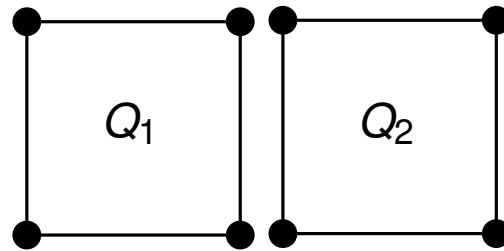
Problem 3

(a) Gesucht: Familie $(G_i)_{i \in \mathbb{N}}$ mit $|C_i|$ **exponentiell** in $|E_i|$.



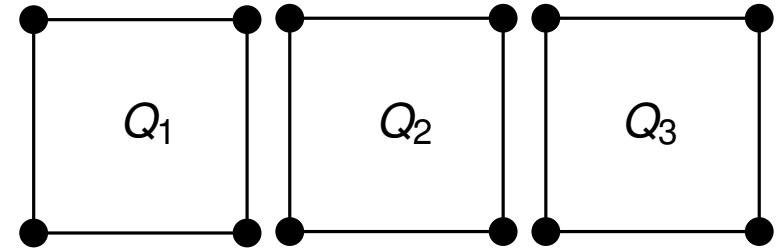
G_1

$$|C_1| = 1$$



G_2

$$|C_2| = 3$$



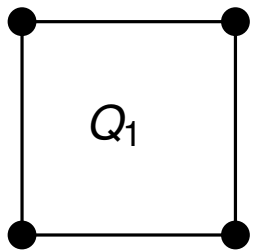
G_3

$$|C_3| = 7$$

$G_i = i$ Kopien eines einfachen Kreises Q mit 4 Knoten. (Anzahl Kanten steigt linear)

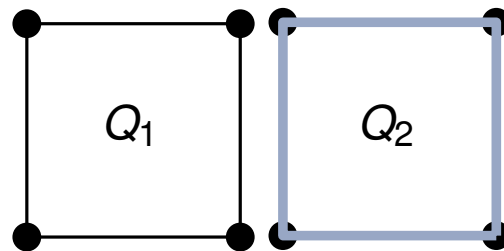
Problem 3

(a) Gesucht: Familie $(G_i)_{i \in \mathbb{N}}$ mit $|C_i|$ **exponentiell** in $|E_i|$.



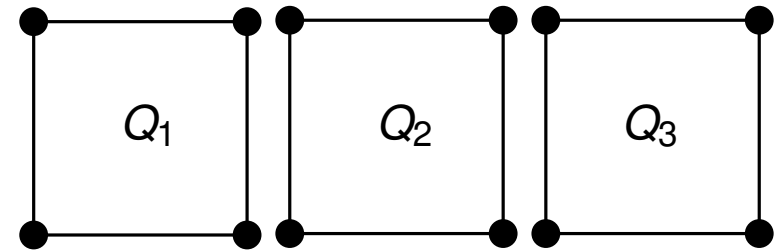
G_1

$$|C_1| = 1$$



G_2

$$|C_2| = 3$$



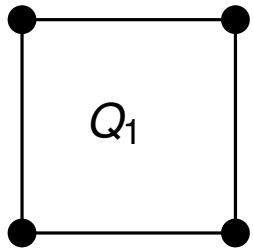
G_3

$$|C_3| = 7$$

$G_i = i$ Kopien eines einfachen Kreises Q mit 4 Knoten. (Anzahl Kanten steigt linear)

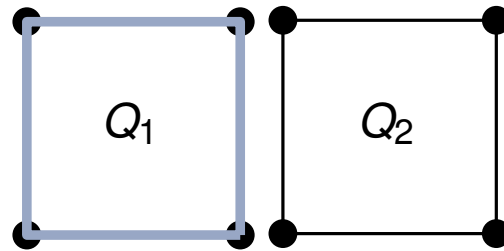
Problem 3

(a) Gesucht: Familie $(G_i)_{i \in \mathbb{N}}$ mit $|C_i|$ **exponentiell** in $|E_i|$.



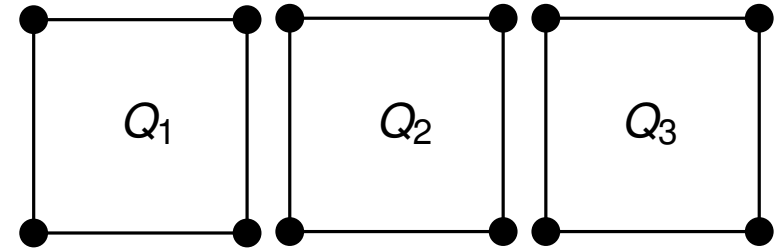
G_1

$$|C_1| = 1$$



G_2

$$|C_2| = 3$$



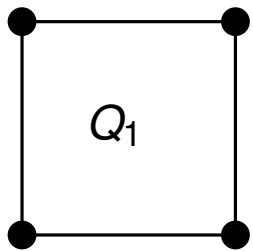
G_3

$$|C_3| = 7$$

$G_i = i$ Kopien eines einfachen Kreises Q mit 4 Knoten. (Anzahl Kanten steigt linear)

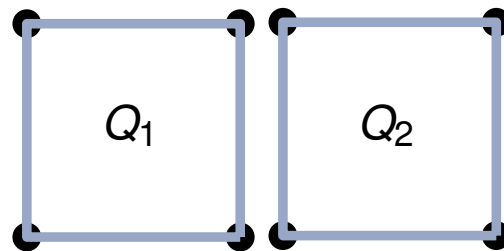
Problem 3

(a) Gesucht: Familie $(G_i)_{i \in \mathbb{N}}$ mit $|C_i|$ **exponentiell** in $|E_i|$.



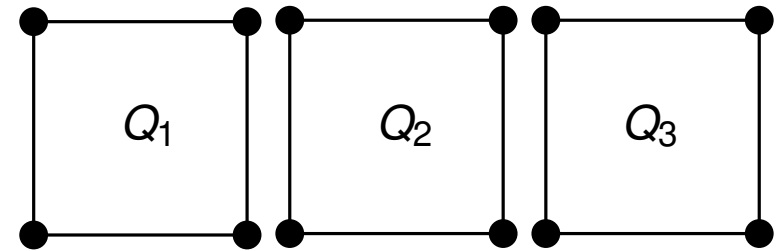
G_1

$$|C_1| = 1$$



G_2

$$|C_2| = 3$$



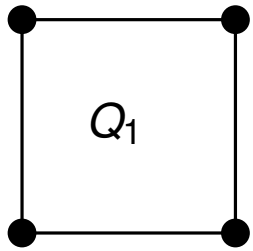
G_3

$$|C_3| = 7$$

$G_i = i$ Kopien eines einfachen Kreises Q mit 4 Knoten. (Anzahl Kanten steigt linear)

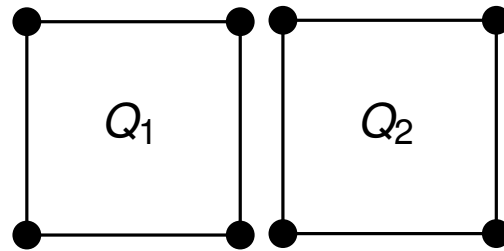
Problem 3

(a) Gesucht: Familie $(G_i)_{i \in \mathbb{N}}$ mit $|C_i|$ **exponentiell** in $|E_i|$.



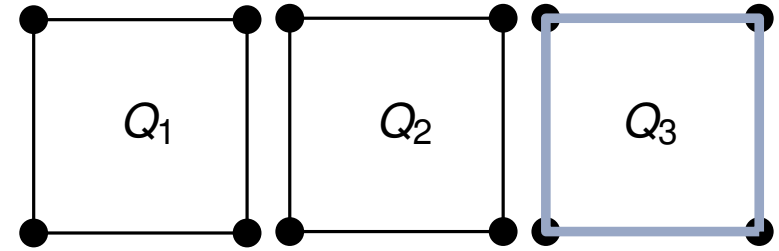
G_1

$$|C_1| = 1$$



G_2

$$|C_2| = 3$$



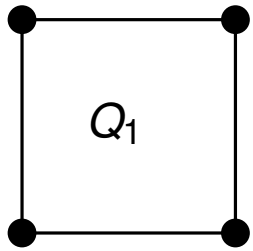
G_3

$$|C_3| = 7$$

$G_i = i$ Kopien eines einfachen Kreises Q mit 4 Knoten. (Anzahl Kanten steigt linear)

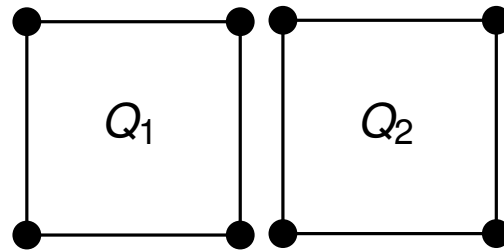
Problem 3

(a) Gesucht: Familie $(G_i)_{i \in \mathbb{N}}$ mit $|C_i|$ **exponentiell** in $|E_i|$.



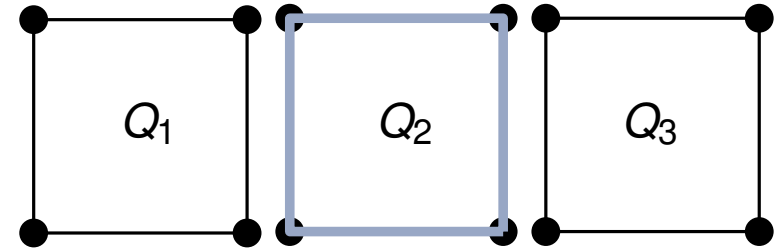
G_1

$$|C_1| = 1$$



G_2

$$|C_2| = 3$$



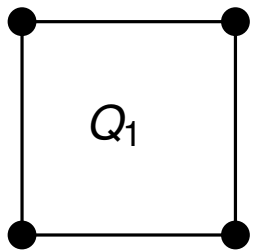
G_3

$$|C_3| = 7$$

$G_i = i$ Kopien eines einfachen Kreises Q mit 4 Knoten. (Anzahl Kanten steigt linear)

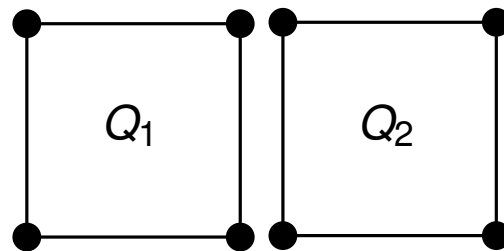
Problem 3

(a) Gesucht: Familie $(G_i)_{i \in \mathbb{N}}$ mit $|C_i|$ **exponentiell** in $|E_i|$.



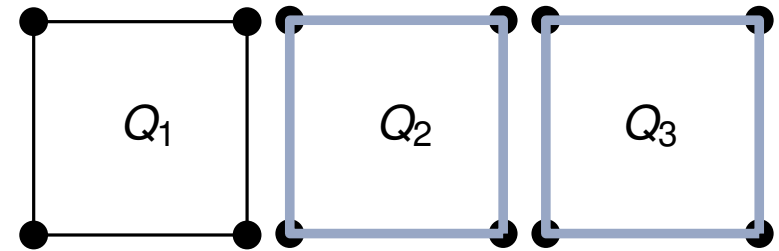
G_1

$$|C_1| = 1$$



G_2

$$|C_2| = 3$$



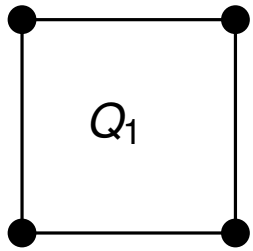
G_3

$$|C_3| = 7$$

$G_i = i$ Kopien eines einfachen Kreises Q mit 4 Knoten. (Anzahl Kanten steigt linear)

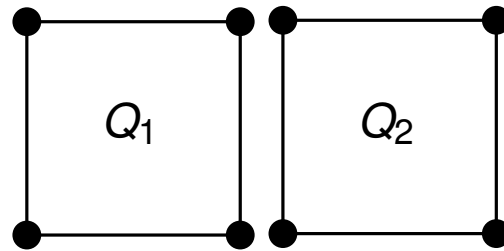
Problem 3

(a) Gesucht: Familie $(G_i)_{i \in \mathbb{N}}$ mit $|C_i|$ **exponentiell** in $|E_i|$.



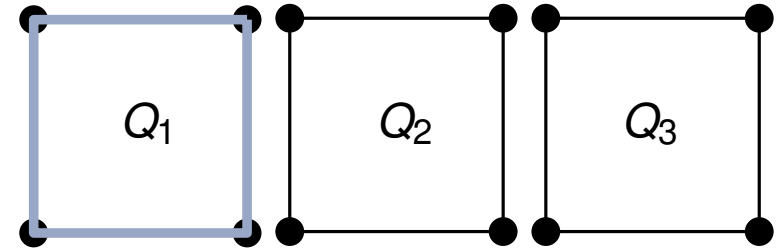
G_1

$$|C_1| = 1$$



G_2

$$|C_2| = 3$$



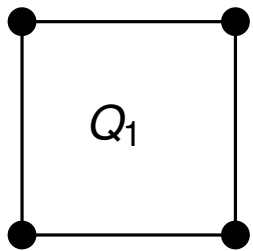
G_3

$$|C_3| = 7$$

$G_i = i$ Kopien eines einfachen Kreises Q mit 4 Knoten. (Anzahl Kanten steigt linear)

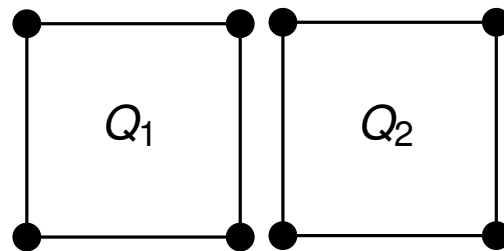
Problem 3

(a) Gesucht: Familie $(G_i)_{i \in \mathbb{N}}$ mit $|C_i|$ **exponentiell** in $|E_i|$.



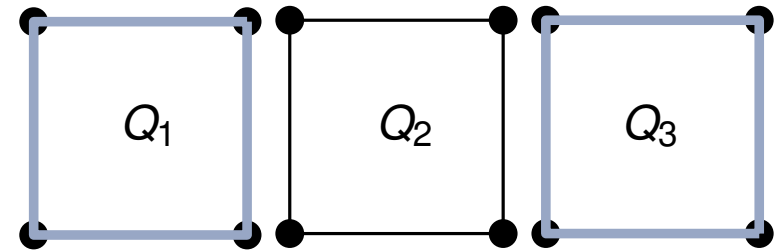
G_1

$$|C_1| = 1$$



G_2

$$|C_2| = 3$$



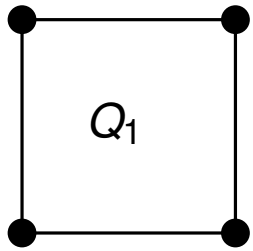
G_3

$$|C_3| = 7$$

$G_i = i$ Kopien eines einfachen Kreises Q mit 4 Knoten. (Anzahl Kanten steigt linear)

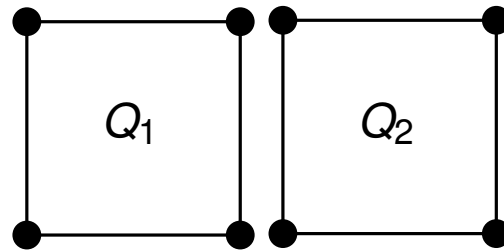
Problem 3

(a) Gesucht: Familie $(G_i)_{i \in \mathbb{N}}$ mit $|C_i|$ **exponentiell** in $|E_i|$.



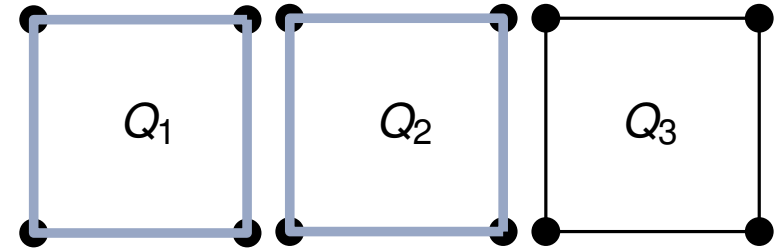
G_1

$$|C_1| = 1$$



G_2

$$|C_2| = 3$$



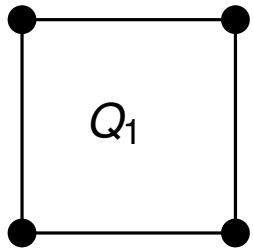
G_3

$$|C_3| = 7$$

$G_i = i$ Kopien eines einfachen Kreises Q mit 4 Knoten. (Anzahl Kanten steigt linear)

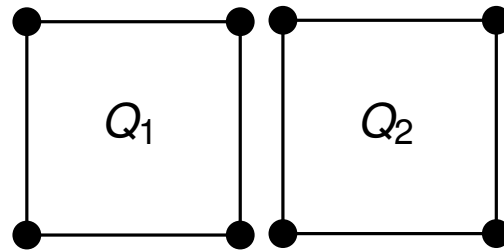
Problem 3

(a) Gesucht: Familie $(G_i)_{i \in \mathbb{N}}$ mit $|C_i|$ **exponentiell** in $|E_i|$.



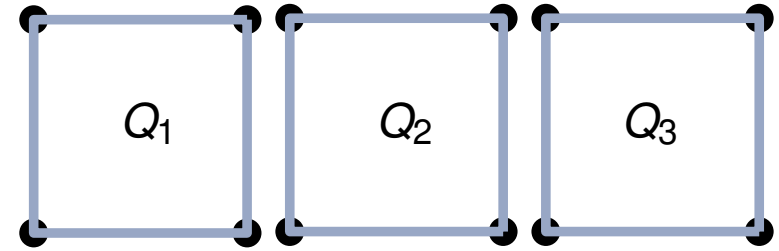
G_1

$$|C_1| = 1$$



G_2

$$|C_2| = 3$$



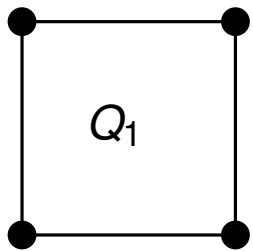
G_3

$$|C_3| = 7$$

$G_i = i$ Kopien eines einfachen Kreises Q mit 4 Knoten. (Anzahl Kanten steigt linear)

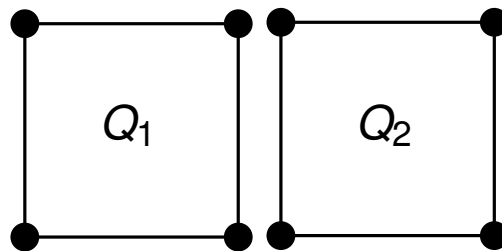
Problem 3

(a) Gesucht: Familie $(G_i)_{i \in \mathbb{N}}$ mit $|\mathcal{C}_i|$ **exponentiell** in $|E_i|$.



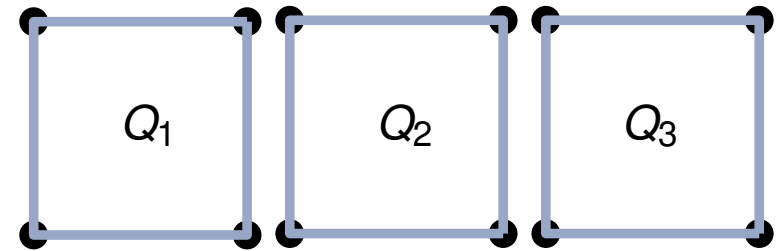
G_1

$$|\mathcal{C}_1| = 1$$



G_2

$$|\mathcal{C}_2| = 3$$



G_3

$$|\mathcal{C}_3| = 7$$

$G_i = i$ Kopien eines einfachen Kreises Q mit 4 Knoten. (Anzahl Kanten steigt linear)

Ein Kreis C in G_i setzt sich aus einer beliebigen Kombination von Q_1, \dots, Q_i zusammen:

Für alle $j = 1 \dots, i$ gilt: Entweder ganz Q_j ist in C enthalten oder gar nicht.

Beschreibe C als binären Vektor $v = (b_1, \dots, b_i)$:

$$b_j := \begin{cases} 1 & Q_j \text{ ist in } C \text{ enthalten} \\ 0 & \text{sonst} \end{cases}$$

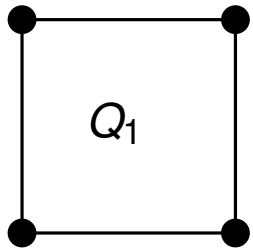
Es gibt $2^i - 1$ gültige Kombinationen. Nullvektor gehört nicht dazu.

Problem 3

b) Gesucht ist Familie $(G_i)_{i \in \mathbb{N}}$ mit $|C_i|$ **linear** in $|E_i|$:

Problem 3

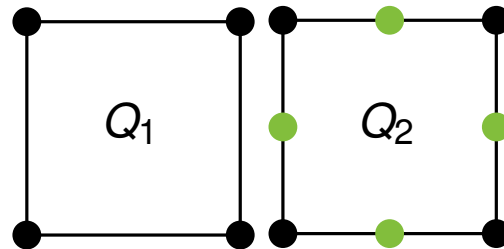
b) Gesucht ist Familie $(G_i)_{i \in \mathbb{N}}$ mit $|C_i|$ **linear** in $|E_i|$:



G_1

$$|C_1| = 1$$

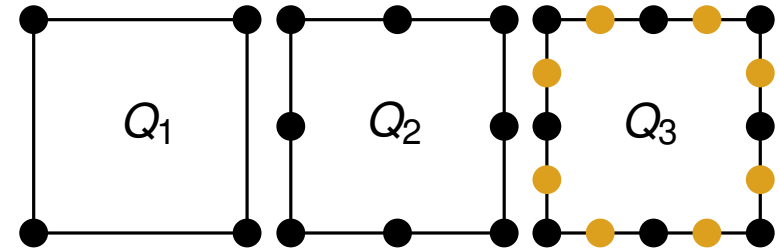
$$|E_1| = 4$$



G_2

$$|C_2| = 3$$

$$|E_2| = 4 + 8$$



G_3

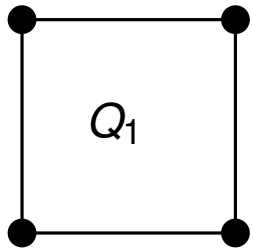
$$|C_3| = 7$$

$$|E_3| = 4 + 8 + 16$$

Familie G_i der 4er-Kreis-Kopien mit Unterteilungen.

Problem 3

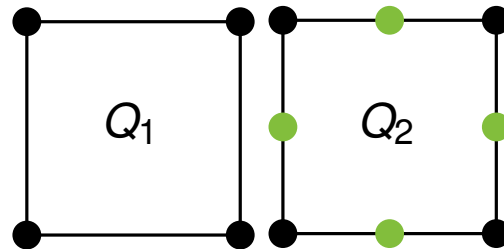
b) Gesucht ist Familie $(G_i)_{i \in \mathbb{N}}$ mit $|C_i|$ **linear** in $|E_i|$:



G_1

$$|C_1| = 1$$

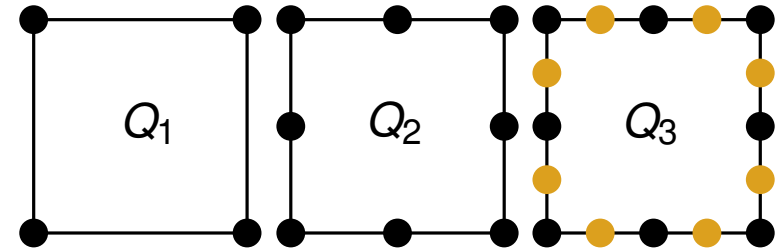
$$|E_1| = 4$$



G_2

$$|C_2| = 3$$

$$|E_2| = 4 + 8$$



G_3

$$|C_3| = 7$$

$$|E_3| = 4 + 8 + 16$$

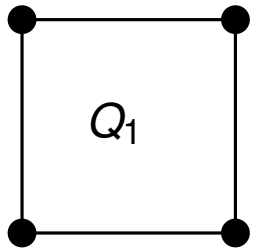
Familie G_i der 4er-Kreis-Kopien mit Unterteilungen.

$$|E_i| = \sum_{j=0}^{i-1} 4 \cdot 2^j = 4 \sum_{j=0}^{i-1} 2^j = 4(2^i - 1) = 4 \cdot 2^i - 4$$

(Verwende geometrische Reihe.)

Problem 3

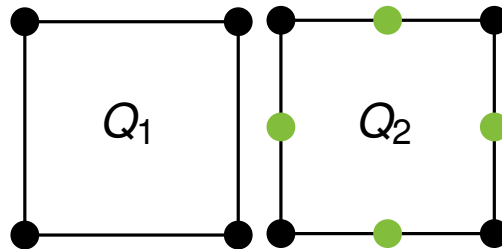
b) Gesucht ist Familie $(G_i)_{i \in \mathbb{N}}$ mit $|C_i|$ **linear** in $|E_i|$:



G_1

$$|C_1| = 1$$

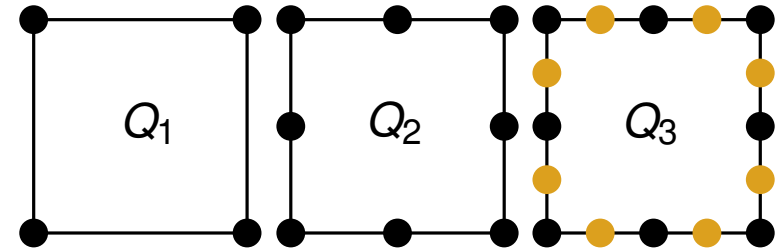
$$|E_1| = 4$$



G_2

$$|C_2| = 3$$

$$|E_2| = 4 + 8$$



G_3

$$|C_3| = 7$$

$$|E_3| = 4 + 8 + 16$$

Familie G_i der 4er-Kreis-Kopien mit Unterteilungen.

$$|E_i| = \sum_{j=0}^{i-1} 4 \cdot 2^j = 4 \sum_{j=0}^{i-1} 2^j = 4(2^i - 1) = 4 \cdot 2^i - 4 \quad (\text{Verwende geometrische Reihe.})$$

Ein Kreis C in G_i setzt sich weiterhin aus einer beliebigen Kombination von Q_1, \dots, Q_i zusammen:

Entweder ganz Q_i ist in C enthalten oder gar nicht.

Deshalb: $|C_i| = 2^i - 1$

Definition: Kreisraum

Sei \mathcal{C} die Menge aller Kreise in $G = (V, E)$. Dann induziert \mathcal{C} den Vektorraum der Vektoren X^c , $c \in \mathcal{C}$ über dem Körper $GF(2)$, genannt *Kreisraum* von G .

Erinnerung: $GF(2)$ ist der Körper mit zwei Elementen $\{0, 1\}$ und den Verknüpfungen $+$ und \cdot mit

$+$	0	1	\cdot	0	1
	0	1		0	0
	1	0		1	1

$a_1 + \dots + a_k = 1 \Leftrightarrow$ **ungerade** Anzahl a_i auf 1 gesetzt.

$a_1 + \dots + a_k = 0 \Leftrightarrow$ **gerade** Anzahl a_i auf 1 gesetzt.

Definition: Kreisraum

Sei \mathcal{C} die Menge aller Kreise in $G = (V, E)$. Dann induziert \mathcal{C} den Vektorraum der Vektoren $X^c, c \in \mathcal{C}$ über dem Körper $GF(2)$, genannt *Kreisraum* von G .

Erinnerung: $GF(2)$ ist der Körper mit zwei Elementen $\{0, 1\}$ und den Verknüpfungen $+$ und \cdot mit

$+$	0	1
0	0	1
1	1	0

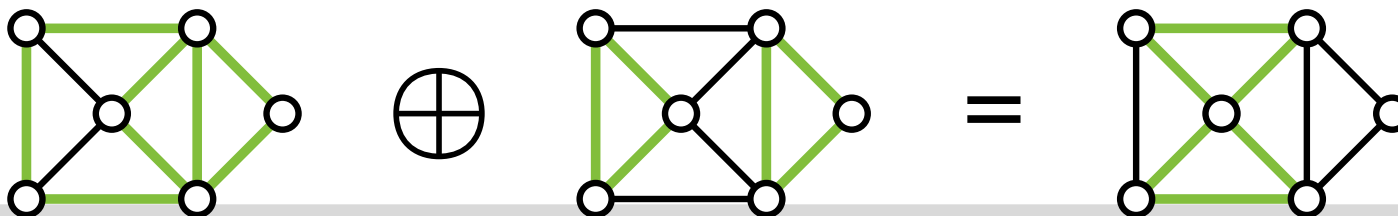
\cdot	0	1
0	0	0
1	0	1

$a_1 + \dots + a_k = 1 \Leftrightarrow$ **ungerade** Anzahl a_i auf 1 gesetzt.

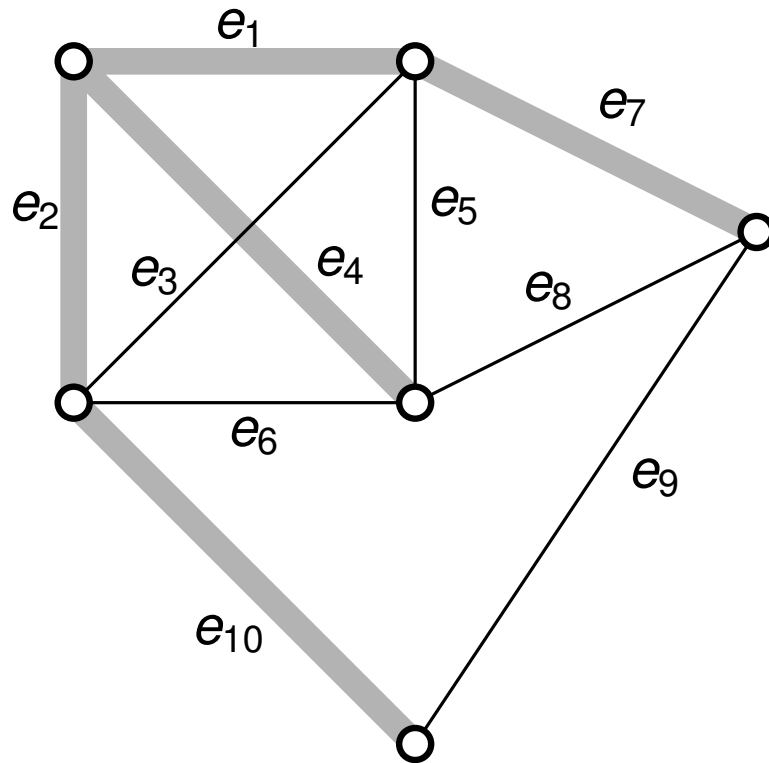
$a_1 + \dots + a_k = 0 \Leftrightarrow$ **gerade** Anzahl a_i auf 1 gesetzt.

Definition: Summe von Kreisen – symmetrische Differenz

Die Addition im Kreisraum von G induziert eine Operation \oplus auf \mathcal{C} durch $c_1 \oplus c_2 = (E_{c_1} \cup E_{c_2}) \setminus (E_{c_1} \cap E_{c_2})$. Dies ist die *symmetrische Differenz* beider Kantenmengen.



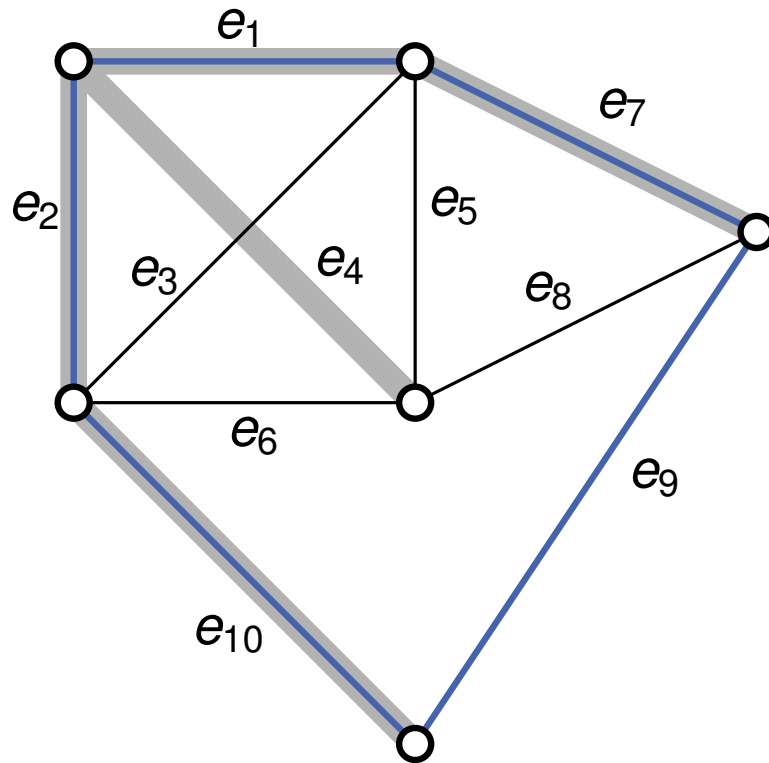
Fundamentalebasis



Spannbaum T :



Fundamentalebasis

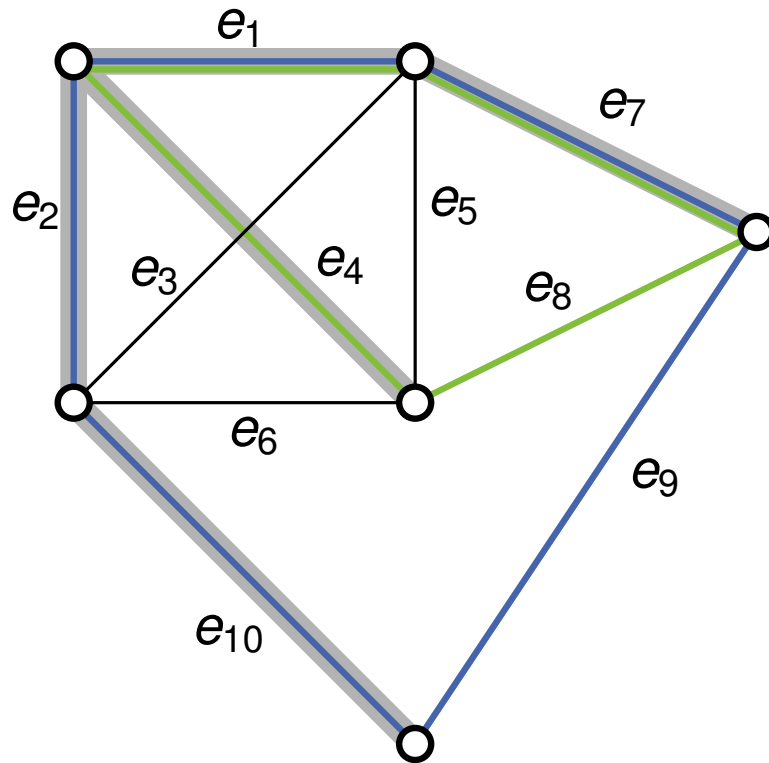


Spannbaum T :

Kante e_9 induziert Kreis:

$$C_1 = e_1 - e_7 - e_9 - e_{10} - e_2$$

Fundamentalebasis



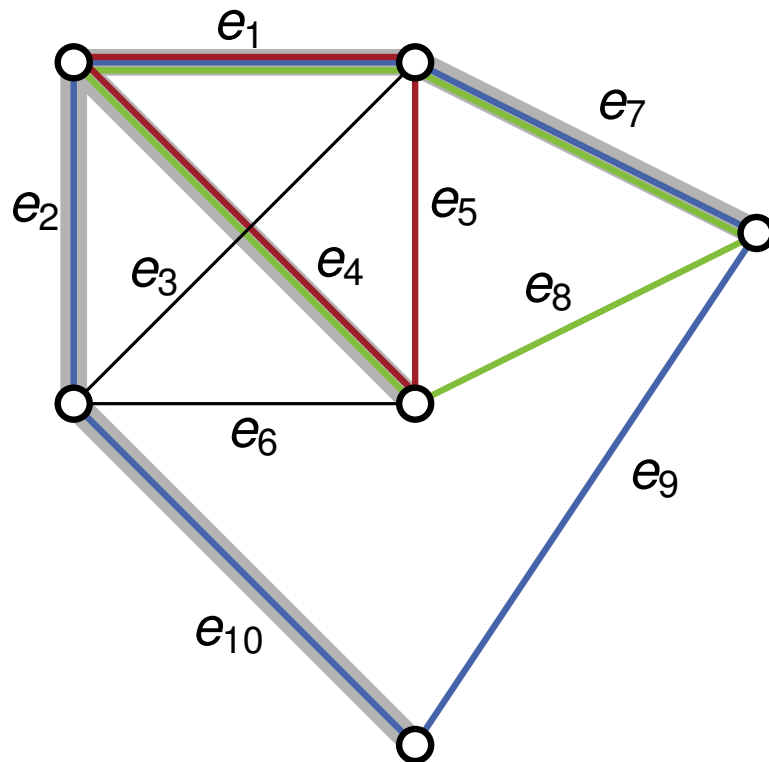
Spannbaum T :

Kante e_9 induziert Kreis:

$$C_1 = e_1 - e_7 - e_9 - e_{10} - e_2$$

Kante e_8 induziert Kreis:

$$C_2 = e_1 - e_7 - e_8 - e_4$$



Spannbaum T :

Kante e_9 induziert Kreis:

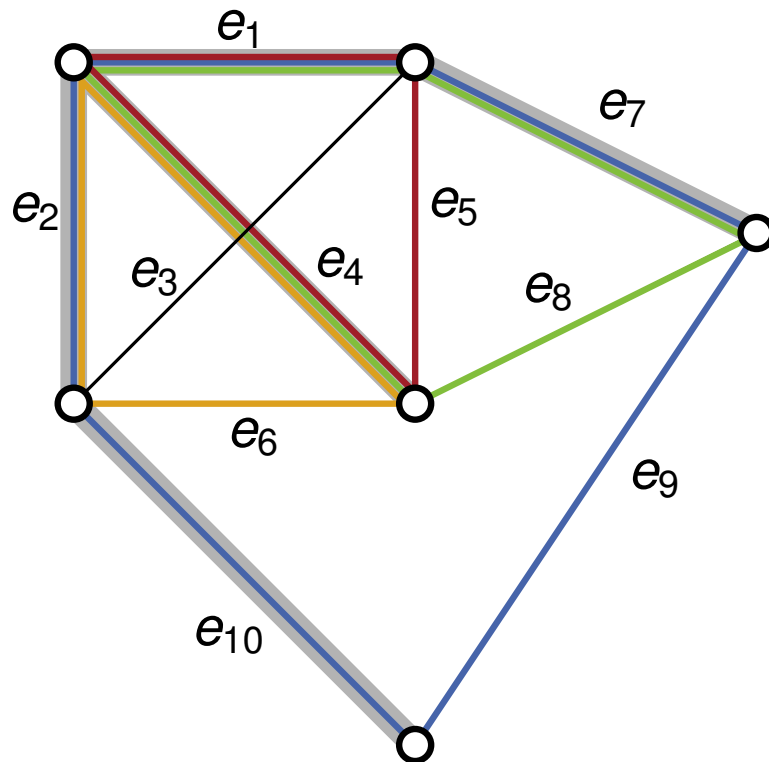
$$C_1 = e_1 - e_7 - e_9 - e_{10} - e_2$$

Kante e_8 induziert Kreis:

$$C_2 = e_1 - e_7 - e_8 - e_4$$

Kante e_5 induziert Kreis:

$$C_3 = e_1 - e_5 - e_4$$



Spannbaum T :

Kante e_9 induziert Kreis:

$$C_1 = e_1 - e_7 - e_9 - e_{10} - e_2$$

Kante e_8 induziert Kreis:

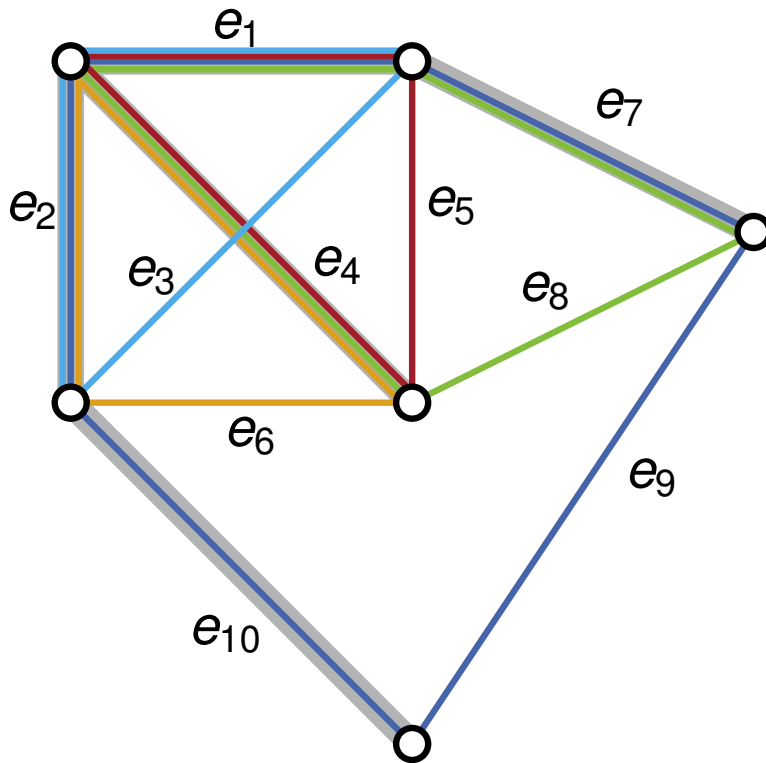
$$C_2 = e_1 - e_7 - e_8 - e_4$$

Kante e_5 induziert Kreis:

$$C_3 = e_1 - e_5 - e_4$$

Kante e_6 induziert Kreis:

$$C_4 = e_2 - e_4 - e_6$$



Spannbaum T :

Kante e_9 induziert Kreis:

$$C_1 = e_1 - e_7 - e_9 - e_{10} - e_2$$

Kante e_8 induziert Kreis:

$$C_2 = e_1 - e_7 - e_8 - e_4$$

Kante e_5 induziert Kreis:

$$C_3 = e_1 - e_5 - e_4$$

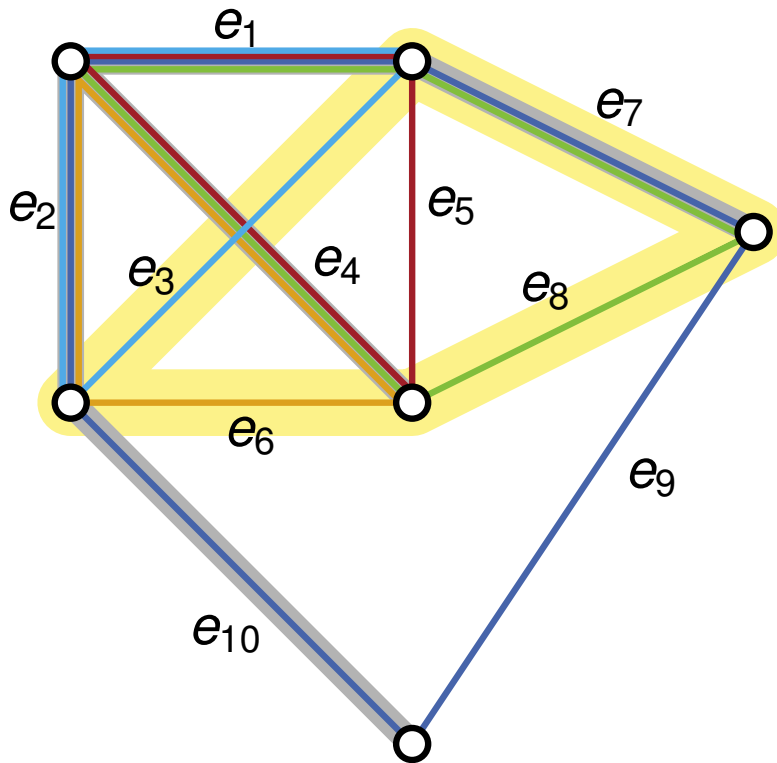
Kante e_6 induziert Kreis:

$$C_4 = e_2 - e_4 - e_6$$

Kante e_3 induziert Kreis:

$$C_5 = e_1 - e_3 - e_2$$

C_1, C_2, C_3, C_4 und C_5 bilden Fundamentalebasis.



Spannbaum T :

Kante e_9 induziert Kreis:

$$C_1 = e_1 - e_7 - e_9 - e_{10} - e_2$$

Kante e_8 induziert Kreis:

$$C_2 = e_1 - e_7 - e_8 - e_4$$

Kante e_5 induziert Kreis:

$$C_3 = e_1 - e_5 - e_4$$

Kante e_6 induziert Kreis:

$$C_4 = e_2 - e_4 - e_6$$

Kante e_3 induziert Kreis:

$$C_5 = e_1 - e_3 - e_2$$

C_1, C_2, C_3, C_4 und C_5 bilden Fundamentalebasis.

Darstellung anderer Kreise bezüglich der gewählten Basis:

$$e_3 - e_7 - e_8 - e_6 = e_1 - e_7 - e_8 - e_4 \oplus e_2 - e_4 - e_6 \oplus e_1 - e_3 - e_2$$

2. Problem

Gegeben:

- ungerichteter, zusammenhängender Graph $G = (V, E)$
- aufspannender Baum $T = (V, E_T)$ in G

Fundamentalebasis B_T des Kreisraumes \mathcal{C} von G definiert als

$$B_T := \{C_e \mid e \in E \setminus E_T, C_e \in \mathcal{C}, \text{ mit} \\ E_{C_e} = \{e = \{u, v\}\} \cup \{\text{Pfadkanten von } u \text{ nach } v \text{ in } T\}\}$$

2. Problem

Gegeben:

- ungerichteter, zusammenhängender Graph $G = (V, E)$
- aufspannender Baum $T = (V, E_T)$ in G

Fundamentalbasis B_t des Kreisraumes \mathcal{C} von G definiert als

$$B_T := \{C_e \mid e \in E \setminus E_T, C_e \in \mathcal{C}, \text{ mit} \\ E_{C_e} = \{e = \{u, v\}\} \cup \{\text{Pfadkanten von } u \text{ nach } v \text{ in } T\}\}$$

1. Zeigen Sie, dass $B_T \subseteq GF(2)^m$ linear unabhängig ist.

Wiederholung: Eine Teilmenge $B = \{b_1, \dots, b_n\} \subseteq V$ eines K -Vektorraums V heißt *linear unabhängig*, wenn gilt:

$$\sum_{i=1}^{i=n} a_i b_i = 0, a_i \in K \iff a_i = 0 \quad \forall i,$$

d.h., der Nullvektor lässt sich nur als triviale Linearkombination der Vektoren in B schreiben.

2. Problem

Gegeben:

- ungerichteter, zusammenhängender Graph $G = (V, E)$
- aufspannender Baum $T = (V, E_T)$ in G

Fundamentalebasis B_T des Kreisraumes \mathcal{C} von G definiert als

$$B_T := \{C_e \mid e \in E \setminus E_T, C_e \in \mathcal{C}, \text{ mit} \\ E_{C_e} = \{e = \{u, v\}\} \cup \{\text{Pfadkanten von } u \text{ nach } v \text{ in } T\}\}$$

1. Zeigen Sie, dass $B_T \subseteq GF(2)^m$ linear unabhängig ist.

- Nach Definition von B_T : Jede Nichtbaumkante nur in einem Kreis in B_T enthalten.

2. Problem

Gegeben:

- ungerichteter, zusammenhängender Graph $G = (V, E)$
- aufspannender Baum $T = (V, E_T)$ in G

Fundamentalebasis B_T des Kreisraumes \mathcal{C} von G definiert als

$$B_T := \{C_e \mid e \in E \setminus E_T, C_e \in \mathcal{C}, \text{ mit} \\ E_{C_e} = \{e = \{u, v\}\} \cup \{\text{Pfadkanten von } u \text{ nach } v \text{ in } T\}\}$$

1. Zeigen Sie, dass $B_T \subseteq GF(2)^m$ linear unabhängig ist.

- Nach Definition von B_T : Jede Nichtbaumkante nur in einem Kreis in B_T enthalten.
- Annahme: Sei $\sum_{e \in E \setminus E_T} a_e C_e = 0$, mit $a_{e'} \neq 0$, für mindestens ein e' .

2. Problem

Gegeben:

- ungerichteter, zusammenhängender Graph $G = (V, E)$
- aufspannender Baum $T = (V, E_T)$ in G

Fundamentalbasis B_T des Kreisraumes \mathcal{C} von G definiert als

$$B_T := \{C_e \mid e \in E \setminus E_T, C_e \in \mathcal{C}, \text{ mit} \\ E_{C_e} = \{e = \{u, v\}\} \cup \{\text{Pfadkanten von } u \text{ nach } v \text{ in } T\}\}$$

1. Zeigen Sie, dass $B_T \subseteq GF(2)^m$ linear unabhängig ist.

- Nach Definition von B_T : Jede Nichtbaumkante nur in einem Kreis in B_T enthalten.
- Annahme: Sei $\sum_{e \in E \setminus E_T} a_e C_e = 0$, mit $a_{e'} \neq 0$, für mindestens ein e' .
- Entsprechender Kreis $C_{e'}$ enthält dann die Nichtbaumkante e' , die in keinem anderen Kreis aus B_T enthalten ist.

2. Problem

Gegeben:

- ungerichteter, zusammenhängender Graph $G = (V, E)$
- aufspannender Baum $T = (V, E_T)$ in G

Fundamentalbasis B_T des Kreisraumes \mathcal{C} von G definiert als

$$B_T := \{C_e \mid e \in E \setminus E_T, C_e \in \mathcal{C}, \text{ mit} \\ E_{C_e} = \{e = \{u, v\}\} \cup \{\text{Pfadkanten von } u \text{ nach } v \text{ in } T\}\}$$

1. Zeigen Sie, dass $B_T \subseteq GF(2)^m$ linear unabhängig ist.

- Nach Definition von B_T : Jede Nichtbaumkante nur in einem Kreis in B_T enthalten.
- Annahme: Sei $\sum_{e \in E \setminus E_T} a_e C_e = 0$, mit $a_{e'} \neq 0$, für mindestens ein e' .
- Entsprechender Kreis $C_{e'}$ enthält dann die Nichtbaumkante e' , die in keinem anderen Kreis aus B_T enthalten ist.
- Kann nicht zu Null summiert werden, da die hier betrachtete Verknüpfung die *symmetrische Differenz* ist.

Annahme ist widerlegt.

2. Problem

$E_C =$ Kanten im Kreis C .

$E_T =$ Kanten im aufspannenden Baum T .

2. Zeigen Sie, dass $B_T \subseteq GF(2)^m$ ein Erzeugendensystem von \mathcal{C} ist.

Hinweis:

Gehen Sie dabei konstruktiv vor und beschreiben Sie, wie ein beliebiger Kreis durch eine Linearkombination von Elementen aus B_T gebildet werden kann.

2. Problem

E_C = Kanten im Kreis C .

E_T = Kanten im aufspannenden Baum T .

2. Zeigen Sie, dass $B_T \subseteq GF(2)^m$ ein Erzeugendensystem von \mathcal{C} ist.

Hinweis:

Gehen Sie dabei konstruktiv vor und beschreiben Sie, wie ein beliebiger Kreis durch eine Linearkombination von Elementen aus B_T gebildet werden kann.

Behauptung: Für jeden Kreis C in G gilt: $C = \sum_{e \in E_C \setminus E_T} C_e$

Wdh.: C_e ist eindeutiger Kreis in gegebener Fundamentalebasis B_T über Nichtbaumkante e .

2. Problem

$E_C =$ Kanten im Kreis C .

$E_T =$ Kanten im aufspannenden Baum T .

2. Zeigen Sie, dass $B_T \subseteq GF(2)^m$ ein Erzeugendensystem von \mathcal{C} ist.

Hinweis:

Gehen Sie dabei konstruktiv vor und beschreiben Sie, wie ein beliebiger Kreis durch eine Linearkombination von Elementen aus B_T gebildet werden kann.

Behauptung: Für jeden Kreis C in G gilt: $C = \sum_{e \in E_C \setminus E_T} C_e$

Wdh.: C_e ist eindeutiger Kreis in gegebener Fundamentalebasis B_T über Nichtbaumkante e .

Betrachte Linearkombination $\sum_{e \in E_C \setminus E_T} C_e$ und zeige für beliebige Kante $e \in E$:

- Falls $e \in E_C$: e bleibt in Linearkombination erhalten.
- Falls $e \notin E_C$: e bleibt in Linearkombination nicht erhalten.

2. Problem

E_C = Kanten im Kreis C .

E_T = Kanten im aufspannenden Baum T .

2. Zeigen Sie, dass $B_T \subseteq GF(2)^m$ ein Erzeugendensystem von \mathcal{C} ist.

Hinweis:

Gehen Sie dabei konstruktiv vor und beschreiben Sie, wie ein beliebiger Kreis durch eine Linearkombination von Elementen aus B_T gebildet werden kann.

Behauptung: Für jeden Kreis C in G gilt: $C = \sum_{e \in E_C \setminus E_T} C_e$

Wdh.: C_e ist eindeutiger Kreis in gegebener Fundamentalebasis B_T über Nichtbaumkante e .

Betrachte Linearkombination $\sum_{e \in E_C \setminus E_T} C_e$ und zeige für beliebige Kante $e \in E$:

- Falls $e \in E_C$: e bleibt in Linearkombination erhalten.
- Falls $e \notin E_C$: e bleibt in Linearkombination nicht erhalten.

Betrachte die Fälle:

1. e ist Nichtbaumkante in C : $e \in E_C \setminus E_T$
2. e ist Baumkante in C : $e \in E_C \cap E_T$
3. e ist Nichtbaumkante außerhalb von C : $e \in E \setminus (E_C \cup E_T)$
4. e ist Baumkante außerhalb von C : $e \in E_T \setminus E_C$

2. Problem

$E_C =$ Kanten im Kreis C .

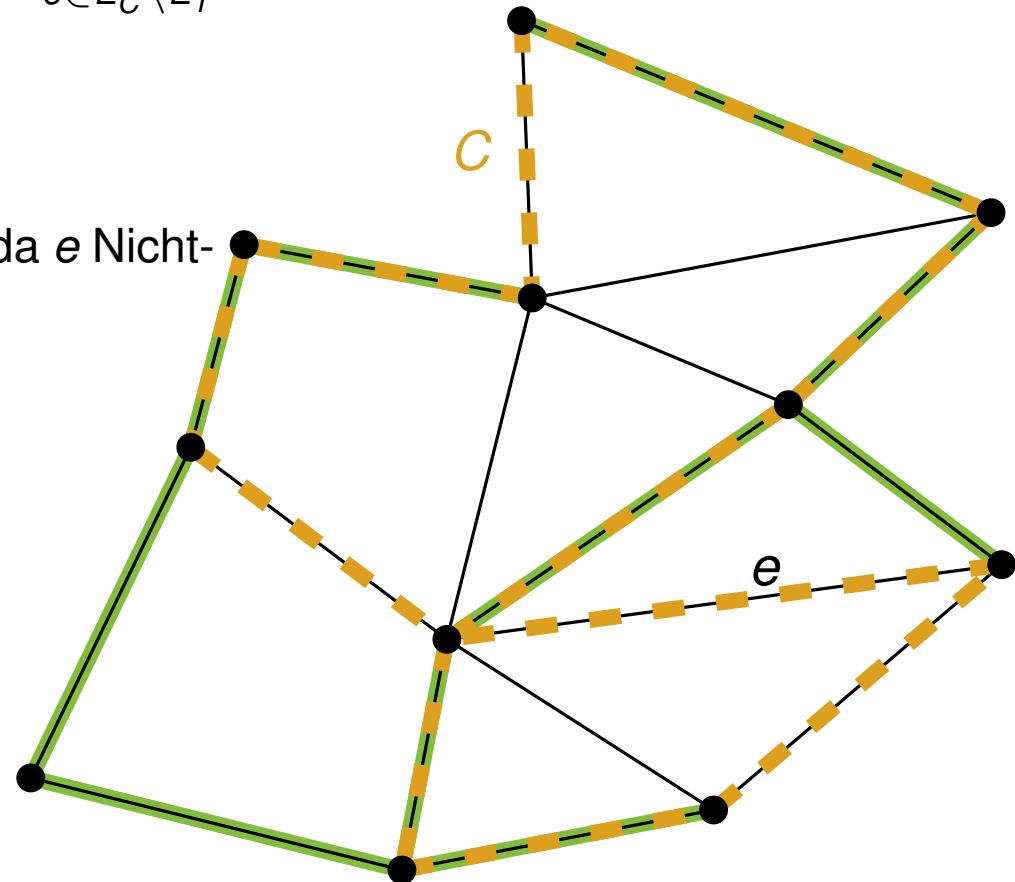
$E_T =$ Kanten im aufspannenden Baum T .

Behauptung: Für jeden Kreis C in G gilt: $C = \sum_{e \in E_C \setminus E_T} C_e$

1. Fall: $e \in E_C \setminus E_T$

- C_e kommt als Summand vor.
- e kommt nur einmal in Summe vor, da e Nichtbaumkante ist.

\Rightarrow Summe erhält e .



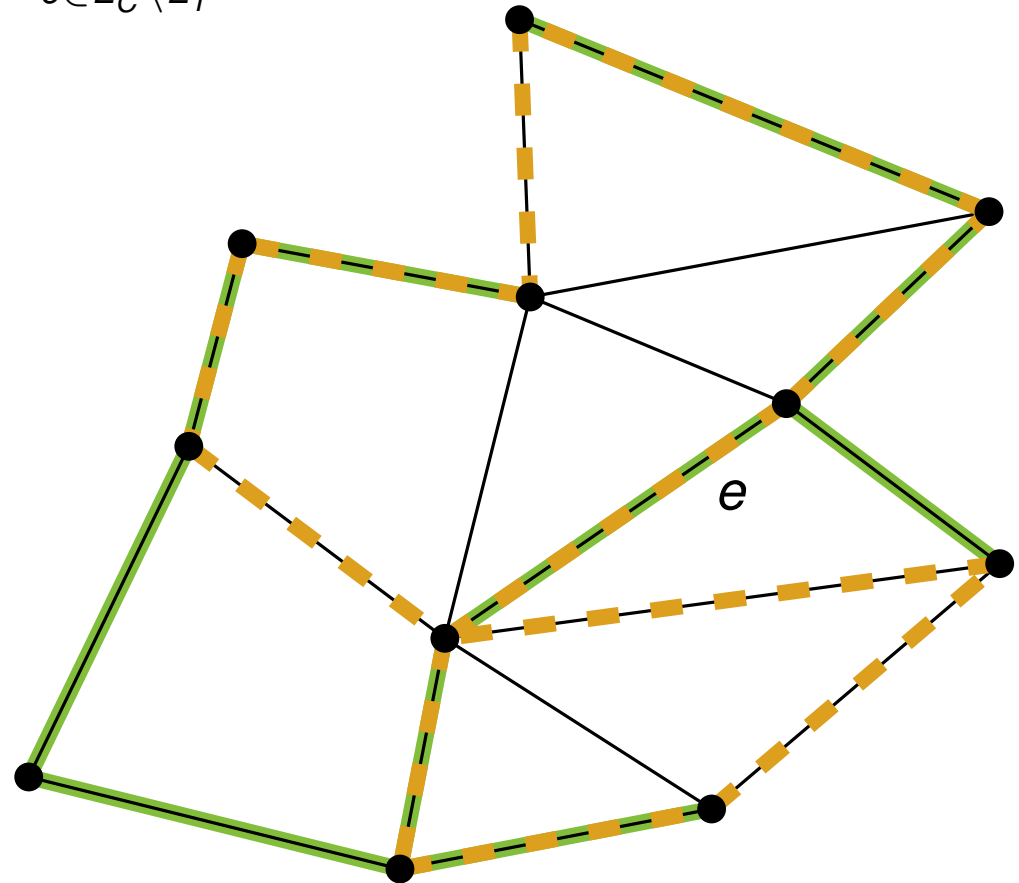
2. Problem

E_C = Kanten im Kreis C .

E_T = Kanten im aufspannenden Baum T .

Behauptung: Für jeden Kreis C in G gilt: $C = \sum_{e \in E_C \setminus E_T} C_e$

2. Fall: $e \in E_C \cap E_T$



2. Problem

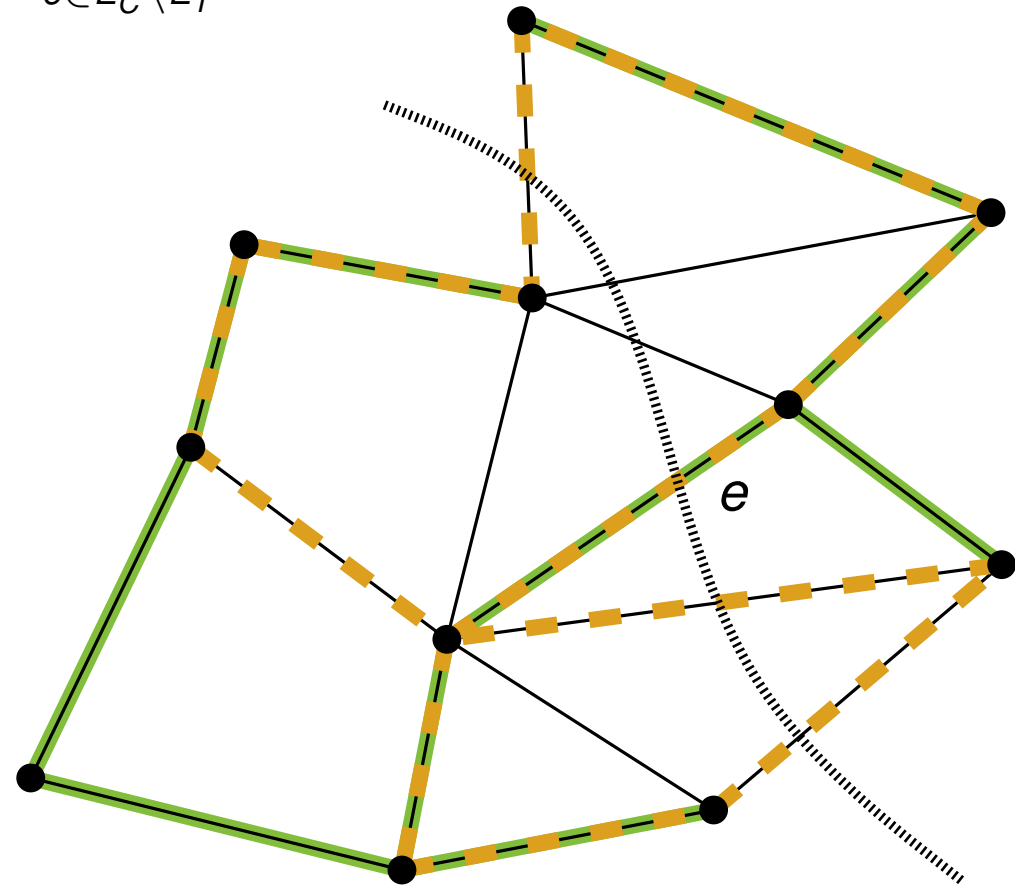
E_C = Kanten im Kreis C .

E_T = Kanten im aufspannenden Baum T .

Behauptung: Für jeden Kreis C in G gilt: $C = \sum_{e \in E_C \setminus E_T} C_e$

2. Fall: $e \in E_C \cap E_T$

- e induziert einen Schnitt, da e den Baum T in zwei Teile zertrennt.
- Die Anzahl der Kanten aus E_C , die den Schnitt kreuzen, ist **gerade**:
Gilt für jeden Schnitt und Kreis.



2. Problem

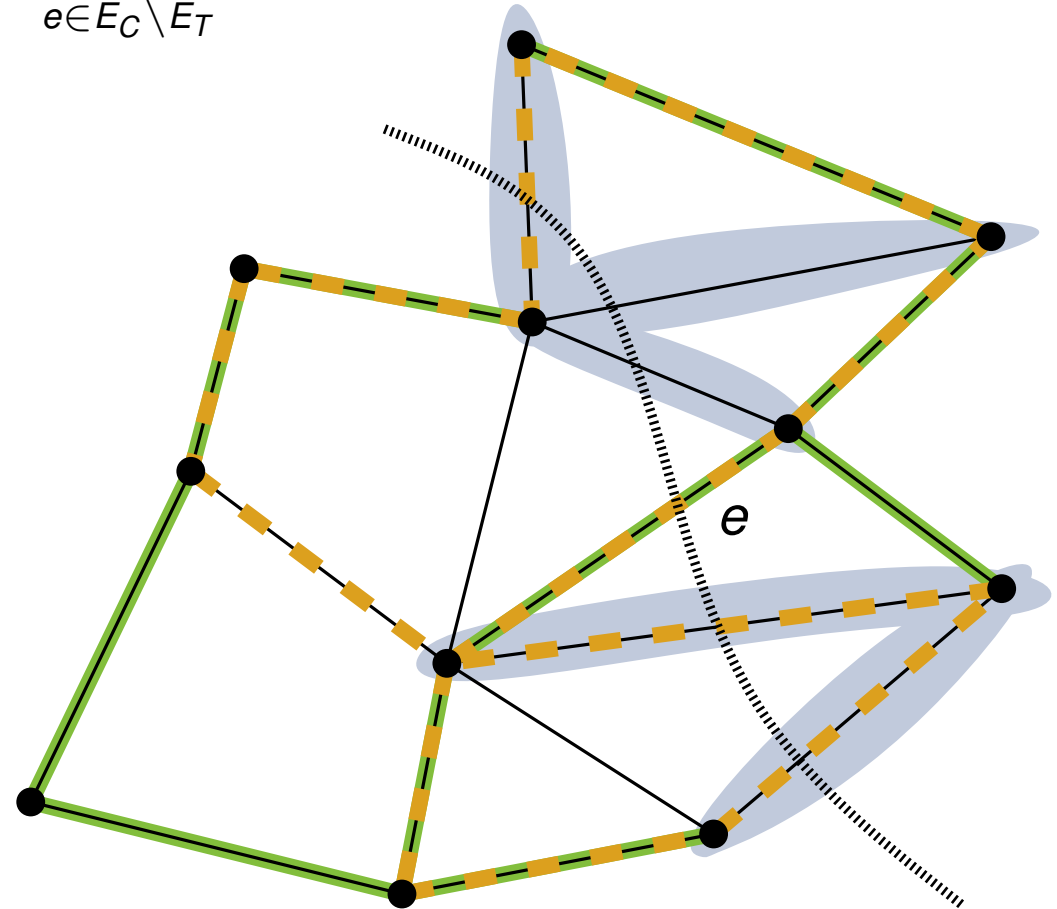
E_C = Kanten im Kreis C .

E_T = Kanten im aufspannenden Baum T .

Behauptung: Für jeden Kreis C in G gilt: $C = \sum_{e \in E_C \setminus E_T} C_e$

2. Fall: $e \in E_C \cap E_T$

- e induziert einen Schnitt, da e den Baum T in zwei Teile zertrennt.
- Die Anzahl der Kanten aus E_C , die den Schnitt kreuzen, ist **gerade**:
Gilt für jeden Schnitt und Kreis.
- Alle Kanten außer e , die den Schnitt kreuzen, sind Nichtbaumkanten.



2. Problem

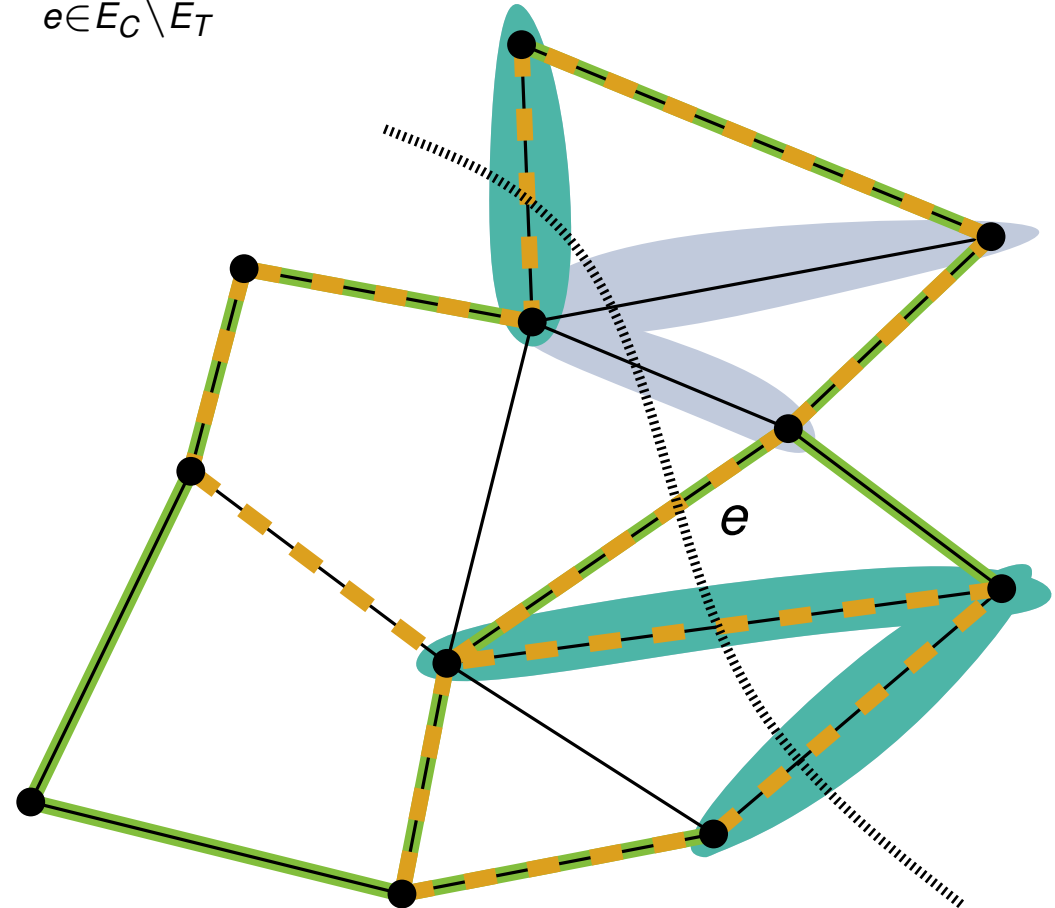
E_C = Kanten im Kreis C .

E_T = Kanten im aufspannenden Baum T .

Behauptung: Für jeden Kreis C in G gilt: $C = \sum_{e \in E_C \setminus E_T} C_e$

2. Fall: $e \in E_C \cap E_T$

- e induziert einen Schnitt, da e den Baum T in zwei Teile zertrennt.
 - Die Anzahl der Kanten aus E_C , die den Schnitt kreuzen, ist **gerade**:
Gilt für jeden Schnitt und Kreis.
 - Alle Kanten außer e , die den Schnitt kreuzen, sind Nichtbaumkanten.
- ⇒ E_C hat **ungerade** Anzahl an Nichtbaumkanten E' , die Schnitt kreuzen.



2. Problem

$E_C =$ Kanten im Kreis C .

$E_T =$ Kanten im aufspannenden Baum T .

Behauptung: Für jeden Kreis C in G gilt: $C = \sum_{e \in E_C \setminus E_T} C_e$

2. Fall: $e \in E_C \cap E_T$

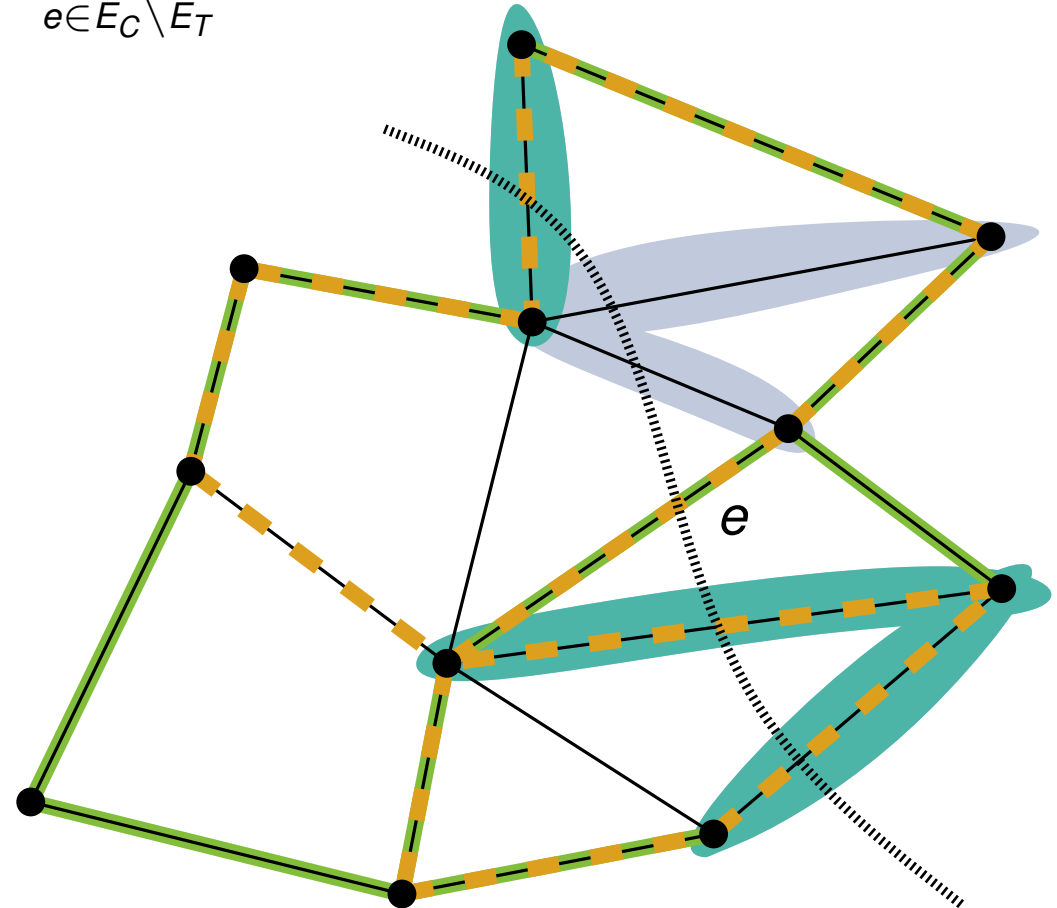
- e induziert einen Schnitt, da e den Baum T in zwei Teile zertrennt.
- Die Anzahl der Kanten aus E_C , die den Schnitt kreuzen, ist **gerade**:

Gilt für jeden Schnitt und Kreis.

- Alle Kanten außer e , die den Schnitt kreuzen, sind Nichtbaumkanten.

$\Rightarrow E_C$ hat **ungerade** Anzahl an Nichtbaumkanten E' , die Schnitt kreuzen.

$\Rightarrow E'$ bilden gerade die Kreise in B_T , die e enthalten.



2. Problem

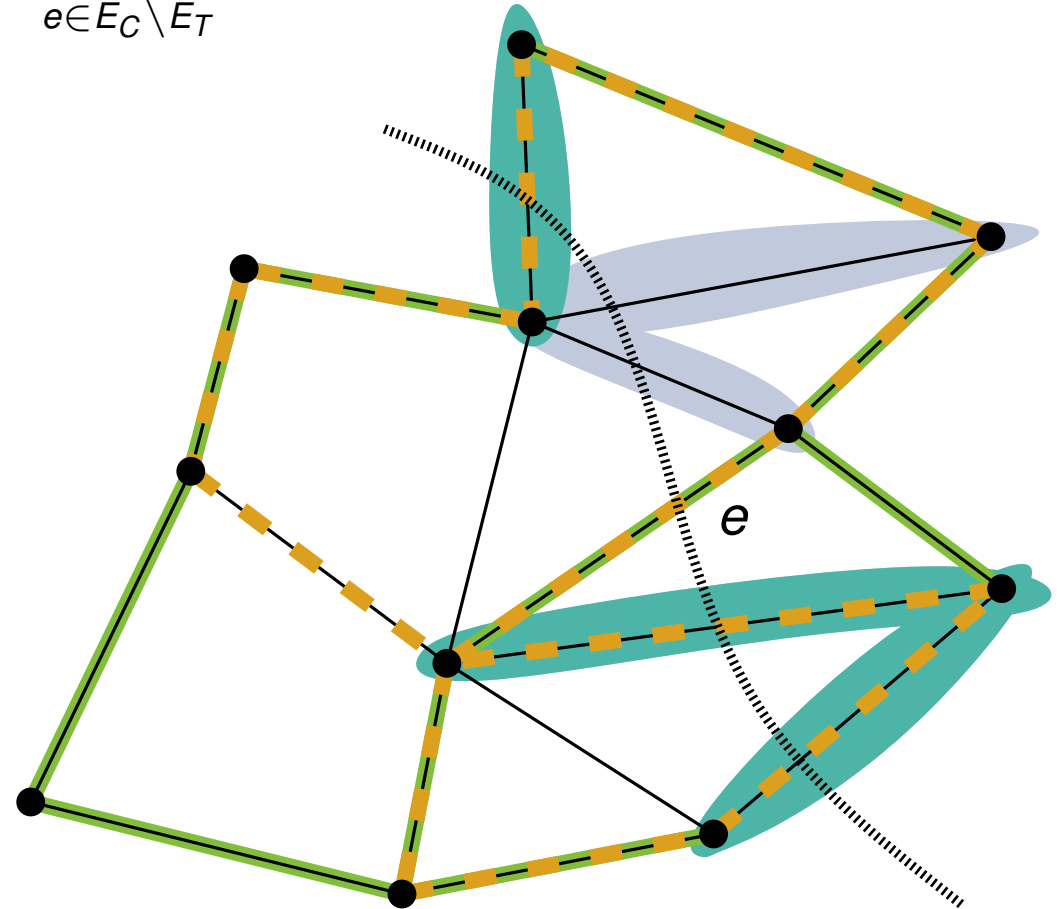
$E_C =$ Kanten im Kreis C .

$E_T =$ Kanten im aufspannenden Baum T .

Behauptung: Für jeden Kreis C in G gilt: $C = \sum_{e \in E_C \setminus E_T} C_e$

2. Fall: $e \in E_C \cap E_T$

- e induziert einen Schnitt, da e den Baum T in zwei Teile zertrennt.
 - Die Anzahl der Kanten aus E_C , die den Schnitt kreuzen, ist **gerade**:
Gilt für jeden Schnitt und Kreis.
 - Alle Kanten außer e , die den Schnitt kreuzen, sind Nichtbaumkanten.
- ⇒ E_C hat **ungerade** Anzahl an Nichtbaumkanten E' , die Schnitt kreuzen.
- ⇒ E' bilden gerade die Kreise in B_T , die e enthalten.
- ⇒ e wird nicht zu 0 summiert.



2. Problem

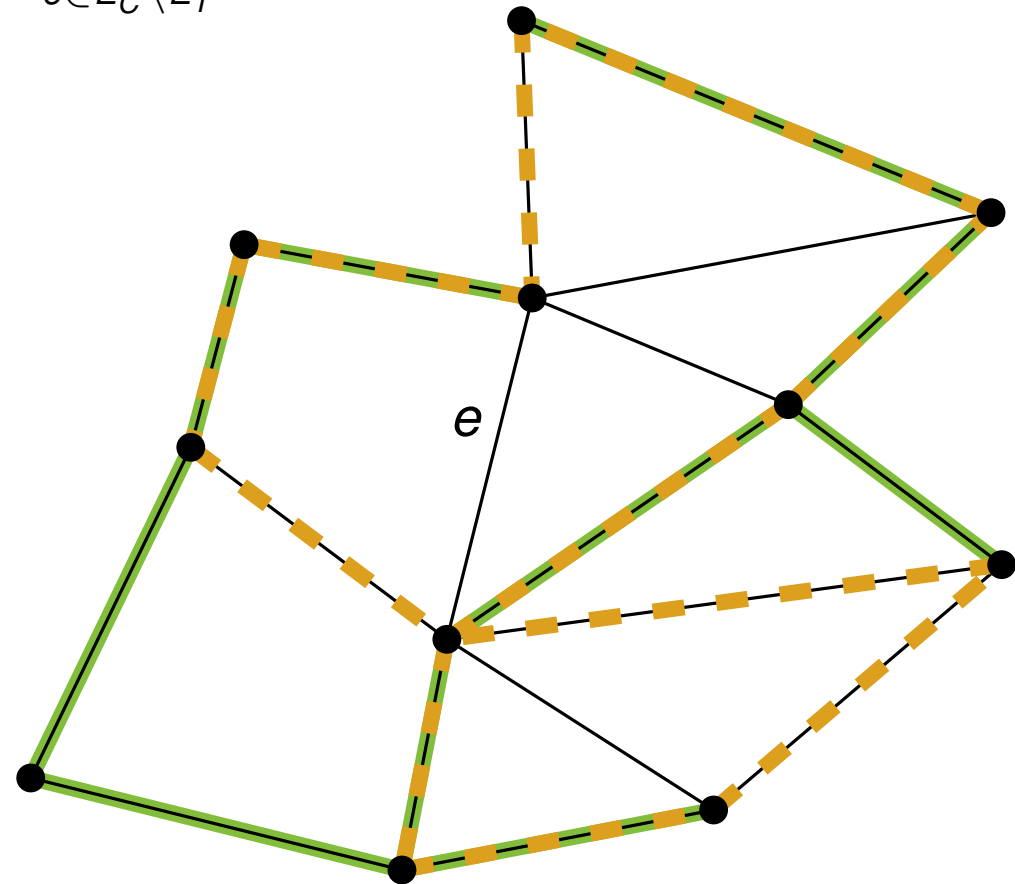
E_C = Kanten im Kreis C .

E_T = Kanten im aufspannenden Baum T .

Behauptung: Für jeden Kreis C in G gilt: $C = \sum_{e \in E_C \setminus E_T} C_e$

3. Fall: $e \in E \setminus (E_C \cup E_T)$

- Da e Nichtbaumkante, gibt es genau einen Kreis C_e in B_T .
- Da $e \notin E_C$ kommt C_e nicht in Summe vor.



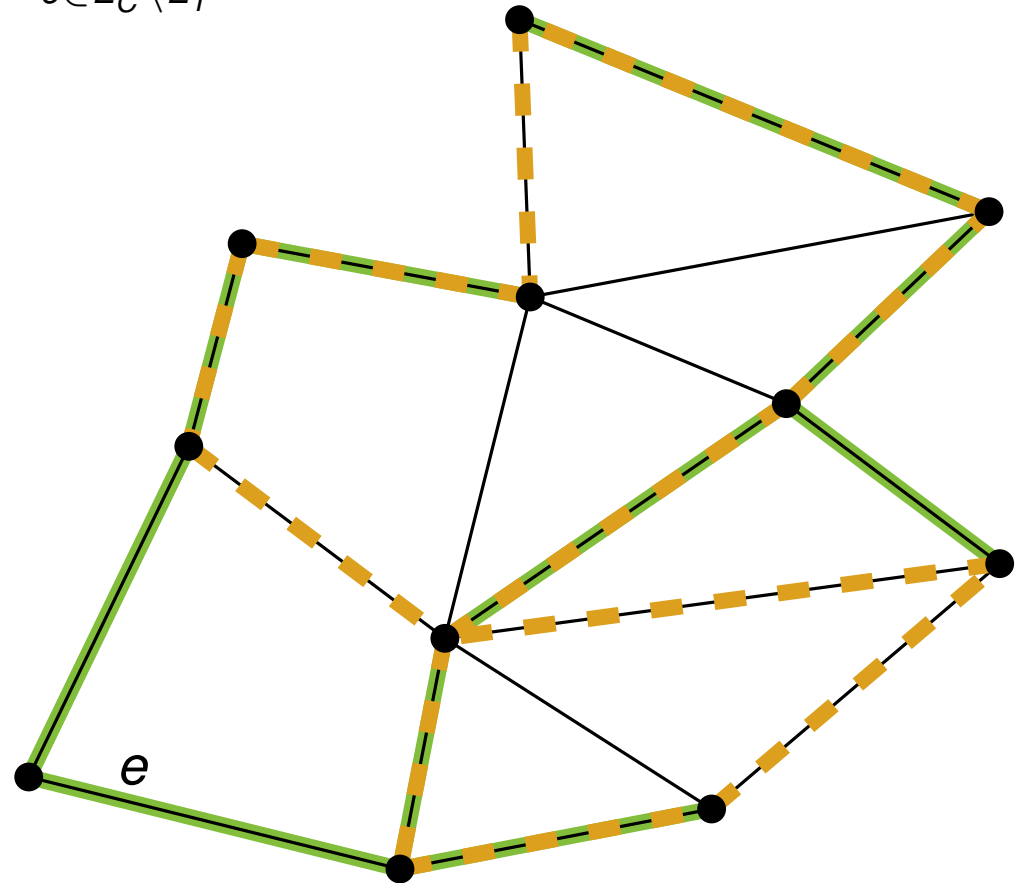
2. Problem

E_C = Kanten im Kreis C .

E_T = Kanten im aufspannenden Baum T .

Behauptung: Für jeden Kreis C in G gilt: $C = \sum_{e \in E_C \setminus E_T} C_e$

4. Fall: $e \in E_T \setminus E_C$



2. Problem

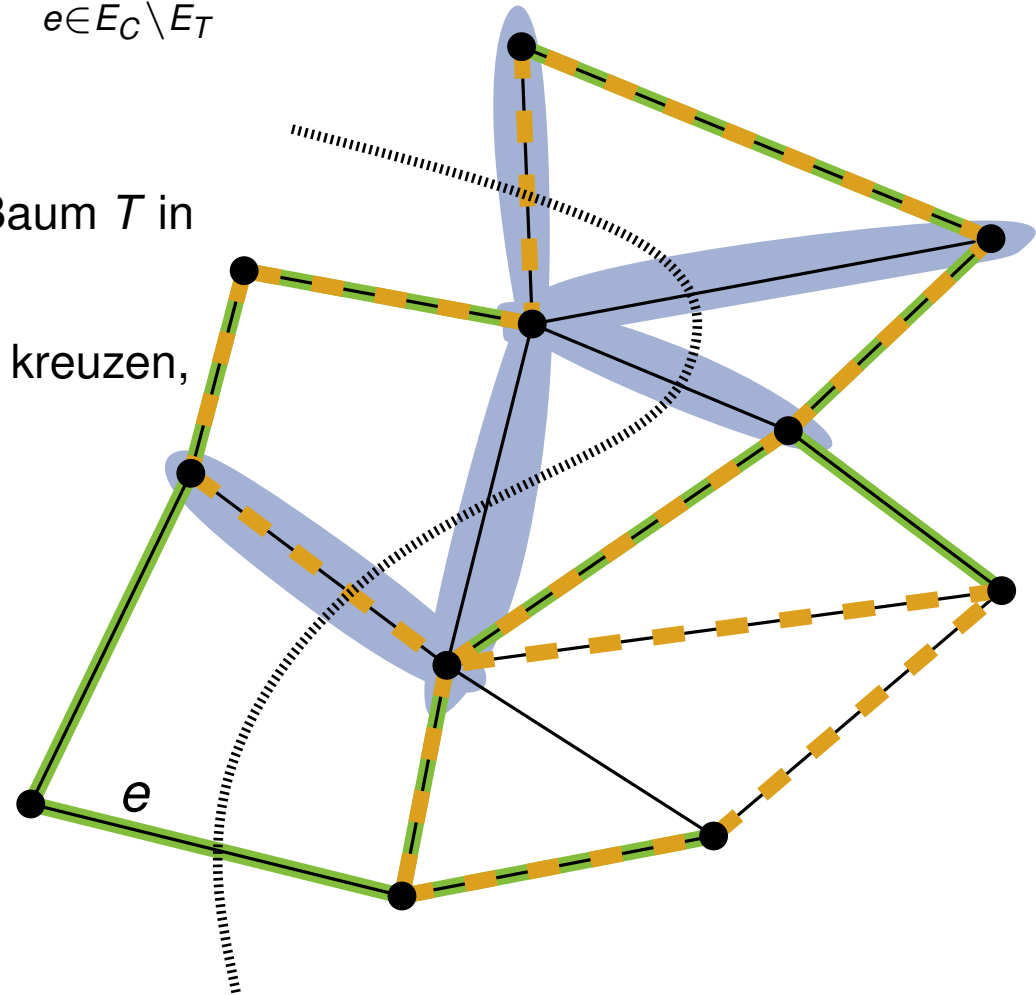
E_C = Kanten im Kreis C .

E_T = Kanten im aufspannenden Baum T .

Behauptung: Für jeden Kreis C in G gilt: $C = \sum_{e \in E_C \setminus E_T} C_e$

4. Fall: $e \in E_T \setminus E_C$

- e induziert einen Schnitt, da e den Baum T in zwei Teile zertrennt.
- Alle Kanten außer e , die den Schnitt kreuzen, sind Nichtbaumkanten.



2. Problem

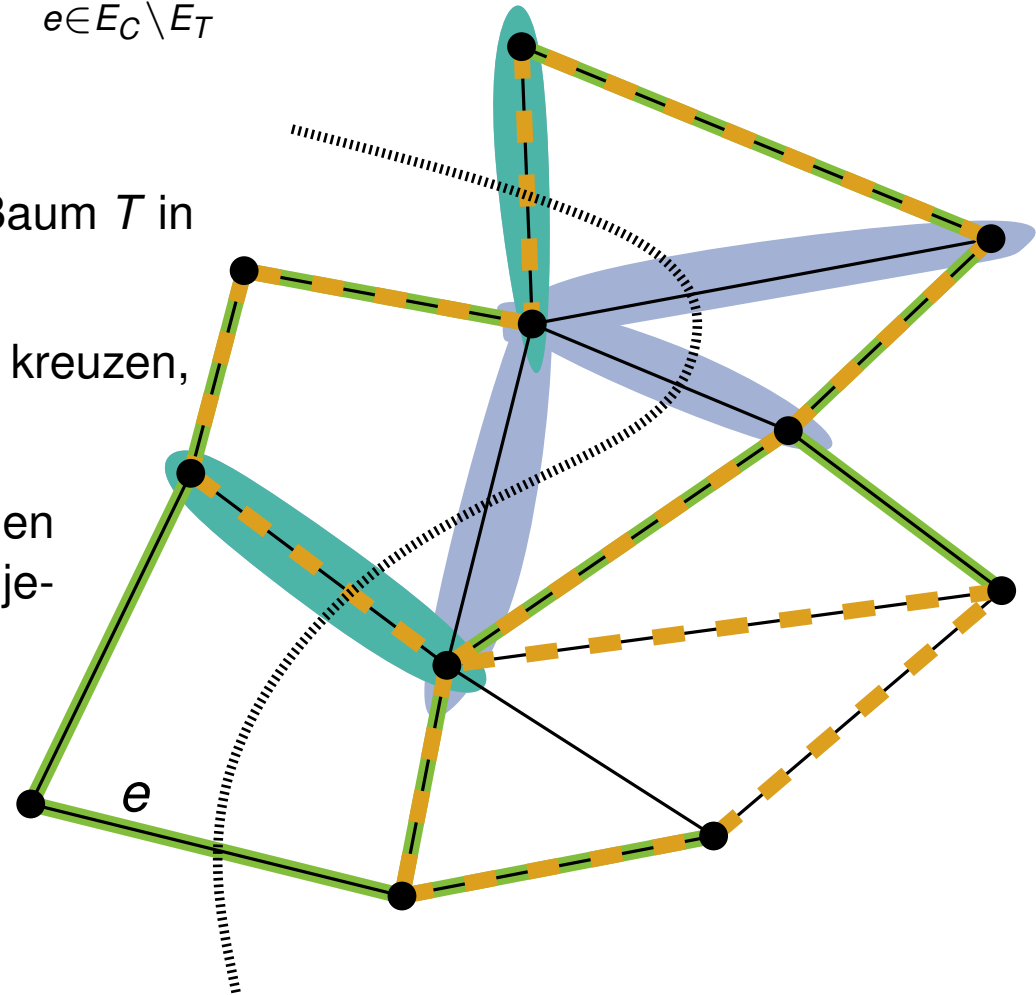
E_C = Kanten im Kreis C .

E_T = Kanten im aufspannenden Baum T .

Behauptung: Für jeden Kreis C in G gilt: $C = \sum_{e \in E_C \setminus E_T} C_e$

4. Fall: $e \in E_T \setminus E_C$

- e induziert einen Schnitt, da e den Baum T in zwei Teile zertrennt.
- Alle Kanten außer e , die den Schnitt kreuzen, sind Nichtbaumkanten.
- Die Anzahl der Kanten aus E_C , die den Schnitt kreuzen, ist gerade: Gilt für jeden Kreis und Schnitt.



2. Problem

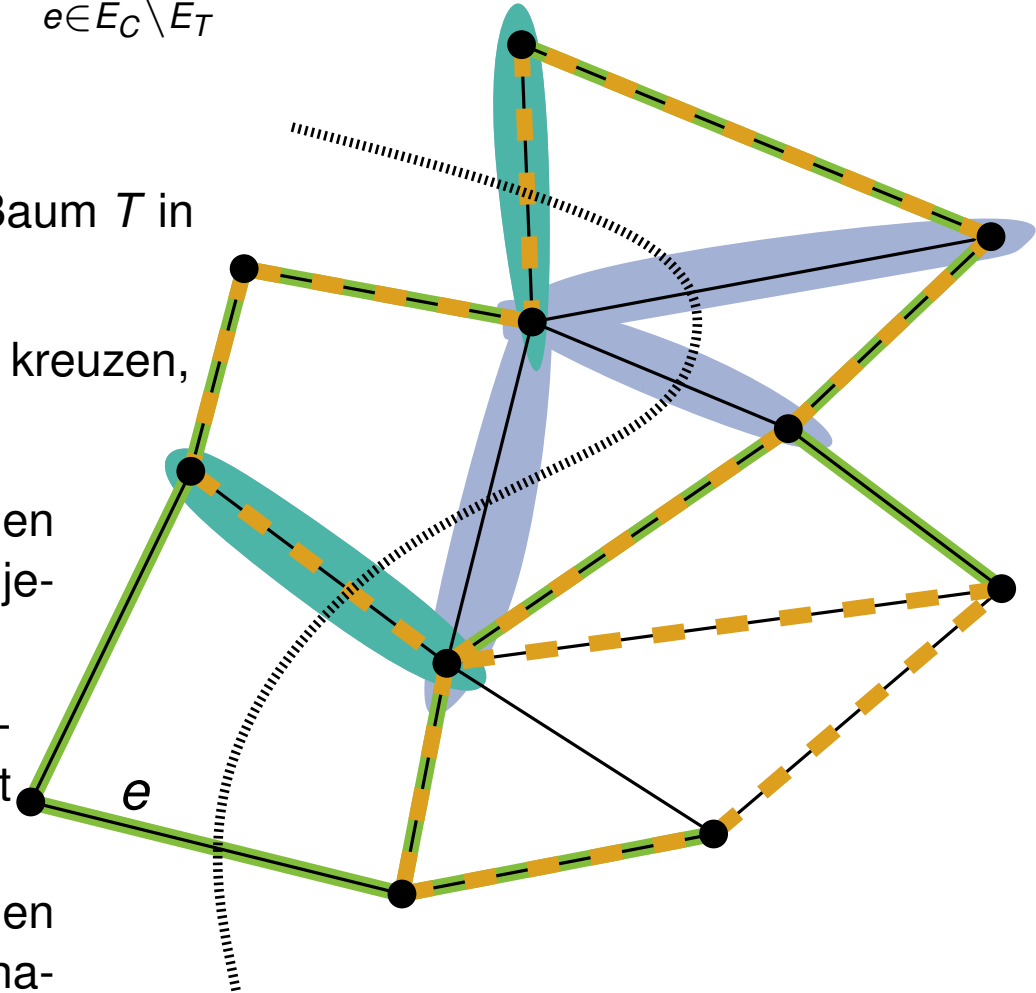
$E_C =$ Kanten im Kreis C .

$E_T =$ Kanten im aufspannenden Baum T .

Behauptung: Für jeden Kreis C in G gilt: $C = \sum_{e \in E_C \setminus E_T} C_e$

4. Fall: $e \in E_T \setminus E_C$

- e induziert einen Schnitt, da e den Baum T in zwei Teile zertrennt.
 - Alle Kanten außer e , die den Schnitt kreuzen, sind Nichtbaumkanten.
 - Die Anzahl der Kanten aus E_C , die den Schnitt kreuzen, ist gerade: Gilt für jeden Kreis und Schnitt.
- ⇒ Wegen $e \notin E_C$ ist Anzahl der Nichtbaumkanten E' in E_C die Schnitt kreuzen **gerade**.
- ⇒ Die Nichtbaumkanten E' entsprechen gerade der Kreise in Linearkombination, die e enthalten.



Folglich: e wird zu 0 aufsummiert.

2. Problem

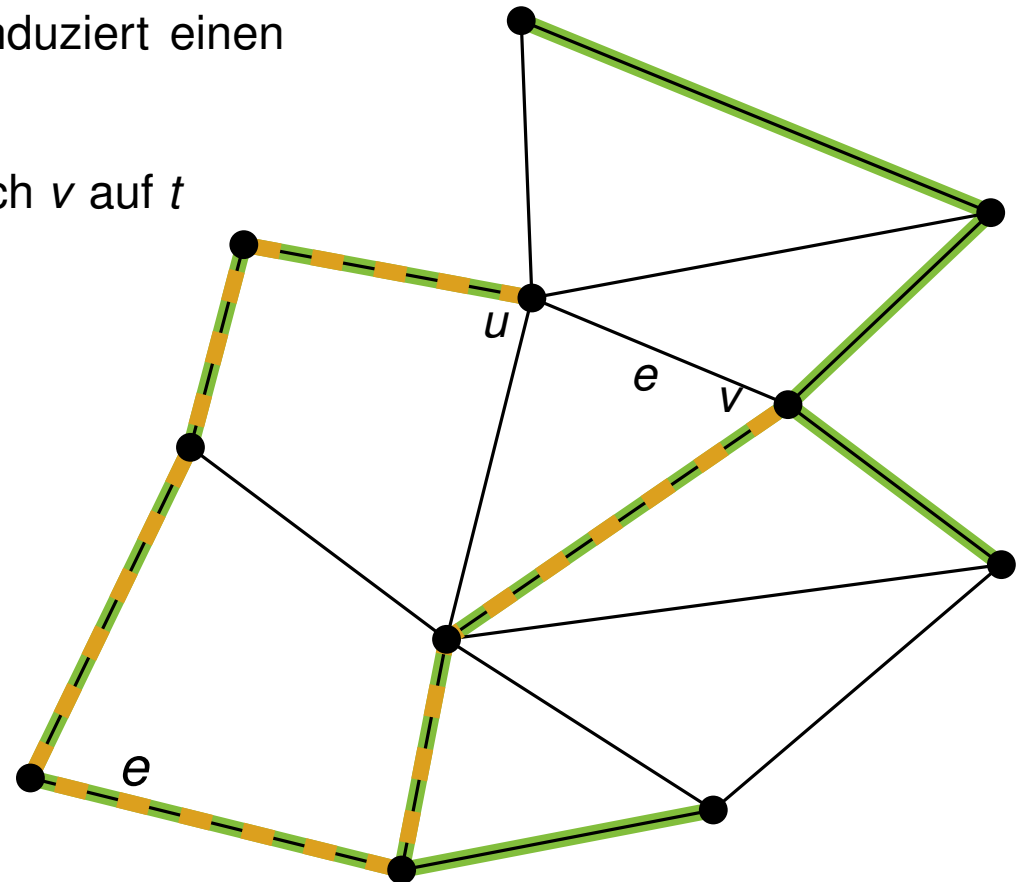
E_C = Kanten im Kreis C .

E_T = Kanten im aufspannenden Baum T .

3. Zeigen Sie, dass $|B_T| = m - n + 1$ gilt.

Beob.: Jede Nichtbaumkante $e = \{u, v\}$ induziert einen eindeutigen Kreis C_e :

$\{u, v\}$ + einfacher Weg von u nach v auf t



2. Problem

E_C = Kanten im Kreis C .

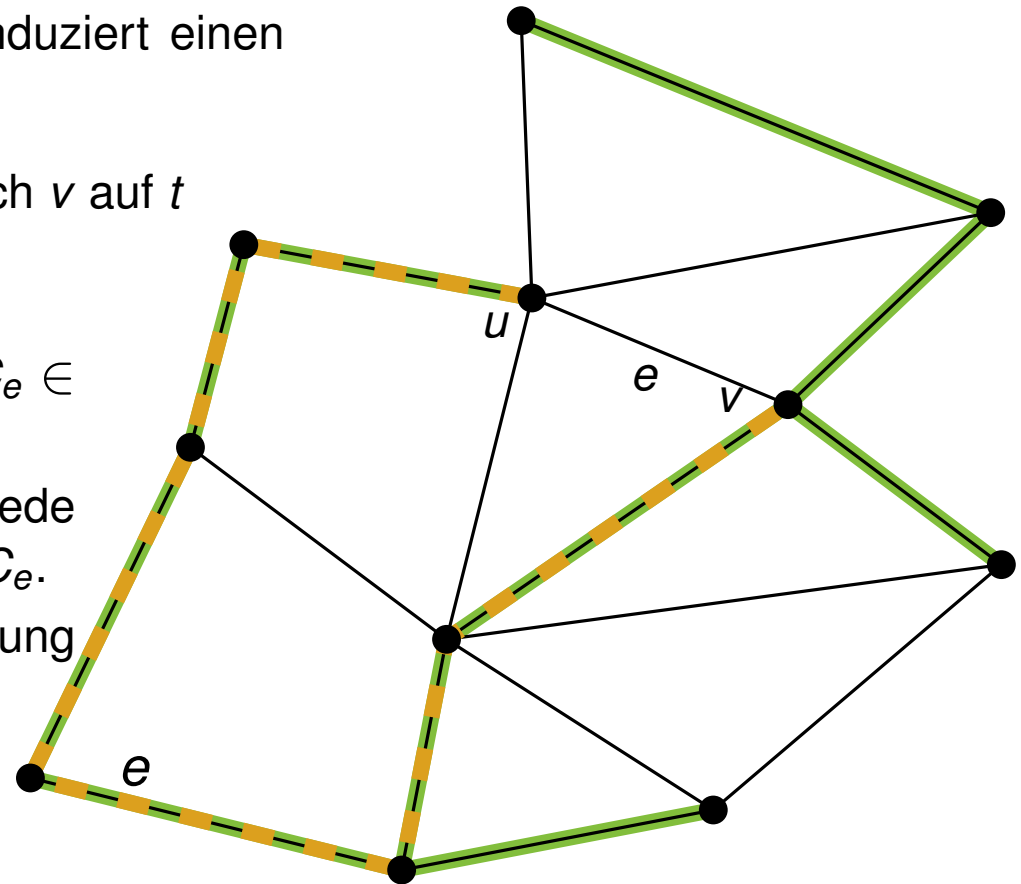
E_T = Kanten im aufspannenden Baum T .

3. Zeigen Sie, dass $|B_T| = m - n + 1$ gilt.

Beob.: Jede Nichtbaumkante $e = \{u, v\}$ induziert einen eindeutigen Kreis C_e :

$\{u, v\}$ + einfacher Weg von u nach v auf t

- Wir zeigen zuerst: $|B_T| = |E \setminus E_T|$
 - Nach Konstruktion enthält jeder Kreis $C_e \in B_T$ genau eine Nichtbaumkante.
 - Wegen obiger Beobachtung induziert jede Nichtbaumkante e genau einen Kreis C_e .
- ⇒ wegen bijektiver Mengenentsprechung folgt $|B_T| = |E \setminus E_T|$



2. Problem

E_C = Kanten im Kreis C .

E_T = Kanten im aufspannenden Baum T .

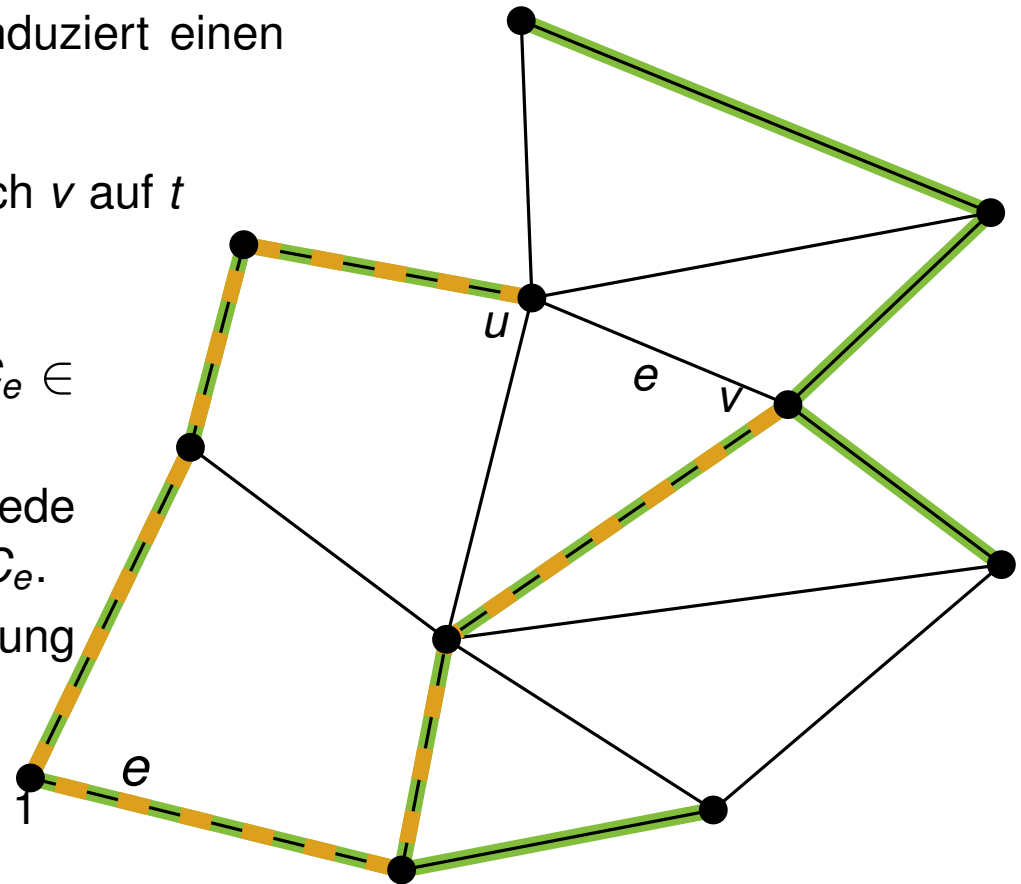
3. Zeigen Sie, dass $|B_T| = m - n + 1$ gilt.

Beob.: Jede Nichtbaumkante $e = \{u, v\}$ induziert einen eindeutigen Kreis C_e :

$\{u, v\}$ + einfacher Weg von u nach v auf t

- Wir zeigen zuerst: $|B_T| = |E \setminus E_T|$
 - Nach Konstruktion enthält jeder Kreis $C_e \in B_T$ genau eine Nichtbaumkante.
 - Wegen obiger Beobachtung induziert jede Nichtbaumkante e genau einen Kreis C_e .
- ⇒ wegen bijektiver Mengenentsprechung folgt $|B_T| = |E \setminus E_T|$
- Aufspannender Baum in Graph hat $n - 1$ Kanten. Damit gilt

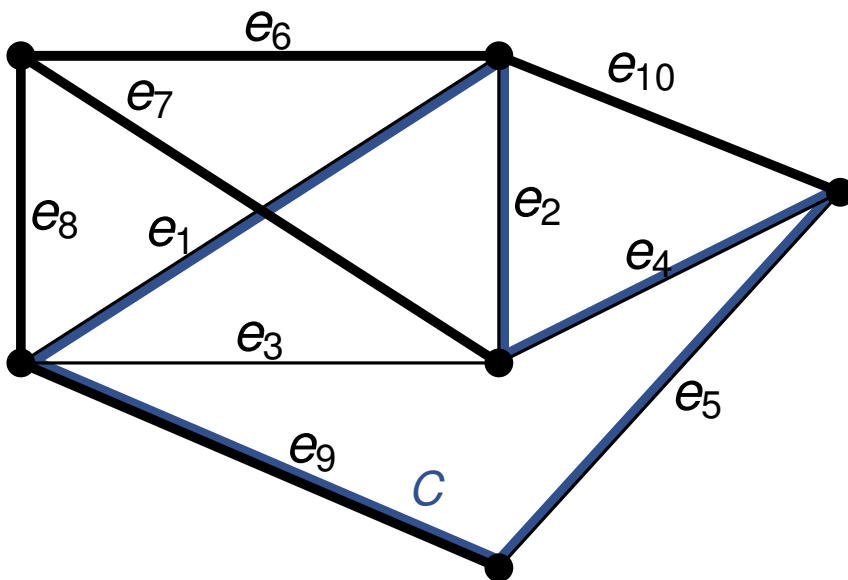
$$|B_T| = |E \setminus E_T| = m - n + 1$$



Algorithmus von De Pina

Betrachte Kreise als Inzidenzvektoren über E mit Einschränkung auf die Nichtbaumkanten $\{e_1, \dots, e_N\}$.

Beispiel: Kreise werden mithilfe der Nichtbaumkanten e_1, e_2, e_3, e_4 und e_5 beschrieben.



$$C = \begin{pmatrix} 1 \\ 1 \\ 0 \\ 1 \\ 1 \end{pmatrix} \begin{matrix} e_1 \\ \vdots \\ e_5 \end{matrix}$$

Kreis C kann mithilfe der Fundamentalkreise C_i (C_i =Fundamentalkreis der Nichtbaumkante e_i) rekonstruiert werden.

$$C = C_1 \oplus C_2 \oplus C_4 \oplus C_5$$

Algorithmus von de Pina

Eingabe: Graph $G = (V, E)$, aufspannenden Baum $T = \{e_1, \dots, e_N\}$

Ausgabe: MCB von G

for $i = 1$ bis N **do**

$S_i \leftarrow \{e_i\}$

for $k = 1$ bis N **do**

 Finde einen kürzesten Kreis C_k mit $\langle C_k, S_k \rangle = 1$

for $i = k + 1$ bis N **do**

if $\langle C_k, S_i \rangle = 1$ **then**

$S_i \leftarrow S_i \oplus S_k$

Ausgabe ist: $\{C_1, \dots, C_N\}$

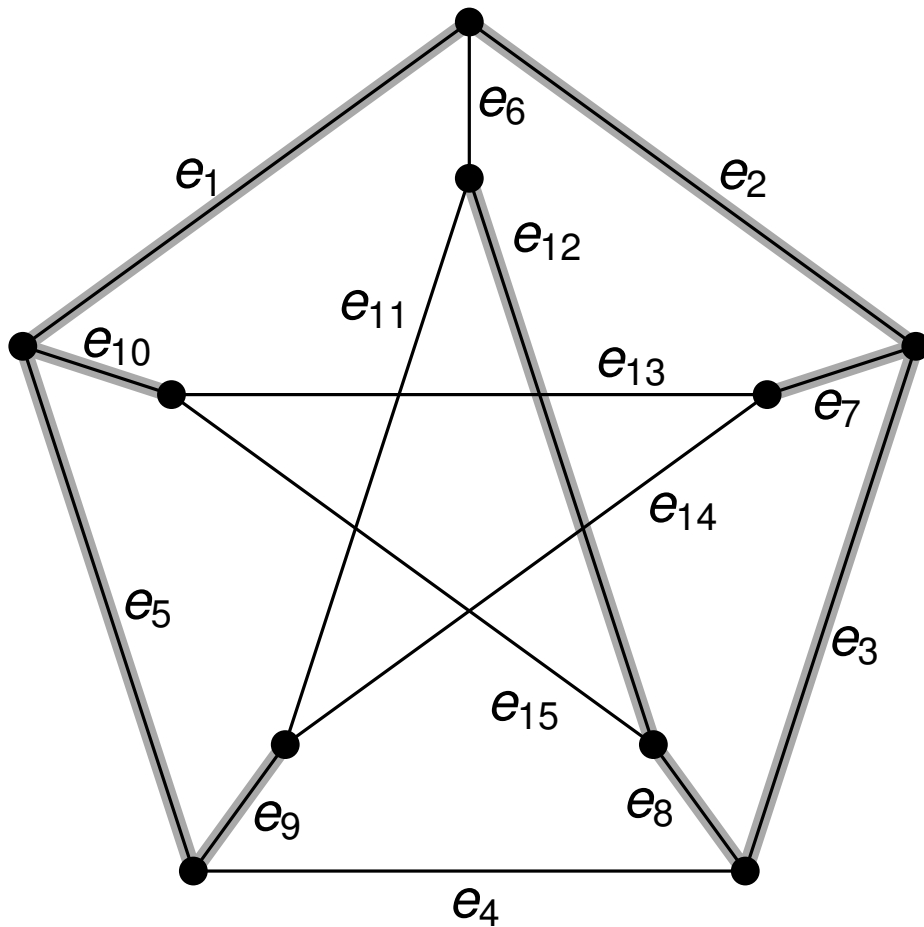
Definiere Bilinearform zweier Vektoren C und S : $\langle C, S \rangle := \sum_{i=1}^N (c_i \cdot s_i)$

Produkt und Summe sind über $\text{GF}(2)$ definiert.

C und S sind *orthogonal* zueinander genau dann, wenn $\langle C, S \rangle = 0$.

$\langle C, S \rangle = 1$ genau dann, wenn C eine ungerade Anzahl Einträge (Kreise) mit S gemeinsam hat.

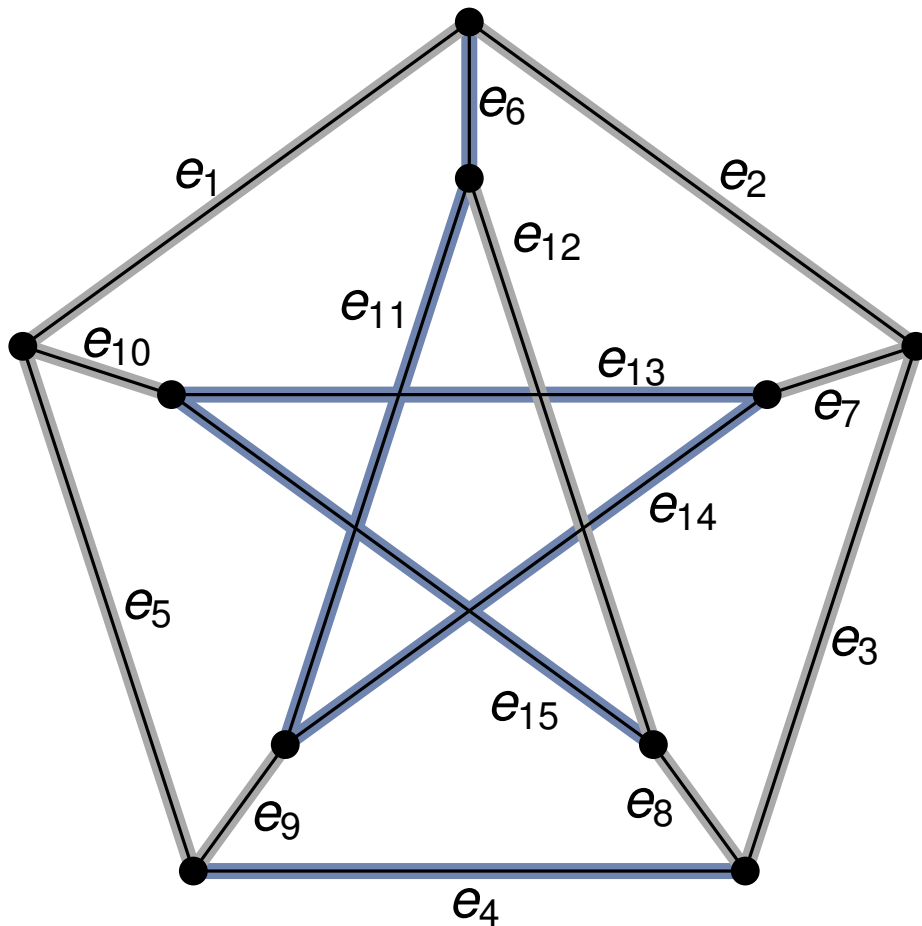
Problem 1



Peterson-Graph

Gewicht pro Kante: 3

Problem 1



Peterson-Graph

Gewicht pro Kante: 3

1. Schritt: Initialisierung mit Nichtbaumkanten

$$S_1 = \{e_4\}$$

$$S_2 = \{e_6\}$$

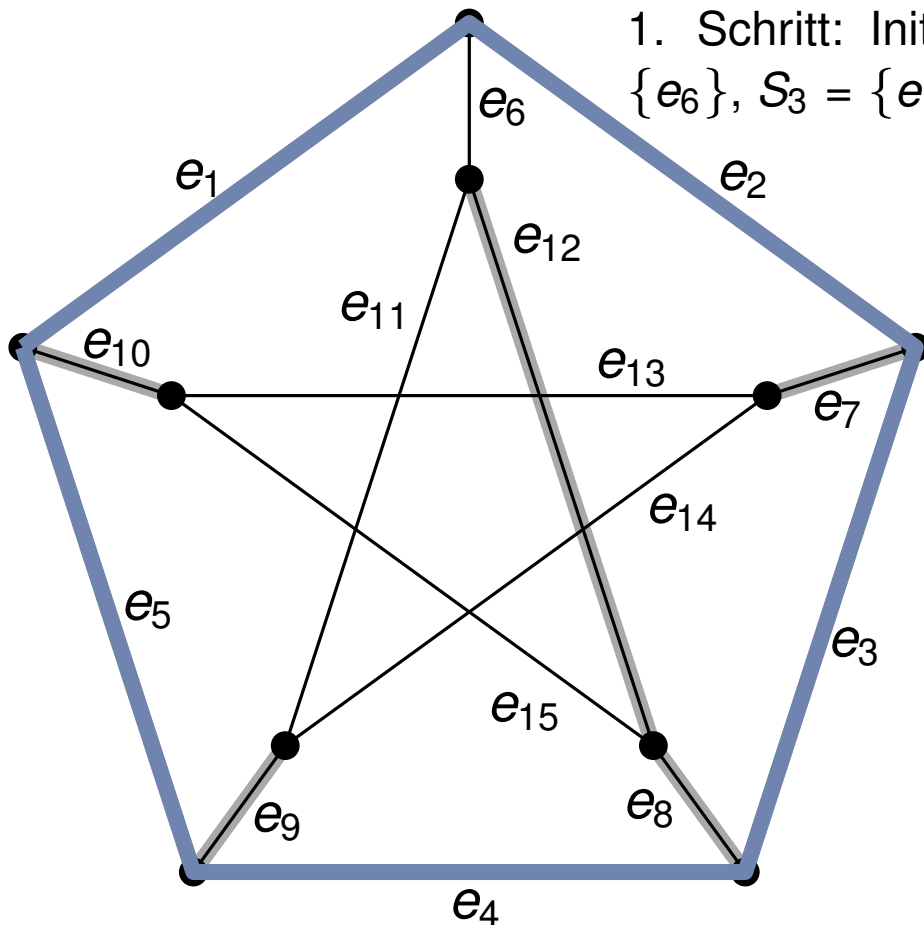
$$S_3 = \{e_{11}\}$$

$$S_4 = \{e_{13}\}$$

$$S_5 = \{e_{14}\}$$

$$S_6 = \{e_{15}\}$$

Problem 1



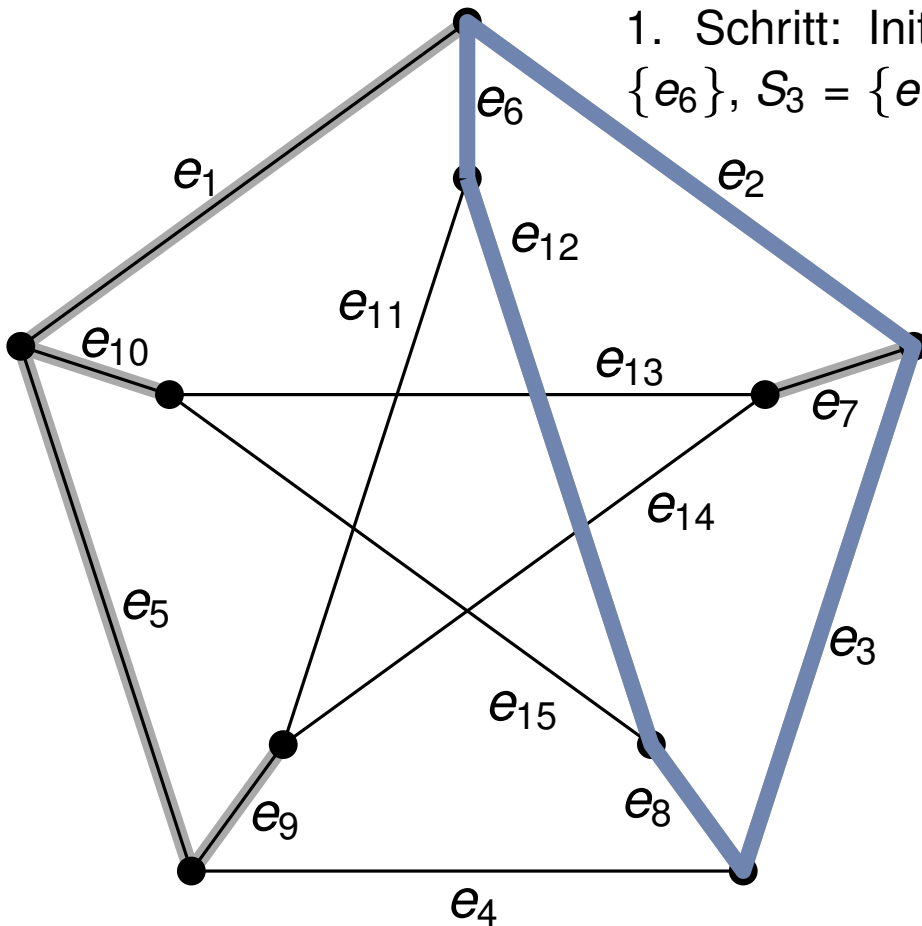
1. Schritt: Initialisierung mit Nichtbaumkanten $S_1 = \{e_4\}$, $S_2 = \{e_6\}$, $S_3 = \{e_{11}\}$, $S_4 = \{e_{13}\}$, $S_5 = \{e_{14}\}$, $S_6 = \{e_{15}\}$

$k = 1$: Wähle $C_1 = \{e_1, e_2, e_3, e_4, e_5\}$, $w(C_1) = 15$
Für $i = 2 \dots 6$ gibt es kein S_i mit $\langle C_1, S_i \rangle = 1$

Peterson-Graph

Gewicht pro Kante: 3

Problem 1



Peterson-Graph

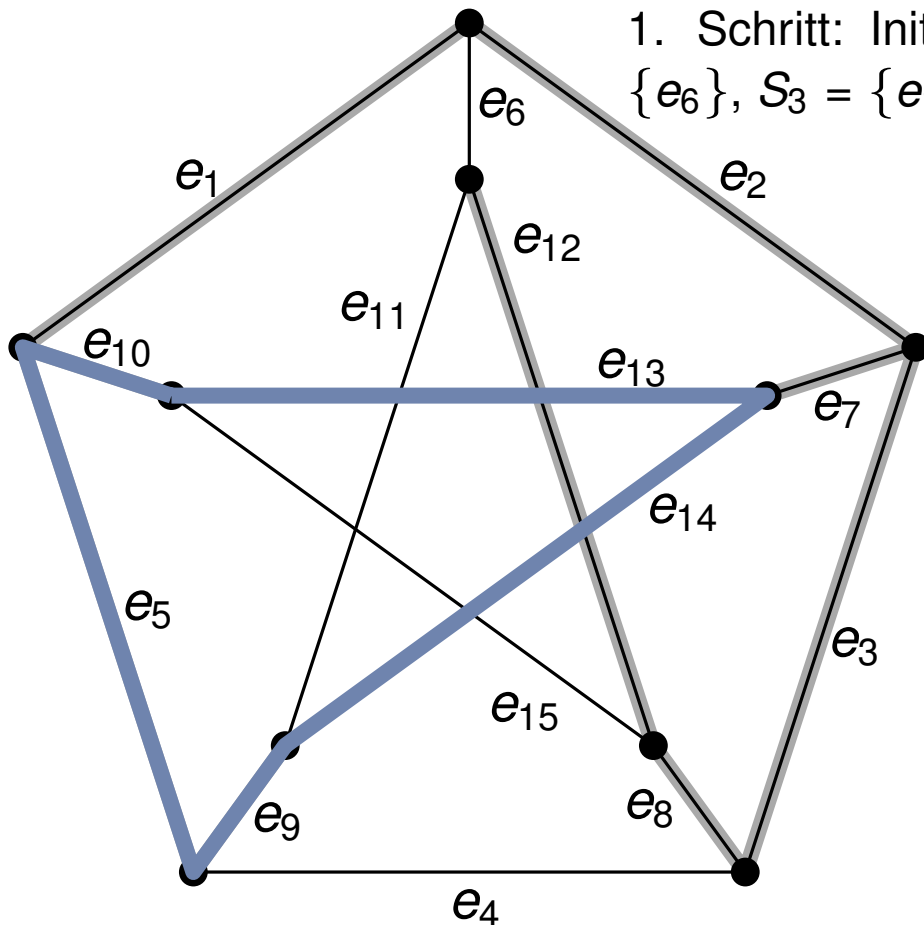
Gewicht pro Kante: 3

1. Schritt: Initialisierung mit Nichtbaumkanten $S_1 = \{e_4\}$, $S_2 = \{e_6\}$, $S_3 = \{e_{11}\}$, $S_4 = \{e_{13}\}$, $S_5 = \{e_{14}\}$, $S_6 = \{e_{15}\}$

$k = 1$: Wähle $C_1 = \{e_1, e_2, e_3, e_4, e_5\}$, $w(C_1)=15$
Für $i=2 \dots 6$ gibt es kein S_i mit $\langle C_1, S_i \rangle = 1$

$k = 2$: Wähle $C_2 = \{e_6, e_2, e_3, e_8, e_{12}\}$, $w(C_2)=15$
Für $i=3 \dots 6$ gibt es kein S_i mit $\langle C_2, S_i \rangle = 1$

Problem 1



Peterson-Graph

Gewicht pro Kante: 3

1. Schritt: Initialisierung mit Nichtbaumkanten $S_1 = \{e_4\}$, $S_2 = \{e_6\}$, $S_3 = \{e_{11}\}$, $S_4 = \{e_{13}\}$, $S_5 = \{e_{14}\}$, $S_6 = \{e_{15}\}$

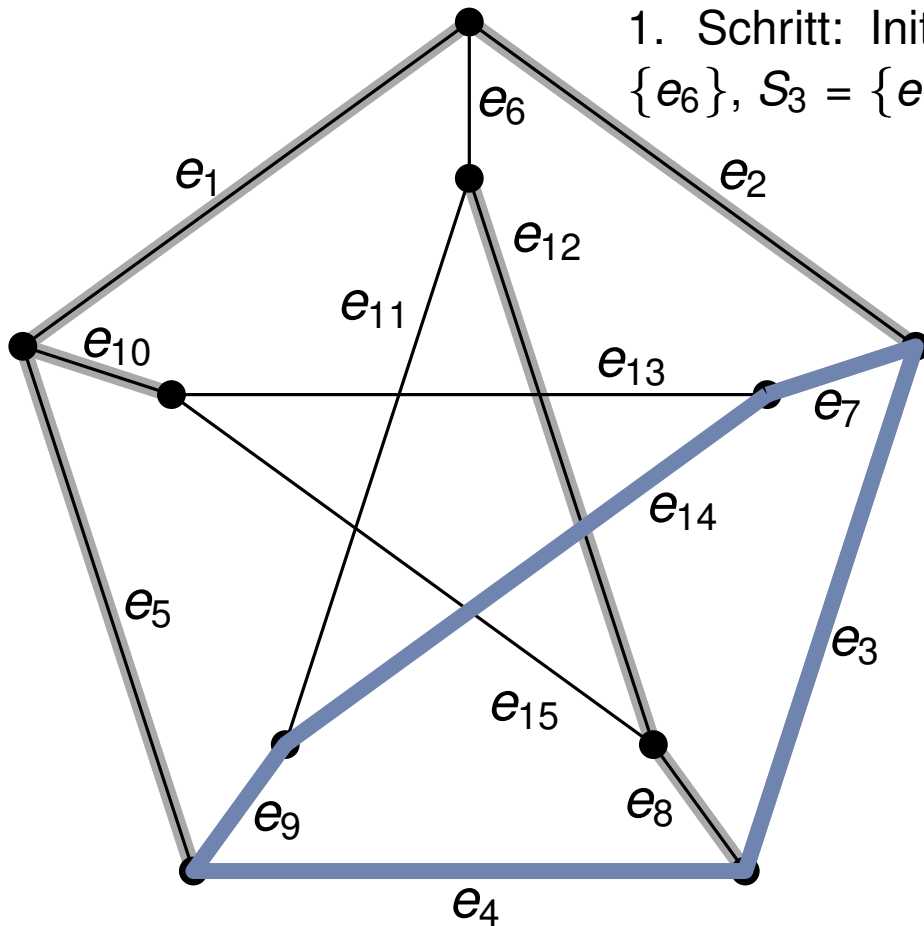
k = 1: Wähle $C_1 = \{e_1, e_2, e_3, e_4, e_5\}$, $w(C_1)=15$
Für $i=2 \dots 6$ gibt es kein S_i mit $\langle C_1, S_i \rangle = 1$

k = 2: Wähle $C_2 = \{e_6, e_2, e_3, e_8, e_{12}\}$, $w(C_2)=15$
Für $i=3 \dots 6$ gibt es kein S_i mit $\langle C_2, S_i \rangle = 1$

k = 3: Wähle $C_3 = \{e_{11}, e_6, e_1, e_5, e_9\}$, $w(C_3)=15$
Für $i=4 \dots 6$ gibt es kein S_i mit $\langle C_3, S_i \rangle = 1$

k = 4: Wähle $C_4 = \{e_{13}, e_{14}, e_9, e_5, e_{10}\}$, $w(C_4)=15$
 $\langle C_4, S_5 \rangle = 1$, $S_5 := S_5 \oplus S_4 = \{e_{13}, e_{14}\}$

Problem 1



Peterson-Graph

Gewicht pro Kante: 3

1. Schritt: Initialisierung mit Nichtbaumkanten $S_1 = \{e_4\}$, $S_2 = \{e_6\}$, $S_3 = \{e_{11}\}$, $S_4 = \{e_{13}\}$, $S_5 = \{e_{14}\}$, $S_6 = \{e_{15}\}$

k = 1: Wähle $C_1 = \{e_1, e_2, e_3, e_4, e_5\}$, $w(C_1)=15$
Für $i=2 \dots 6$ gibt es kein S_i mit $\langle C_1, S_i \rangle = 1$

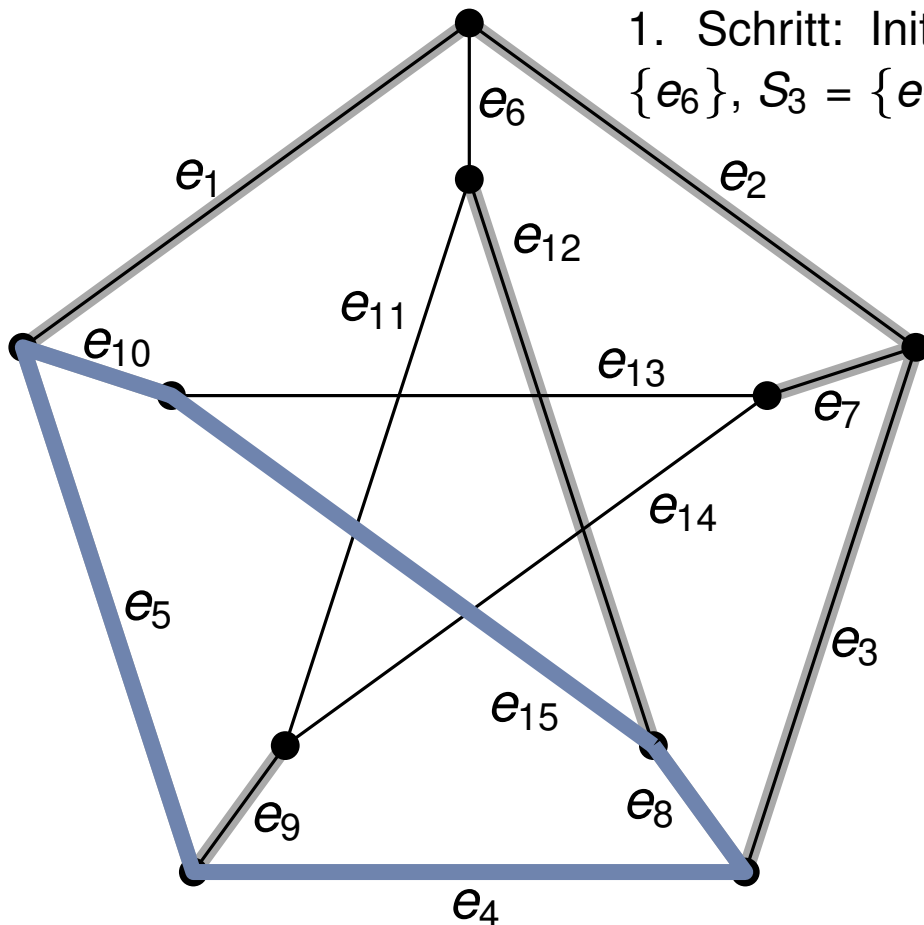
k = 2: Wähle $C_2 = \{e_6, e_2, e_3, e_8, e_{12}\}$, $w(C_2)=15$
Für $i=3 \dots 6$ gibt es kein S_i mit $\langle C_2, S_i \rangle = 1$

k = 3: Wähle $C_3 = \{e_{11}, e_6, e_1, e_5, e_9\}$, $w(C_3)=15$
Für $i=4 \dots 6$ gibt es kein S_i mit $\langle C_3, S_i \rangle = 1$

k = 4: Wähle $C_4 = \{e_{13}, e_{14}, e_9, e_5, e_{10}\}$, $w(C_4)=15$
 $\langle C_4, S_5 \rangle = 1$, $S_5 := S_5 \oplus S_4 = \{e_{13}, e_{14}\}$

k = 5: Wähle $C_5 = \{e_{14}, e_9, e_4, e_3, e_7\}$, $w(C_5)=15$
 $\langle C_5, S_6 \rangle = 0$

Problem 1



Peterson-Graph

Gewicht pro Kante: 3

1. Schritt: Initialisierung mit Nichtbaumkanten $S_1 = \{e_4\}$, $S_2 = \{e_6\}$, $S_3 = \{e_{11}\}$, $S_4 = \{e_{13}\}$, $S_5 = \{e_{14}\}$, $S_6 = \{e_{15}\}$

k = 1: Wähle $C_1 = \{e_1, e_2, e_3, e_4, e_5\}$, $w(C_1)=15$
Für $i=2 \dots 6$ gibt es kein S_i mit $\langle C_1, S_i \rangle = 1$

k = 2: Wähle $C_2 = \{e_6, e_2, e_3, e_8, e_{12}\}$, $w(C_2)=15$
Für $i=3 \dots 6$ gibt es kein S_i mit $\langle C_2, S_i \rangle = 1$

k = 3: Wähle $C_3 = \{e_{11}, e_6, e_1, e_5, e_9\}$, $w(C_3)=15$
Für $i=4 \dots 6$ gibt es kein S_i mit $\langle C_3, S_i \rangle = 1$

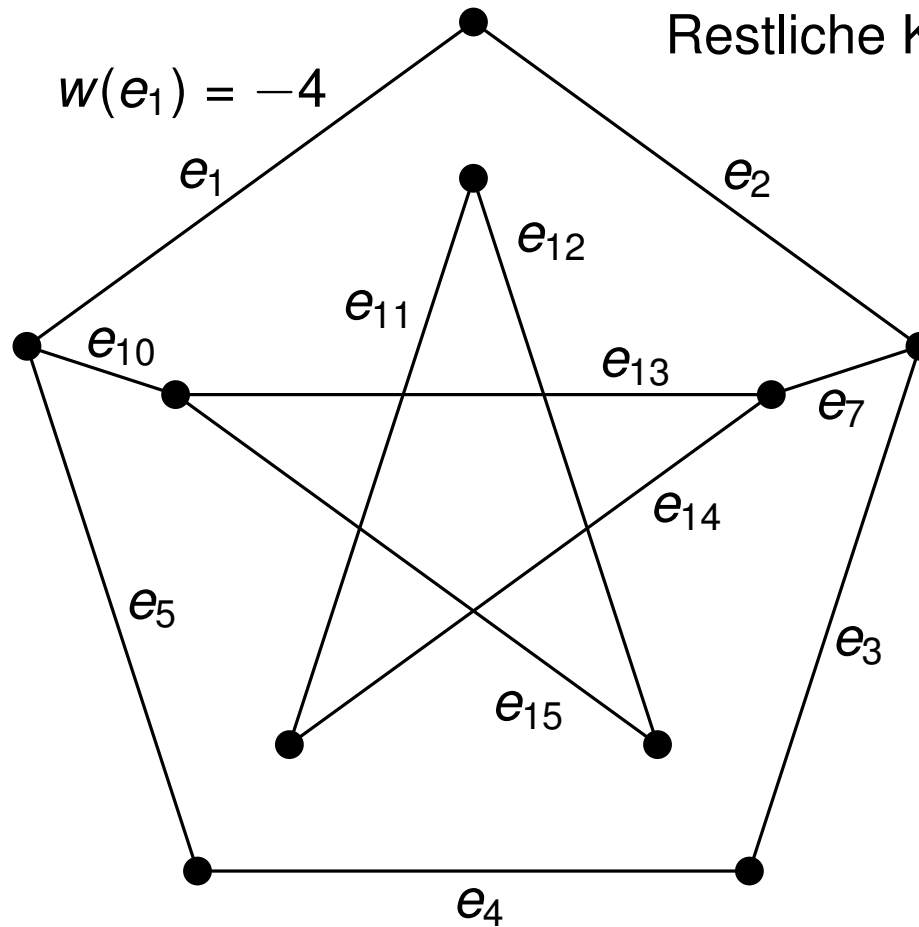
k = 4: Wähle $C_4 = \{e_{13}, e_{14}, e_9, e_5, e_{10}\}$, $w(C_4)=15$
 $\langle C_4, S_5 \rangle = 1$, $S_5 := S_5 \oplus S_4 = \{e_{13}, e_{14}\}$

k = 5: Wähle $C_5 = \{e_{14}, e_9, e_4, e_3, e_7\}$, $w(C_5)=15$
 $\langle C_5, S_6 \rangle = 0$

k = 6: Wähle $C_6 = \{e_{15}, e_{10}, e_5, e_4, e_8\}$, $w(C_6)=15$

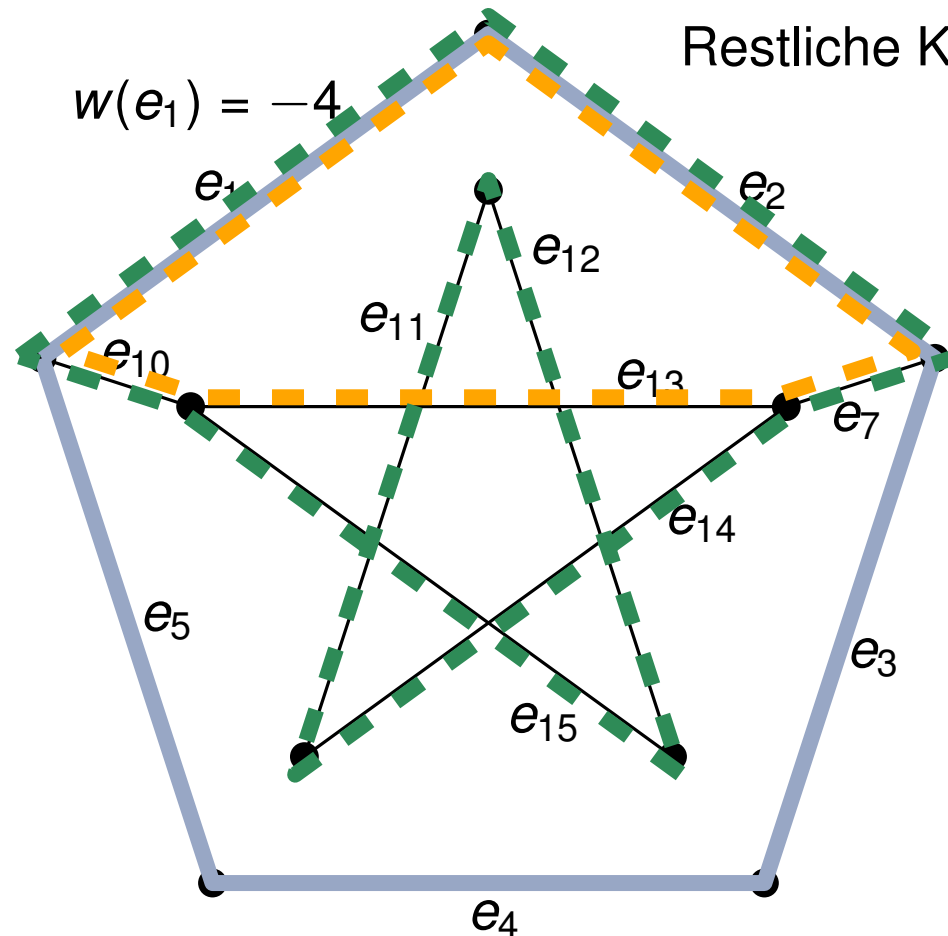
Problem 1

Restliche Kanten haben Gewicht 1.



Problem 1

Restliche Kanten haben Gewicht 1.



$MCB = \{C_1, C_2, C_3\}$ mit

$C_1 = \{e_1, e_2, e_3, e_4, e_5\}$

$C_2 = \{e_1, e_2, e_7, e_{13}, e_{10}\}$

$C_3 = \{e_1, e_2, e_7, e_{14}, e_{11}, e_{12}, e_{15}, e_{10}\}$

$w(MCB) = 3$

Randomisierte Algorithmen

4. Problem

Gegeben: Zufallsgenerator \mathcal{A}_1 :

- Liefert Wert 1 mit Wahrscheinlichkeit p .
- Liefert Wert 0 mit Wahrscheinlichkeit $1 - p$.

Gesucht: Zufallsgenerator \mathcal{A}_2 :

- Liefert Wert 1 mit Wahrscheinlichkeit $\frac{1}{2}$.
- Liefert Wert 0 mit Wahrscheinlichkeit $\frac{1}{2}$.

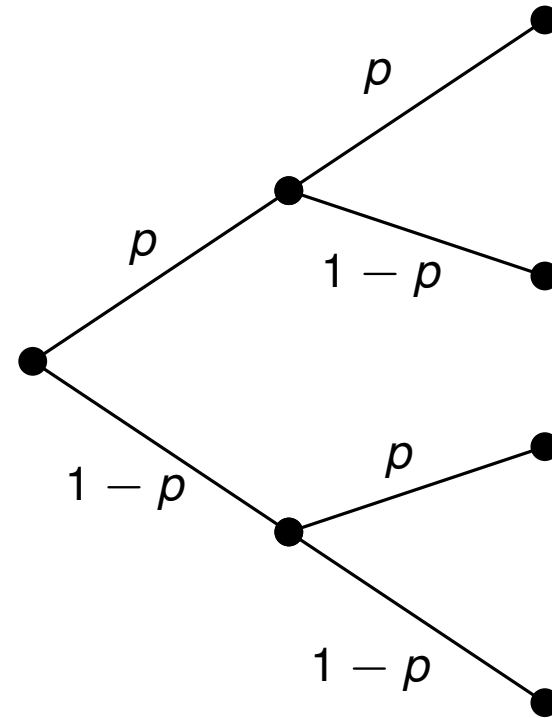
4. Problem

Gegeben: Zufallsgenerator \mathcal{A}_1 :

- Liefert Wert 1 mit Wahrscheinlichkeit p .
- Liefert Wert 0 mit Wahrscheinlichkeit $1 - p$.

Gesucht: Zufallsgenerator \mathcal{A}_2 :

- Liefert Wert 1 mit Wahrscheinlichkeit $\frac{1}{2}$.
- Liefert Wert 0 mit Wahrscheinlichkeit $\frac{1}{2}$.



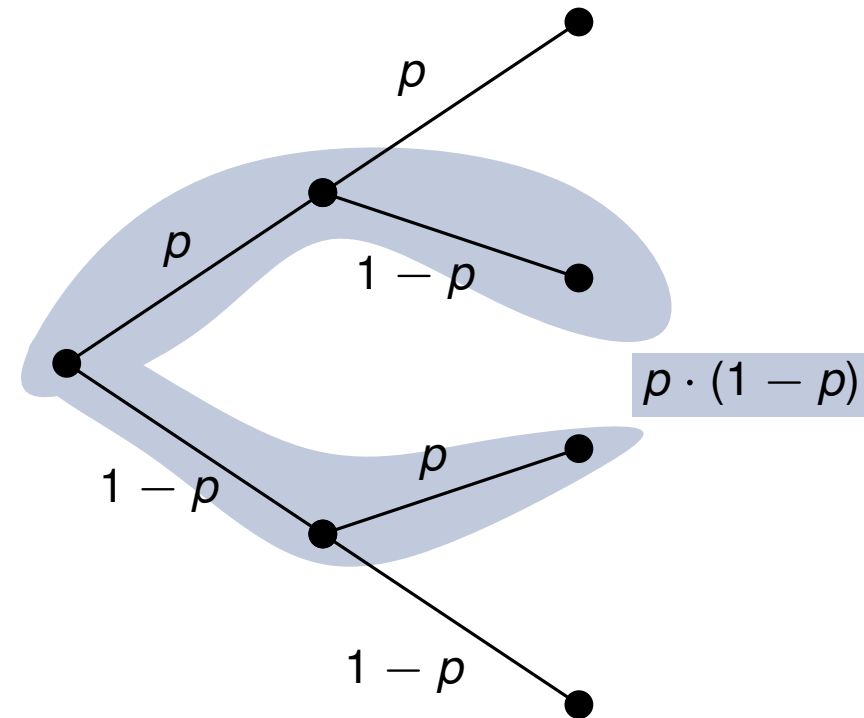
4. Problem

Gegeben: Zufallsgenerator \mathcal{A}_1 :

- Liefert Wert 1 mit Wahrscheinlichkeit p .
- Liefert Wert 0 mit Wahrscheinlichkeit $1 - p$.

Gesucht: Zufallsgenerator \mathcal{A}_2 :

- Liefert Wert 1 mit Wahrscheinlichkeit $\frac{1}{2}$.
- Liefert Wert 0 mit Wahrscheinlichkeit $\frac{1}{2}$.



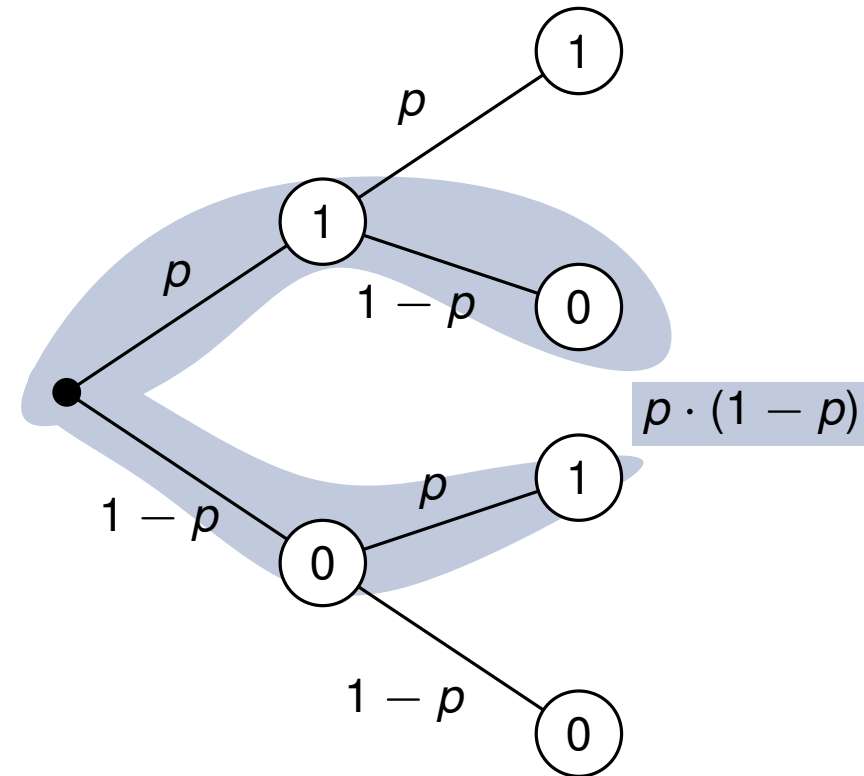
4. Problem

Gegeben: Zufallsgenerator \mathcal{A}_1 :

- Liefert Wert 1 mit Wahrscheinlichkeit p .
- Liefert Wert 0 mit Wahrscheinlichkeit $1 - p$.

Gesucht: Zufallsgenerator \mathcal{A}_2 :

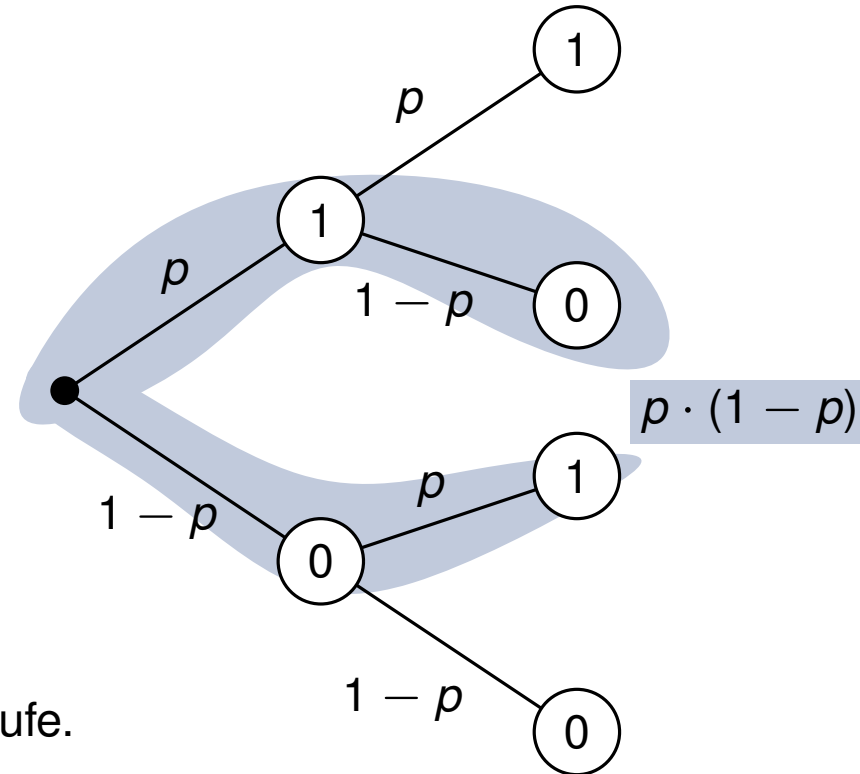
- Liefert Wert 1 mit Wahrscheinlichkeit $\frac{1}{2}$.
- Liefert Wert 0 mit Wahrscheinlichkeit $\frac{1}{2}$.



```
x ← 0
y ← 0
while x = y do
  | x ←  $\mathcal{A}_1()$ 
  | y ←  $\mathcal{A}_1()$ 
return x
```


4. Problem

```
x ← 0  
y ← 0  
while x = y do  
  | x ←  $\mathcal{A}_1()$   
  | y ←  $\mathcal{A}_1()$   
return x
```

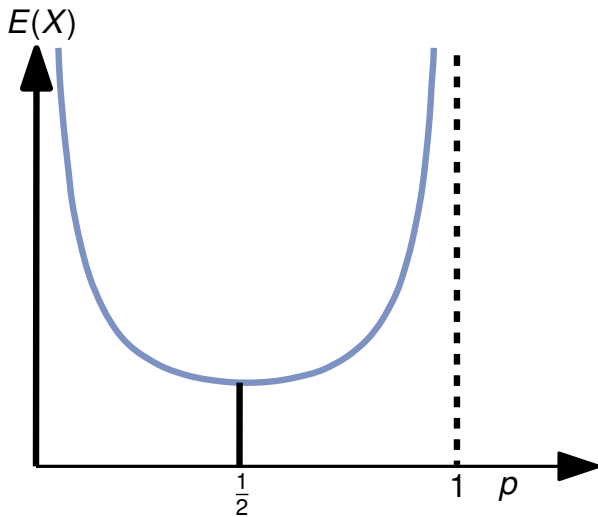


- Erwartete Laufzeit bestimmt durch Anzahl Durchläufe.
- Durchlauf = Bernoulli-Experiment mit $Pr[x \neq y] = 2 \cdot p \cdot (1-p)$.
- Schleife = unabhängige Bernoulli-Experimente mit geometrischer Verteilung:

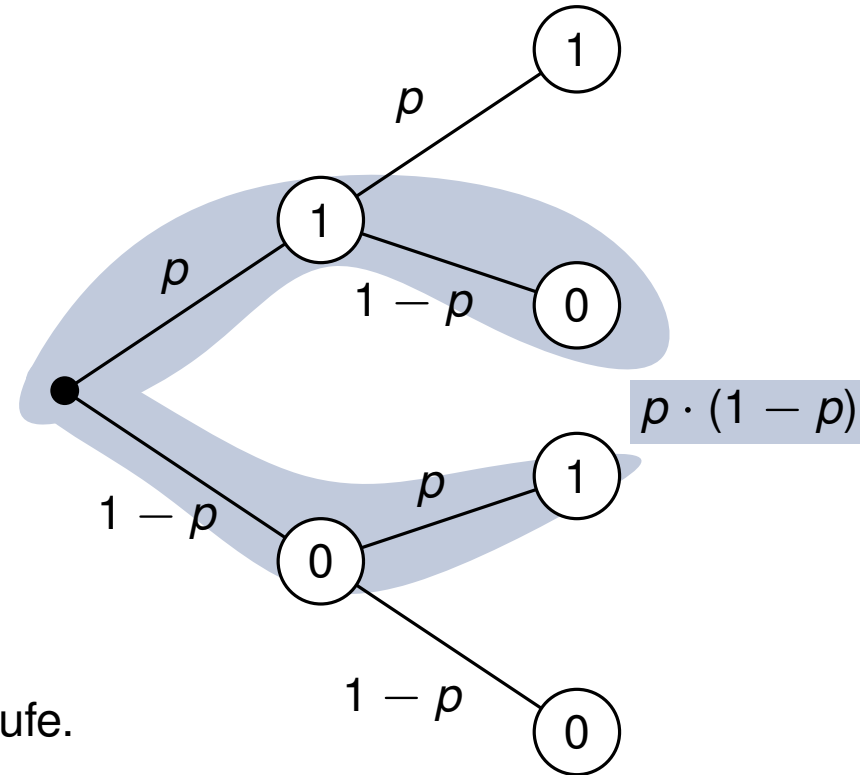
$$E(X) = \frac{1}{Pr[x \neq y]} = \frac{1}{2 \cdot p \cdot (1-p)}$$

⇒ Erwartete Laufzeit $\Theta\left(\frac{1}{p \cdot (1-p)}\right)$

4. Problem



```
x ← 0
y ← 0
while x = y do
  | x ←  $\mathcal{A}_1()$ 
  | y ←  $\mathcal{A}_1()$ 
return x
```



- Erwartete Laufzeit bestimmt durch Anzahl Durchläufe.
- Durchlauf = Bernoulli-Experiment mit $Pr[x \neq y] = 2 \cdot p \cdot (1 - p)$.
- Schleife = unabhängige Bernoulli-Experimente mit geometrischer Verteilung:

$$E(X) = \frac{1}{Pr[x \neq y]} = \frac{1}{2 \cdot p \cdot (1 - p)}$$

⇒ Erwartete Laufzeit $\Theta\left(\frac{1}{p \cdot (1-p)}\right)$

5. Problem

Algorithmus testet ob $AB = C$

Eingabe: Matrix A , B und C

$r \leftarrow \langle \text{Vektor von } n \text{ unabhängigen Zufallsbits} \rangle$

$x \leftarrow Br$

$y \leftarrow Ax$

$z \leftarrow Cr$

wenn $y \neq z$ **dann**

| return NEIN

sonst

| return JA

1. Zeigen Sie, dass die Rückgabe JA ist, wenn gilt $AB = C$.

5. Problem

Eingabe: Matrix A , B und C

$r \leftarrow \langle \text{Vektor von } n \text{ unabhängigen Zufallsbits} \rangle$

$x \leftarrow Br$

$y \leftarrow Ax$

$z \leftarrow Cr$

wenn $y \neq z$ **dann**

| return NEIN

sonst

| return JA

Algorithmus testet ob $AB = C$

1. Zeigen Sie, dass die Rückgabe JA ist, wenn gilt $AB = C$.

- Algorithmus überprüft ob $A(Br) = Cr$ gilt.
- Wenn $AB = C$ gilt, dann insbesondere auch $A(Br) = Cr$.

5. Problem

2. Zeigen Sie, dass die Wahrscheinlichkeit dass der Algorithmus JA liefert, obwohl $AB \neq C$ gilt, kleiner gleich $\frac{1}{2}$ ist.

Eingabe: Matrix A , B und C

$r \leftarrow \langle \text{Vektor von } n \text{ unabhängigen Zufallsbits} \rangle$

$x \leftarrow Br$

$y \leftarrow Ax$

$z \leftarrow Cr$

wenn $y \neq z$ **dann**

| return NEIN

sonst

| return JA

5. Problem

2. Zeigen Sie, dass die Wahrscheinlichkeit dass der Algorithmus JA liefert, obwohl $AB \neq C$ gilt, kleiner gleich $\frac{1}{2}$ ist.

- Nehme also an $AB \neq C$ und somit $D := AB - C \neq 0$.

Eingabe: Matrix A , B und C

$r \leftarrow \langle \text{Vektor von } n \text{ unabhängigen Zufallsbits} \rangle$

$x \leftarrow Br$

$y \leftarrow Ax$

$z \leftarrow Cr$

wenn $y \neq z$ **dann**

| return NEIN

sonst

| return JA

5. Problem

2. Zeigen Sie, dass die Wahrscheinlichkeit dass der Algorithmus JA liefert, obwohl $AB \neq C$ gilt, kleiner gleich $\frac{1}{2}$ ist.

- Nehme also an $AB \neq C$ und somit $D := AB - C \neq 0$.
- Alorithmus liefert JA genau dann wenn $Dr = 0$.

Eingabe: Matrix A , B und C

$r \leftarrow \langle \text{Vektor von } n \text{ unabhängigen Zufallsbits} \rangle$

$x \leftarrow Br$

$y \leftarrow Ax$

$z \leftarrow Cr$

wenn $y \neq z$ dann

| return NEIN

sonst

| return JA

5. Problem

2. Zeigen Sie, dass die Wahrscheinlichkeit dass der Algorithmus JA liefert, obwohl $AB \neq C$ gilt, kleiner gleich $\frac{1}{2}$ ist.

- Nehme also an $AB \neq C$ und somit $D := AB - C \neq 0$.
- Alorithmus liefert JA genau dann wenn $Dr = 0$.
- Sei d erste Zeile von D , o.B.d.A:
 - sei d nicht der Nullvektor und
 - die Nichtnulleinträge seien die ersten ℓ Einträge.

Eingabe: Matrix A , B und C

$r \leftarrow \langle \text{Vektor von } n \text{ unabhängigen Zufallsbits} \rangle$

$x \leftarrow Br$

$y \leftarrow Ax$

$z \leftarrow Cr$

wenn $y \neq z$ **dann**

| return NEIN

sonst

| return JA

$$D = \begin{pmatrix} d_1 & \dots & d_\ell & 0 \dots 0 \\ & & \dots & \end{pmatrix}$$

5. Problem

2. Zeigen Sie, dass die Wahrscheinlichkeit dass der Algorithmus JA liefert, obwohl $AB \neq C$ gilt, kleiner gleich $\frac{1}{2}$ ist.

- Nehme also an $AB \neq C$ und somit $D := AB - C \neq 0$.
- Alorithmus liefert JA genau dann wenn $Dr = 0$.
- Sei d erste Zeile von D , o.B.d.A:
 - sei d nicht der Nullvektor und
 - die Nichtnulleinträge seien die ersten ℓ Einträge.

Suche obere Schranke dafür, dass $dr = 0$ ist:

Eingabe: Matrix A , B und C

$r \leftarrow \langle \text{Vektor von } n \text{ unabhängigen Zufallsbits} \rangle$

$x \leftarrow Br$

$y \leftarrow Ax$

$z \leftarrow Cr$

wenn $y \neq z$ dann

| return NEIN

sonst

| return JA

$$D = \begin{pmatrix} d_1 & \dots & d_\ell & 0 \dots 0 \\ & & \dots & \end{pmatrix}$$

5. Problem

2. Zeigen Sie, dass die Wahrscheinlichkeit dass der Algorithmus JA liefert, obwohl $AB \neq C$ gilt, kleiner gleich $\frac{1}{2}$ ist.

- Nehme also an $AB \neq C$ und somit $D := AB - C \neq 0$.
- Alorithmus liefert JA genau dann wenn $Dr = 0$.
- Sei d erste Zeile von D , o.B.d.A:
 - sei d nicht der Nullvektor und
 - die Nichtnulleinträge seien die ersten ℓ Einträge.

Suche obere Schranke dafür, dass $dr = 0$ ist:

$$\text{Genau dann, wenn: } \sum_{i=1}^{\ell} d_i \cdot r_i = 0 \iff \sum_{i=1}^{\ell-1} d_i \cdot r_i + d_{\ell} r_{\ell} = 0$$

Eingabe: Matrix A , B und C

$r \leftarrow \langle \text{Vektor von } n \text{ unabhängigen Zufallsbits} \rangle$

$x \leftarrow Br$

$y \leftarrow Ax$

$z \leftarrow Cr$

wenn $y \neq z$ dann

| return NEIN

sonst

| return JA

$$D = \begin{pmatrix} d_1 & \dots & d_{\ell} & 0 \dots 0 \\ & & \dots & \dots \end{pmatrix}$$

5. Problem

2. Zeigen Sie, dass die Wahrscheinlichkeit dass der Algorithmus JA liefert, obwohl $AB \neq C$ gilt, kleiner gleich $\frac{1}{2}$ ist.

- Nehme also an $AB \neq C$ und somit $D := AB - C \neq 0$.
- Alorithmus liefert JA genau dann wenn $Dr = 0$.
- Sei d erste Zeile von D , o.B.d.A:
 - sei d nicht der Nullvektor und
 - die Nichtnulleinträge seien die ersten ℓ Einträge.

Suche obere Schranke dafür, dass $dr = 0$ ist:

$$\text{Genau dann, wenn: } \sum_{i=1}^{\ell} d_i \cdot r_i = 0 \iff \sum_{i=1}^{\ell-1} d_i \cdot r_i + d_{\ell} r_{\ell} = 0 \iff r_{\ell} = -\frac{1}{d_{\ell}} \sum_{i=1}^{\ell-1} d_i \cdot r_i \quad (1)$$

Eingabe: Matrix A , B und C

$r \leftarrow \langle \text{Vektor von } n \text{ unabhängigen Zufallsbits} \rangle$

$x \leftarrow Br$

$y \leftarrow Ax$

$z \leftarrow Cr$

wenn $y \neq z$ dann

| return NEIN

sonst

| return JA

$$D = \begin{pmatrix} d_1 & \dots & d_{\ell} & 0 \dots 0 \\ & & \dots & \dots \end{pmatrix}$$

5. Problem

2. Zeigen Sie, dass die Wahrscheinlichkeit dass der Algorithmus JA liefert, obwohl $AB \neq C$ gilt, kleiner gleich $\frac{1}{2}$ ist.

- Nehme also an $AB \neq C$ und somit $D := AB - C \neq 0$.
- Alorithmus liefert JA genau dann wenn $Dr = 0$.
- Sei d erste Zeile von D , o.B.d.A:
 - sei d nicht der Nullvektor und
 - die Nichtnulleinträge seien die ersten ℓ Einträge.

Suche obere Schranke dafür, dass $dr = 0$ ist:

$$\text{Genau dann, wenn: } \sum_{i=1}^{\ell} d_i \cdot r_i = 0 \iff \sum_{i=1}^{\ell-1} d_i \cdot r_i + d_{\ell} r_{\ell} = 0 \iff r_{\ell} = -\frac{1}{d_{\ell}} \sum_{i=1}^{\ell-1} d_i \cdot r_i \quad (1)$$

Nehme an $r_1, \dots, r_{\ell-1}$ wurden bereits gewählt:

Eingabe: Matrix A, B und C

$r \leftarrow \langle \text{Vektor von } n \text{ unabhängigen Zufallsbits} \rangle$

$x \leftarrow Br$

$y \leftarrow Ax$

$z \leftarrow Cr$

wenn $y \neq z$ dann

| return NEIN

sonst

| return JA

$$D = \begin{pmatrix} d_1 & \dots & d_{\ell} & 0 \dots 0 \\ & & \dots & \dots \end{pmatrix}$$

5. Problem

2. Zeigen Sie, dass die Wahrscheinlichkeit dass der Algorithmus JA liefert, obwohl $AB \neq C$ gilt, kleiner gleich $\frac{1}{2}$ ist.

- Nehme also an $AB \neq C$ und somit $D := AB - C \neq 0$.
- Alorithmus liefert JA genau dann wenn $Dr = 0$.
- Seit d erste Zeile von D , o.B.d.A:
 - sei d nicht der Nullvektor und
 - die Nichtnulleinträge seien die ersten ℓ Einträge.

Eingabe: Matrix A , B und C

$r \leftarrow \langle \text{Vektor von } n \text{ unabhängigen Zufallsbits} \rangle$

$x \leftarrow Br$

$y \leftarrow Ax$

$z \leftarrow Cr$

wenn $y \neq z$ dann

| return NEIN

sonst

| return JA

$$D = \begin{pmatrix} d_1 & \dots & d_\ell & 0 \dots 0 \\ & & \dots & \dots \end{pmatrix}$$

Suche obere Schranke dafür, dass $dr = 0$ ist:

$$\text{Genau dann, wenn: } \sum_{i=1}^{\ell} d_i \cdot r_i = 0 \iff \sum_{i=1}^{\ell-1} d_i \cdot r_i + d_\ell r_\ell = 0 \iff r_\ell = -\frac{1}{d_\ell} \sum_{i=1}^{\ell-1} d_i \cdot r_i \quad (1)$$

Nehme an $r_1, \dots, r_{\ell-1}$ wurden bereits gewählt:

Gleichung (1) kann für höchstens einen Wert von r_i wahr sein.

Wahrscheinlichkeit ist $\frac{1}{2}$, dass gerade dieser Wert gewählt wurde.

5. Problem

3. Wie kann diese Wahrscheinlichkeit einer fälschlichen Ausgabe JA einfach reduziert werden?

Durch k -fache Wiederholung des Algorithmus kann die Fehlerwahrscheinlichkeit wie üblich auf 2^{-k} gedrückt werden.