


Übung Algorithmische Geometrie

Sichtbarkeitsgraph

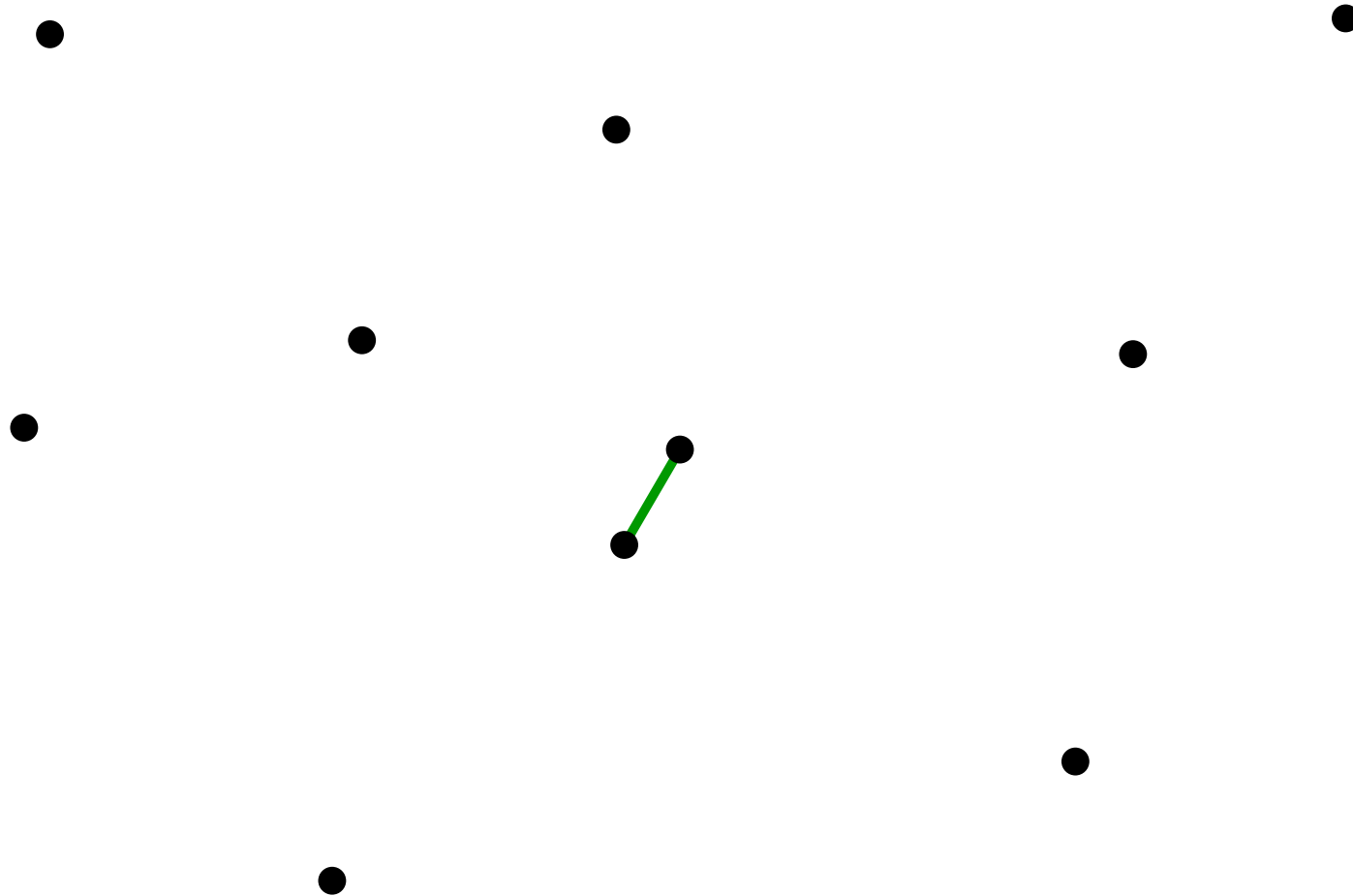
LEHRSTUHL FÜR ALGORITHMIK I · INSTITUT FÜR THEORETISCHE INFORMATIK · FAKULTÄT FÜR INFORMATIK

Andreas Gemsa
19.07.2012



Nachtrag

Sichtbarkeitsgraph



Bedingung: Für jedes $q, p \in P$ existiert genau ein Index ℓ ,
so dass $q \in A_\ell$ und $p \in B_\ell$ für $\{A_\ell, B_\ell\}$ in \mathcal{W} .

Nachtrag

Sichtbarkeitsgraph

Nachtrag


Sichtbarkeitsgraph

Aufgabe 1

Gegeben: Menge S von Polygonen mit insgesamt n Knoten.


Aufgabe 1

Gegeben: Menge S von Polygonen mit insgesamt n Knoten.



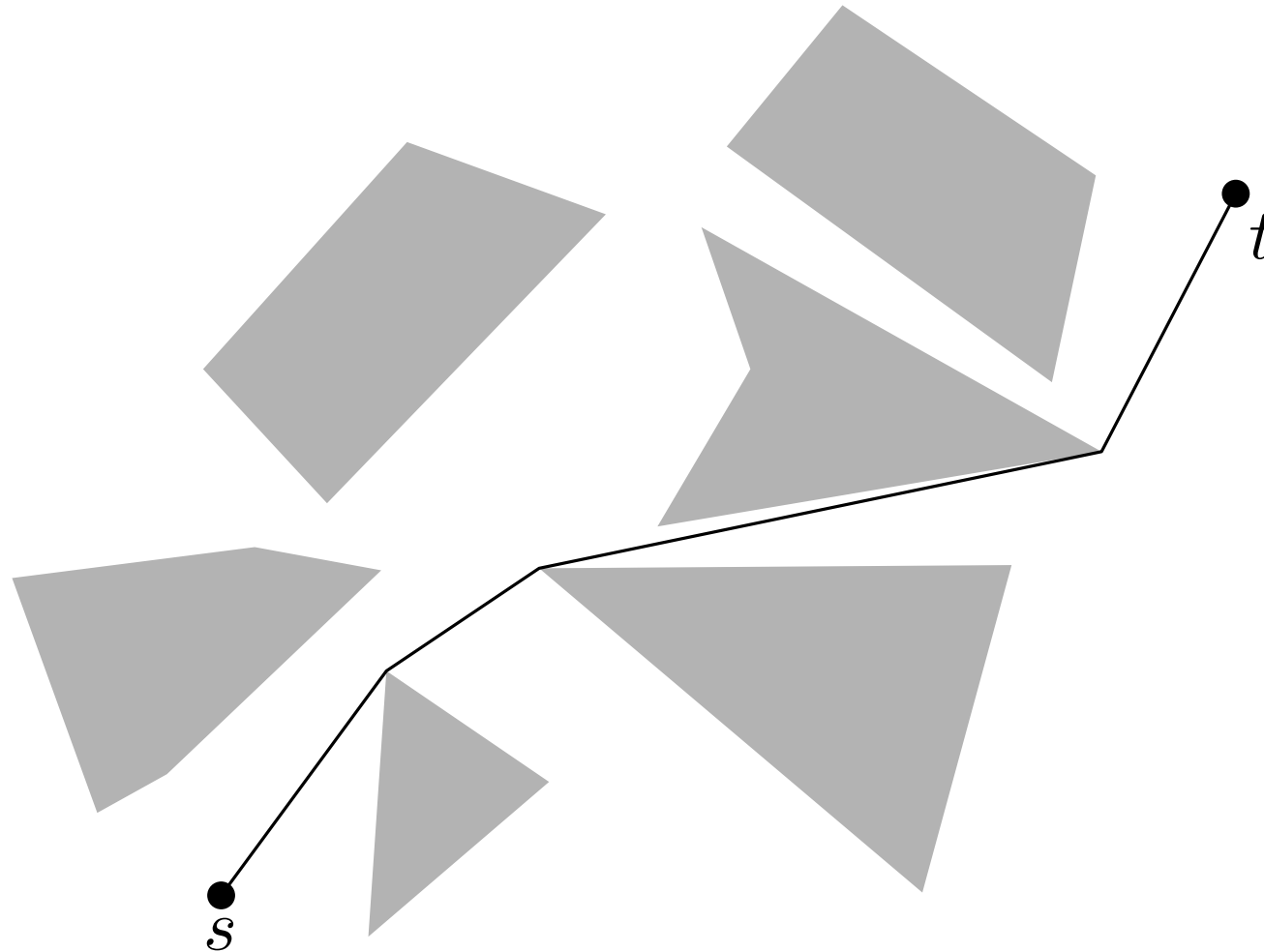
Aufgabe 1

Gegeben: Menge S von Polygonen mit insgesamt n Knoten.



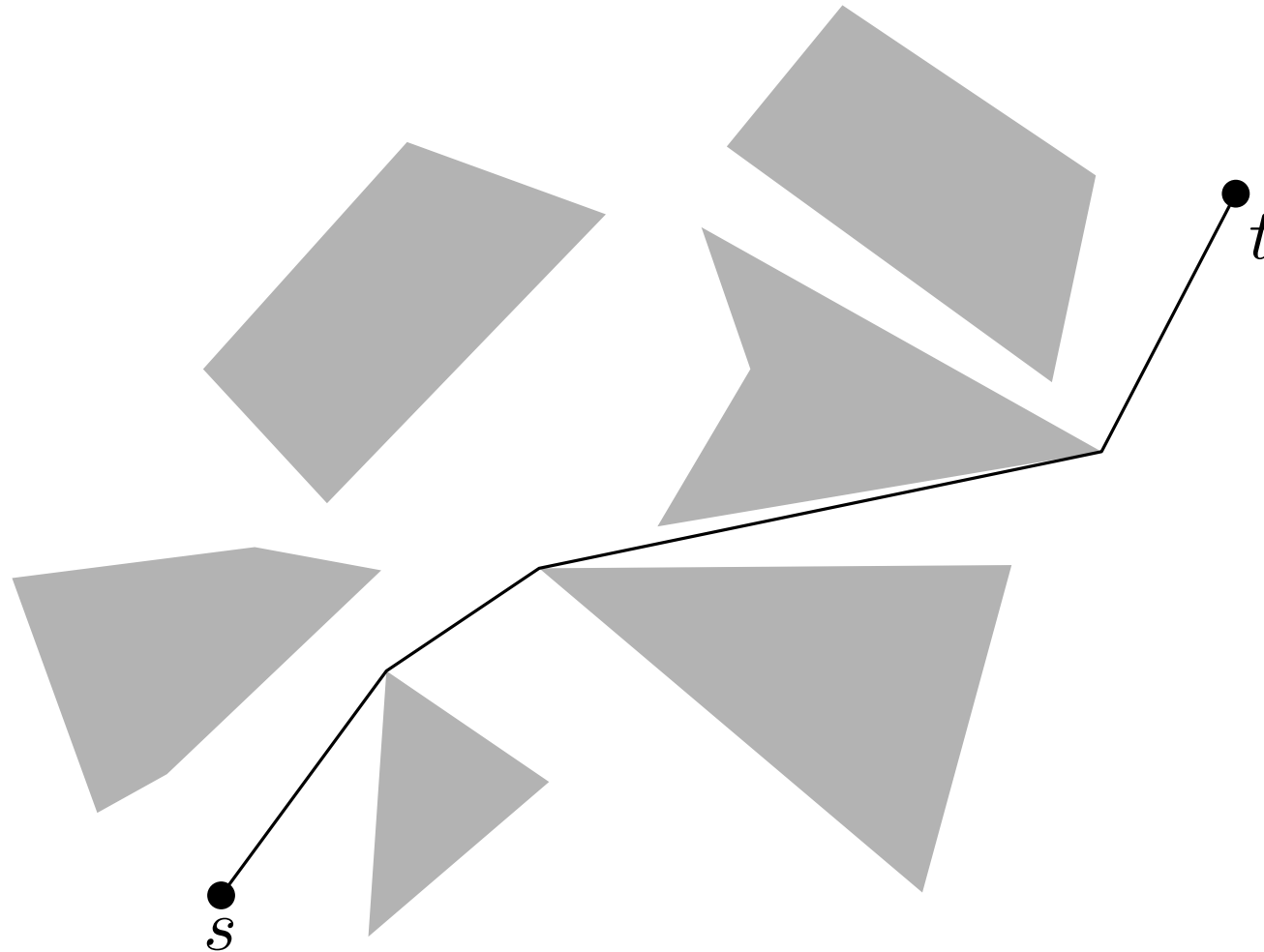
Aufgabe 1

Gegeben: Menge S von Polygonen mit insgesamt n Knoten.



Aufgabe 1

Gegeben: Menge S von Polygonen mit insgesamt n Knoten.

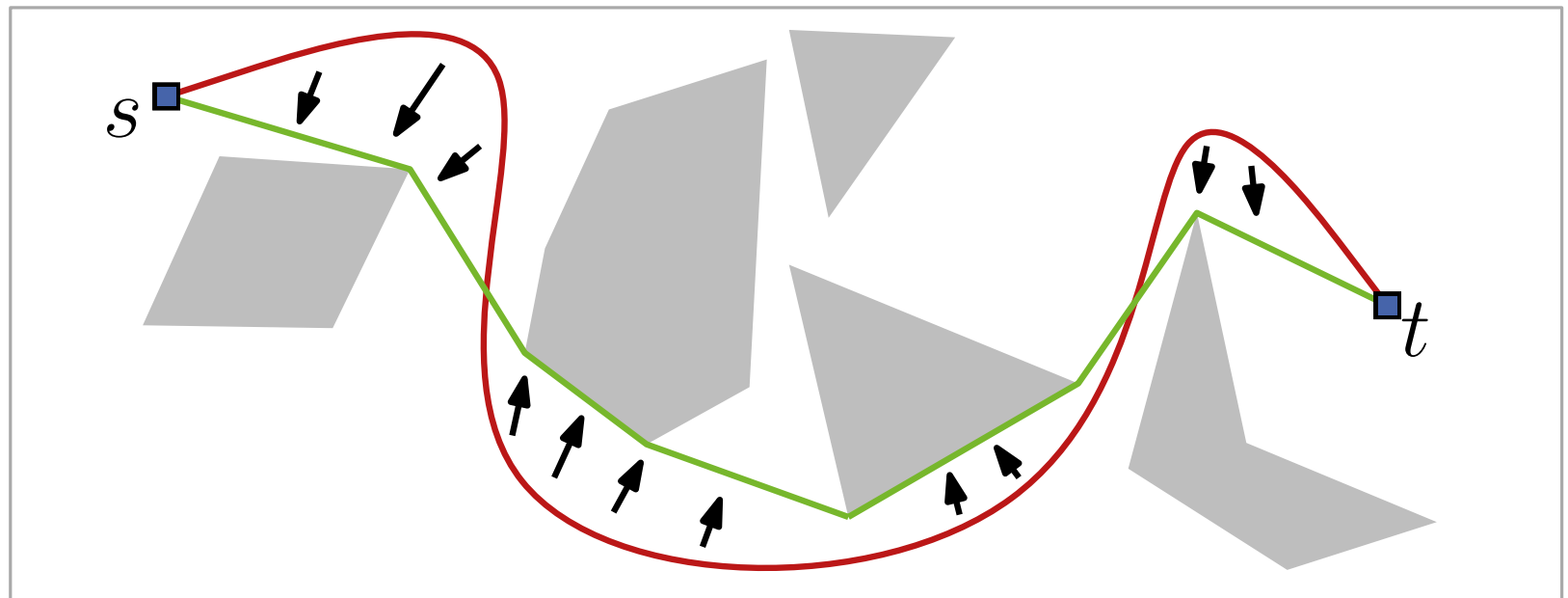


a) Zeige, dass $\#\text{Segmente}$ eines kürzesten Wegs in $O(n)$ ist.

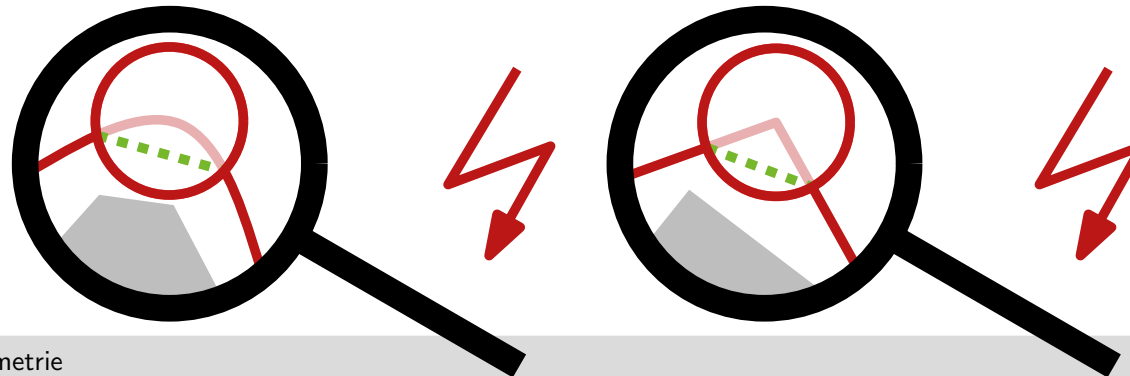
b) Beispiel für $\Theta(n)$

Aufgabe 1

Lemma 1: Für eine Menge S von disjunkten Polygonen in \mathbb{R}^2 und zwei Punkte s und t außerhalb S ist jeder kürzeste st -Weg in $\mathbb{R}^2 \setminus \bigcup S$ ein Polygonzug dessen innere Knoten Knoten von S sind.

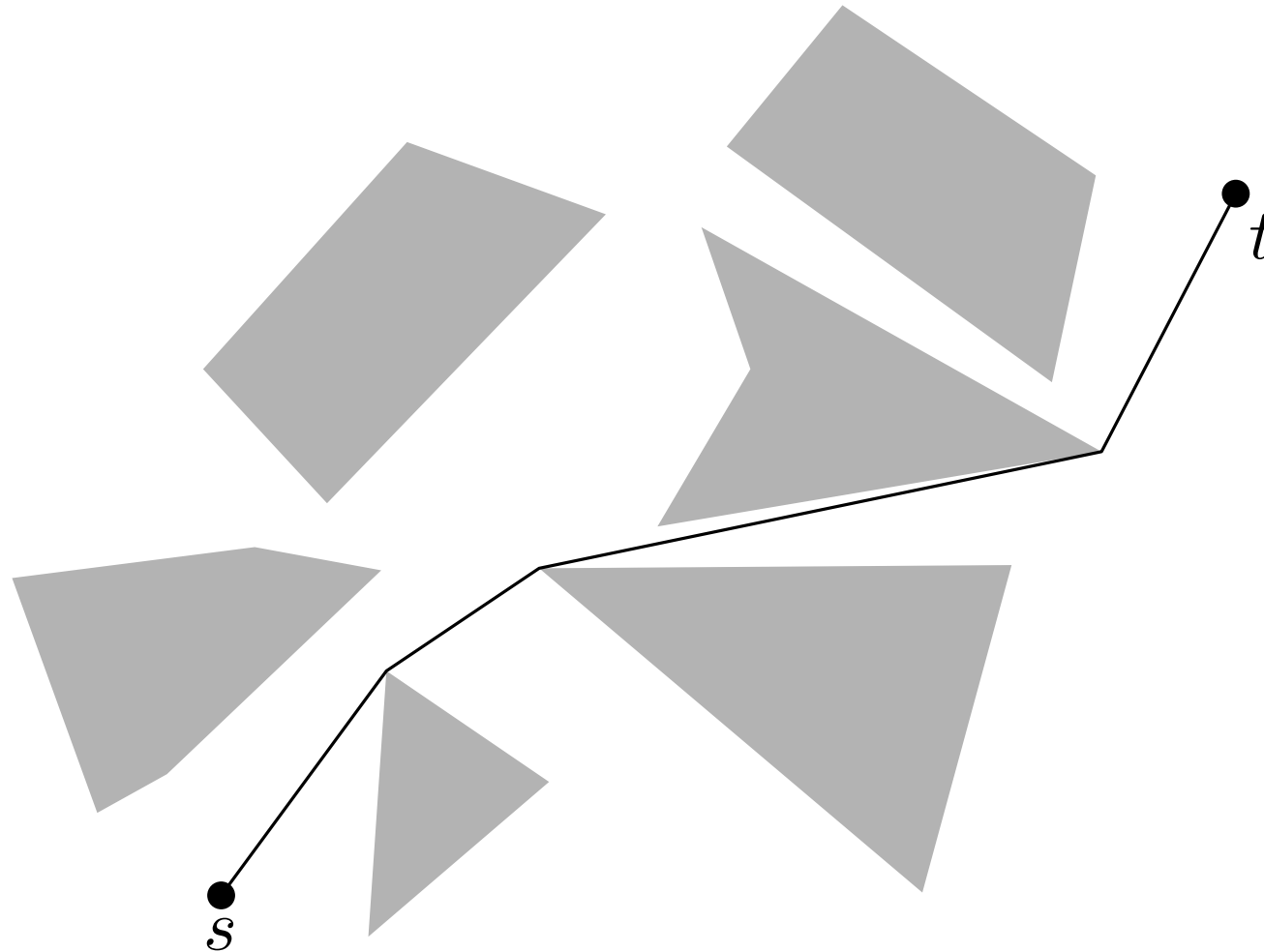


Beweisskizze:



Aufgabe 1

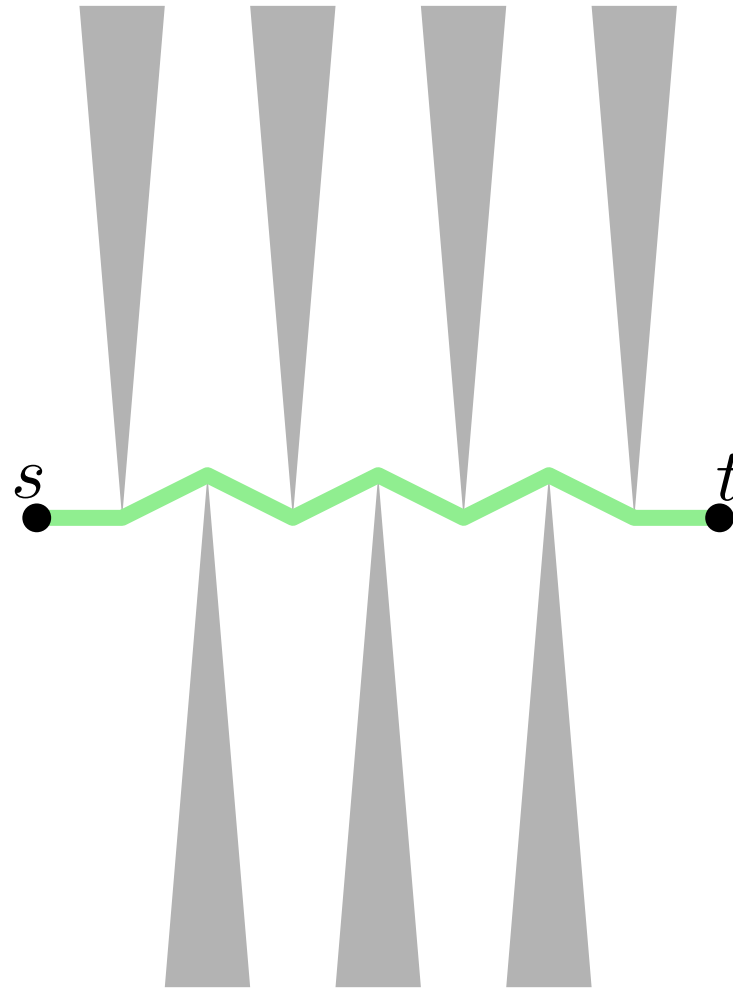
Gegeben: Menge S von Polygonen mit insgesamt n Knoten.



a) Zeige, dass $\#$ Segmente eines kürzesten Wegs in $O(n)$ ist.

b) Beispiel für $\Theta(n)$

Aufgabe 1



b) Beispiel für $\Theta(n)$

Aufgabe 2

VISIBILITYGRAPH(S)

Input: Menge disjunkter Polygone S

Output: Sichtbarkeitsgraph $G_{\text{vis}}(S)$

```
1  $E \leftarrow \emptyset$ 
2 foreach  $v \in V(S)$  do
3    $W \leftarrow \text{VISIBLEVERTICES}(v, S)$ 
4    $E \leftarrow E \cup \{vw \mid w \in W\}$ 
5 return  $E$ 
```

Aufgabe 2

VISIBILITYGRAPH(S)

Input: Menge disjunkter Polygone S

Output: Sichtbarkeitsgraph $G_{\text{vis}}(S)$

```
1  $E \leftarrow \emptyset$ 
2 foreach  $v \in V(S)$  do
3    $W \leftarrow \text{VISIBLEVERTICES}(v, S)$ 
4    $E \leftarrow E \cup \{vw \mid w \in W\}$ 
5 return  $E$ 
```

Beobachtung: VISIBLEVERTICES wird n mal aufgerufen

Aufgabe 2

VISIBILITYGRAPH(S)

Input: Menge disjunkter Polygone S

Output: Sichtbarkeitsgraph $G_{\text{vis}}(S)$

```
1  $E \leftarrow \emptyset$ 
2 foreach  $v \in V(S)$  do
3    $W \leftarrow \text{VISIBLEVERTICES}(v, S)$ 
4    $E \leftarrow E \cup \{vw \mid w \in W\}$ 
5 return  $E$ 
```

Beobachtung: VISIBLEVERTICES wird n mal aufgerufen
VISIBLEVERTICES in $O(n \log n)$

Aufgabe 2

VISIBILITYGRAPH(S)

Input: Menge disjunkter Polygone S

Output: Sichtbarkeitsgraph $G_{\text{vis}}(S)$

```
1  $E \leftarrow \emptyset$ 
2 foreach  $v \in V(S)$  do
3    $W \leftarrow \text{VISIBLEVERTICES}(v, S)$ 
4    $E \leftarrow E \cup \{vw \mid w \in W\}$ 
5 return  $E$ 
```

Beobachtung: VISIBLEVERTICES wird n mal aufgerufen

VISIBLEVERTICES in $O(n \log n)$

Gesamtlaufzeit: $O(n^2 \log n)$

Aufgabe 2

VISIBILITYGRAPH(S)

Input: Menge disjunkter Polygone S

Output: Sichtbarkeitsgraph $G_{\text{vis}}(S)$

```
1  $E \leftarrow \emptyset$ 
2 foreach  $v \in V(S)$  do
3    $W \leftarrow \text{VISIBLEVERTICES}(v, S)$ 
4    $E \leftarrow E \cup \{vw \mid w \in W\}$ 
5 return  $E$ 
```

Beobachtung: VISIBLEVERTICES wird n mal aufgerufen

VISIBLEVERTICES in $O(n \log n)$

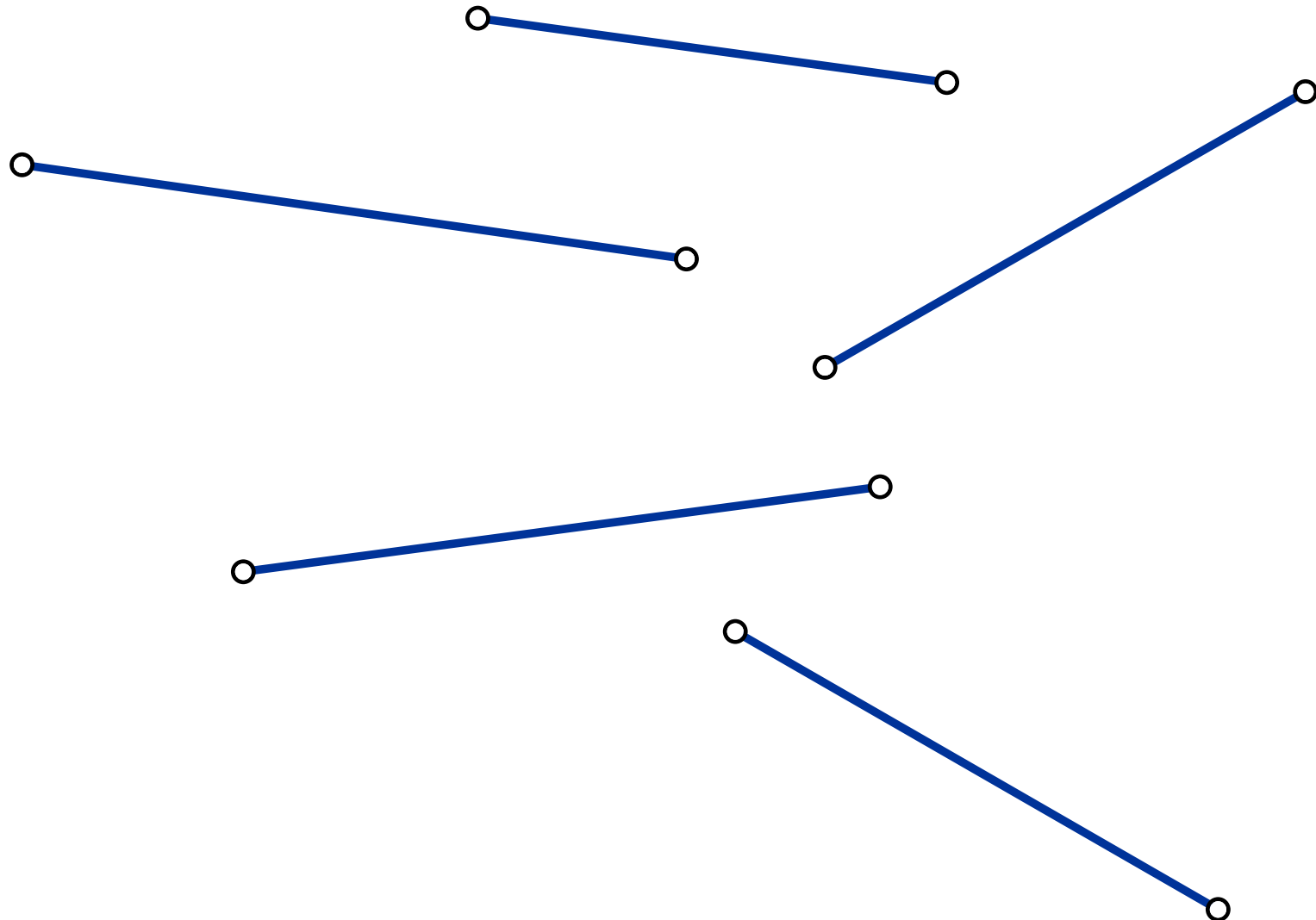
Gesamtlaufzeit: $O(n^2 \log n)$

Q: Wie VISIBILITYGRAPH in $O(n^2)$?

Hinweis: Nutze Dualität

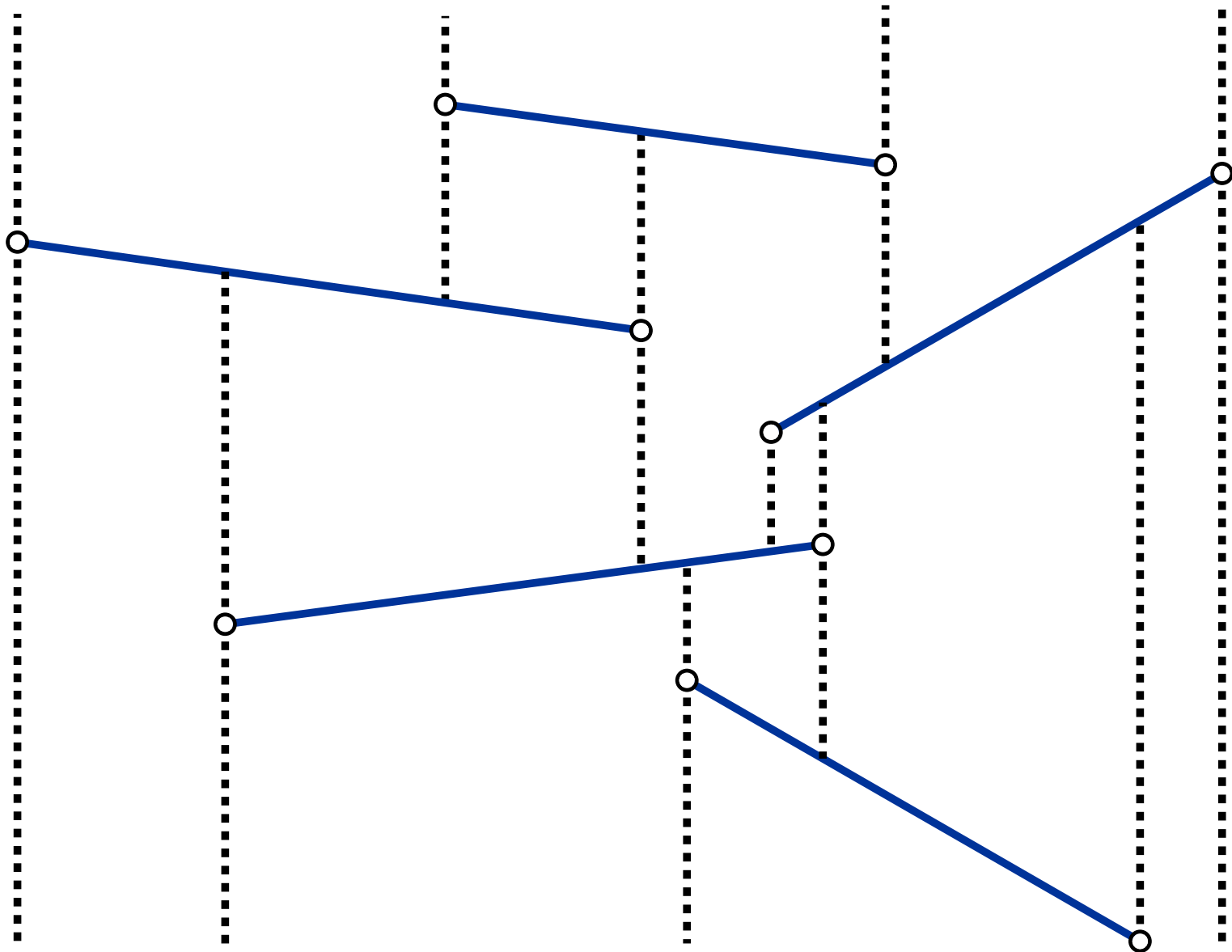
Aufgabe 2

Trapezzerlegung



Aufgabe 2

Trapezzerlegung

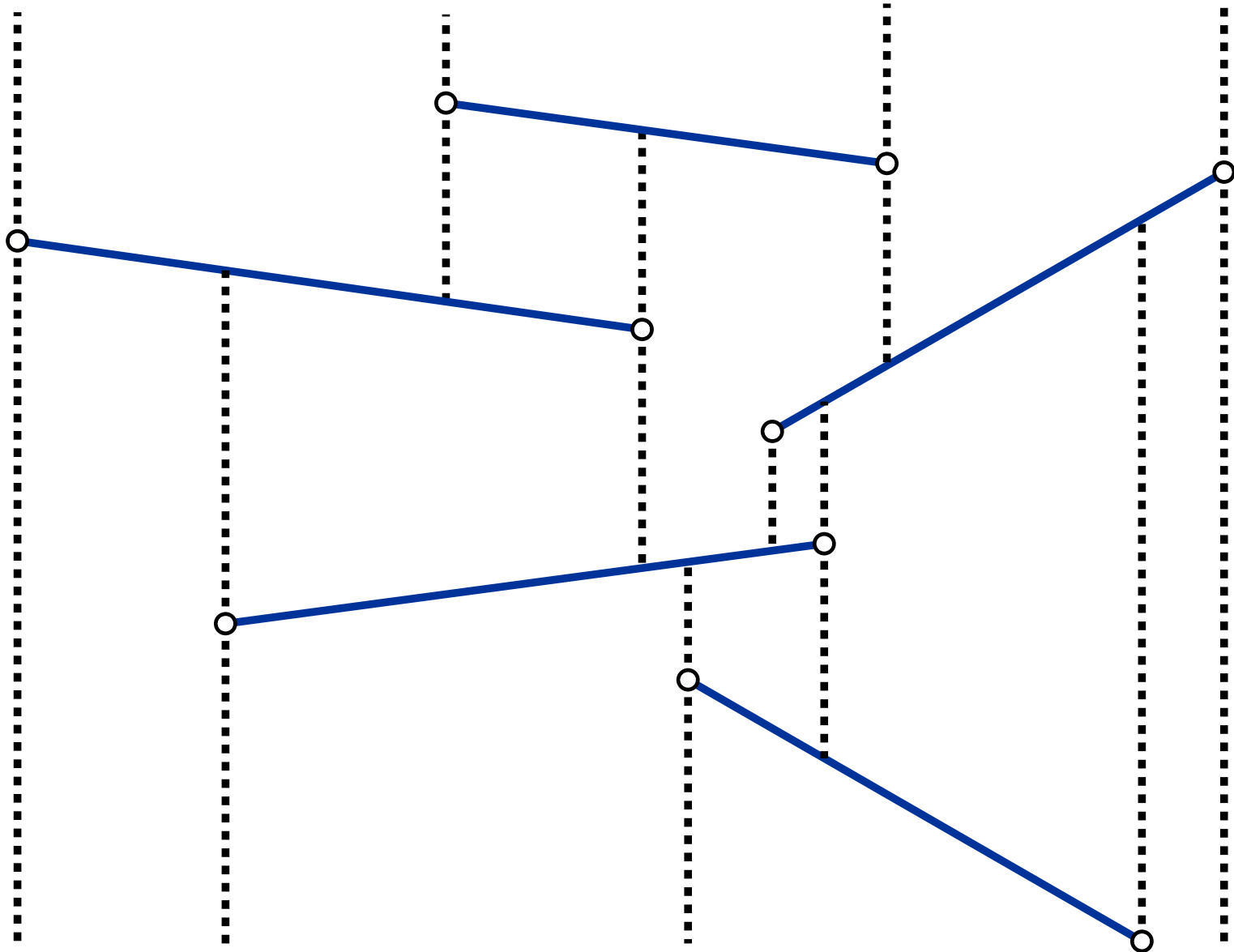


Aufgabe 2

Trapezzerlegung



Sichtbarkeit Punkte zu Segmente

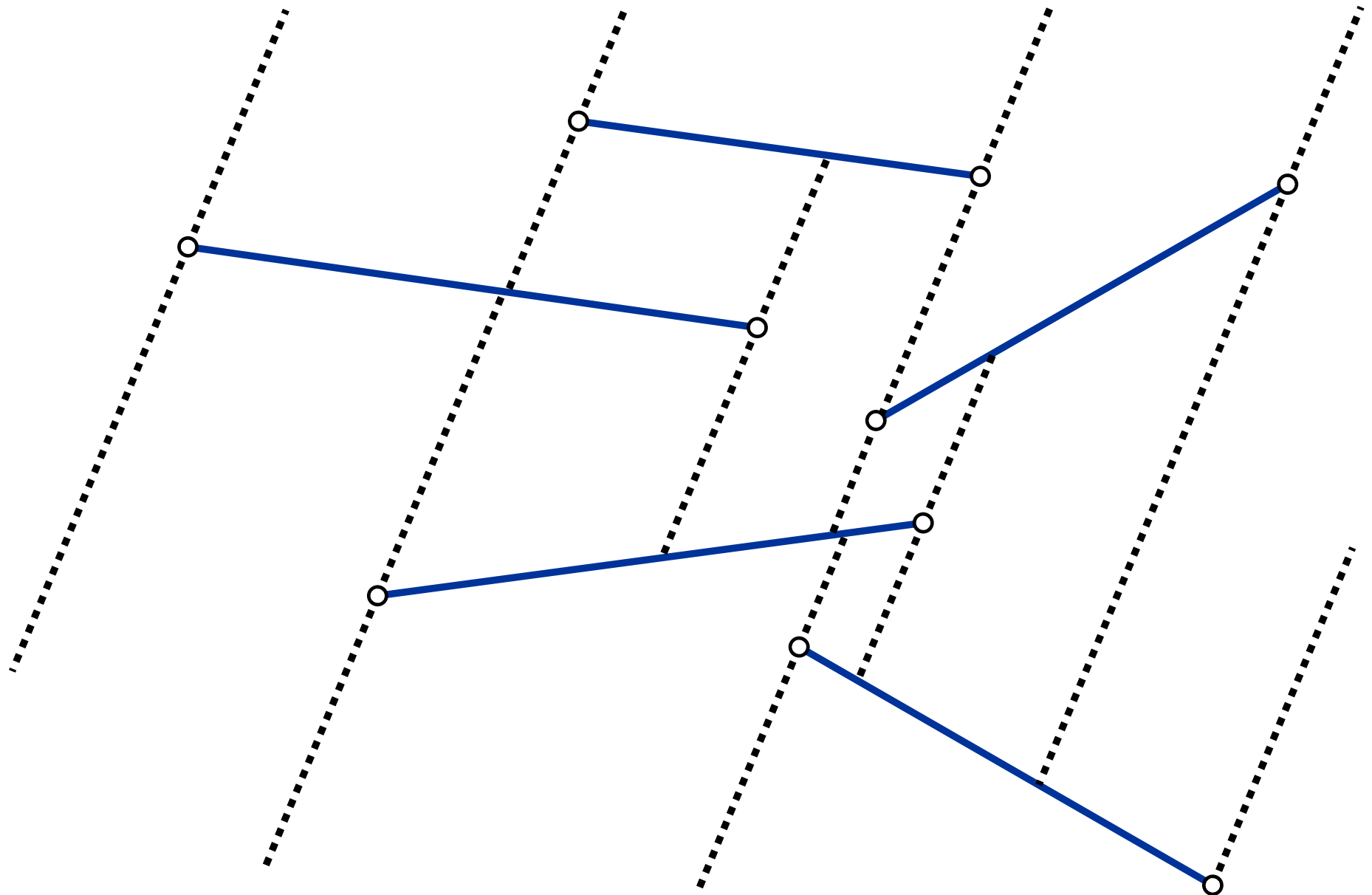


Aufgabe 2

Trapezzerlegung



Sichtbarkeit Punkte zu Segmente

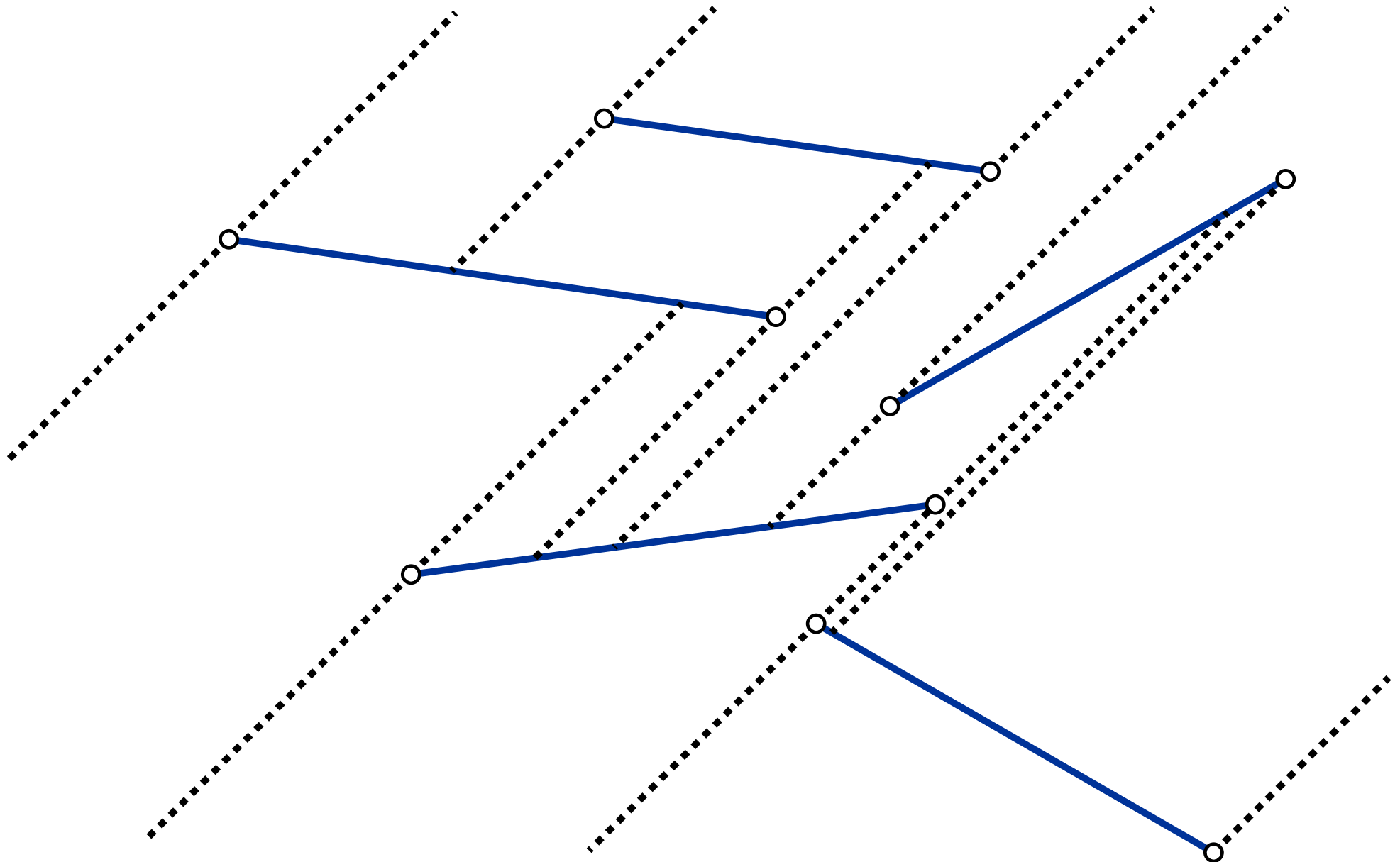


Aufgabe 2

Trapezzerlegung



Sichtbarkeit Punkte zu Segmente

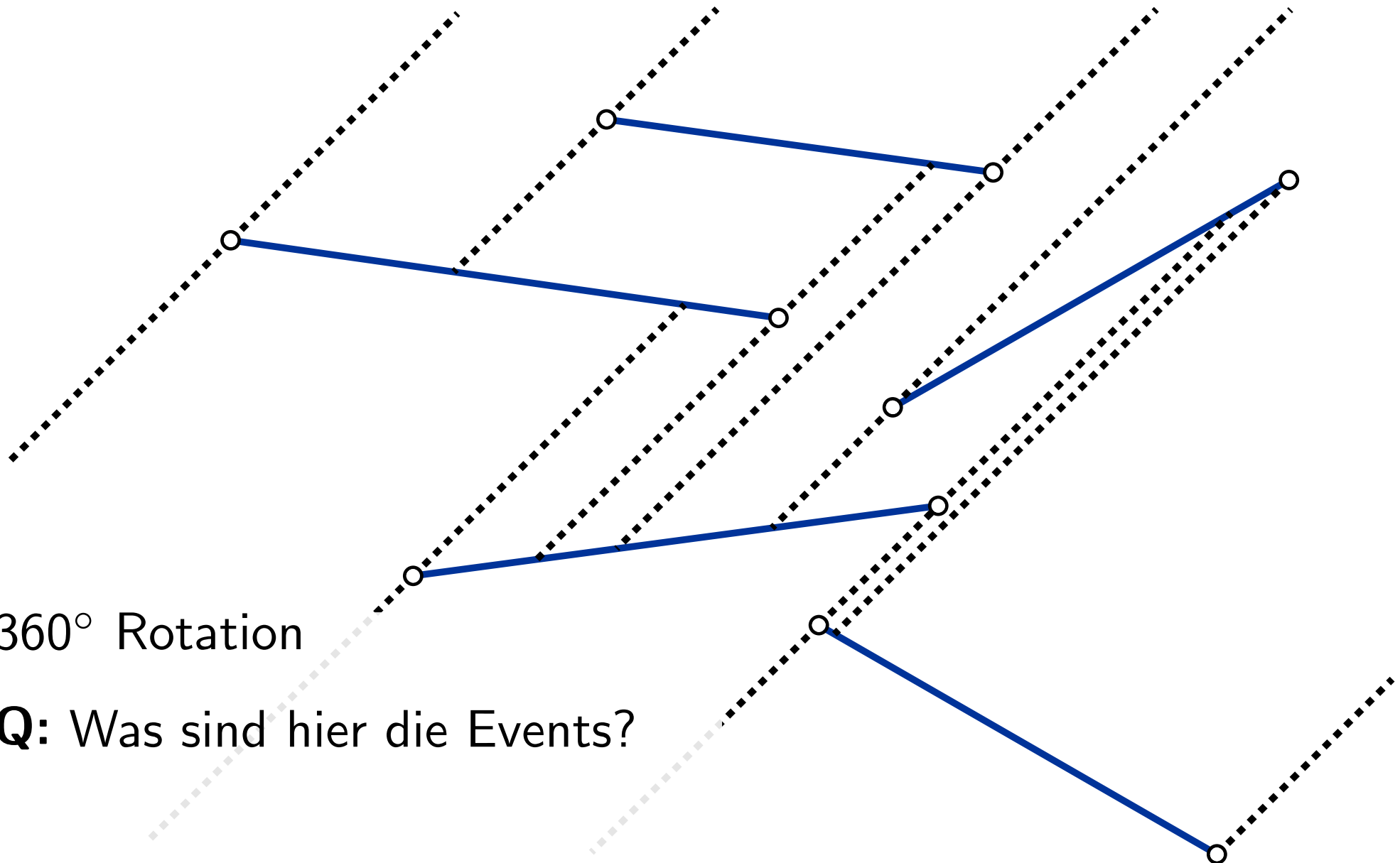


Aufgabe 2

Trapezzerlegung



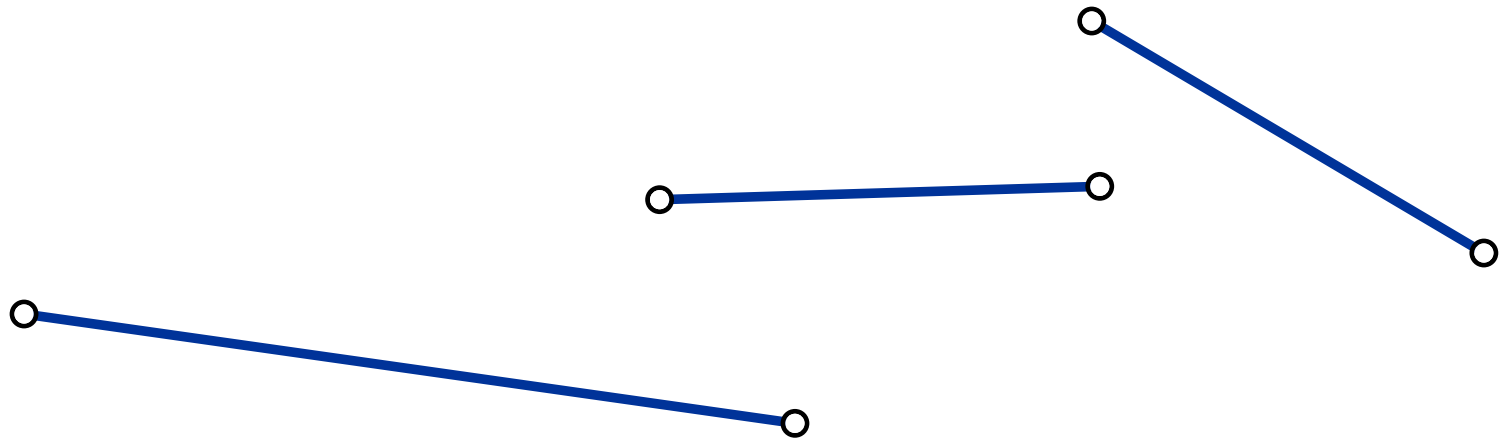
Sichtbarkeit Punkte zu Segmente



360° Rotation

Q: Was sind hier die Events?

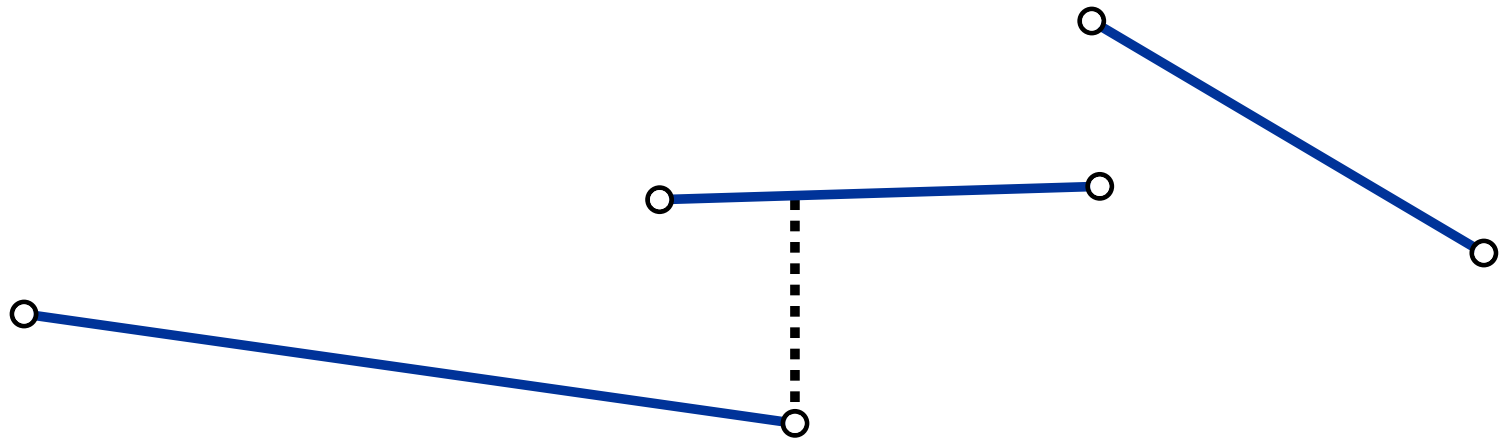
Aufgabe 2



360° Rotation

Q: Was sind hier die Events?

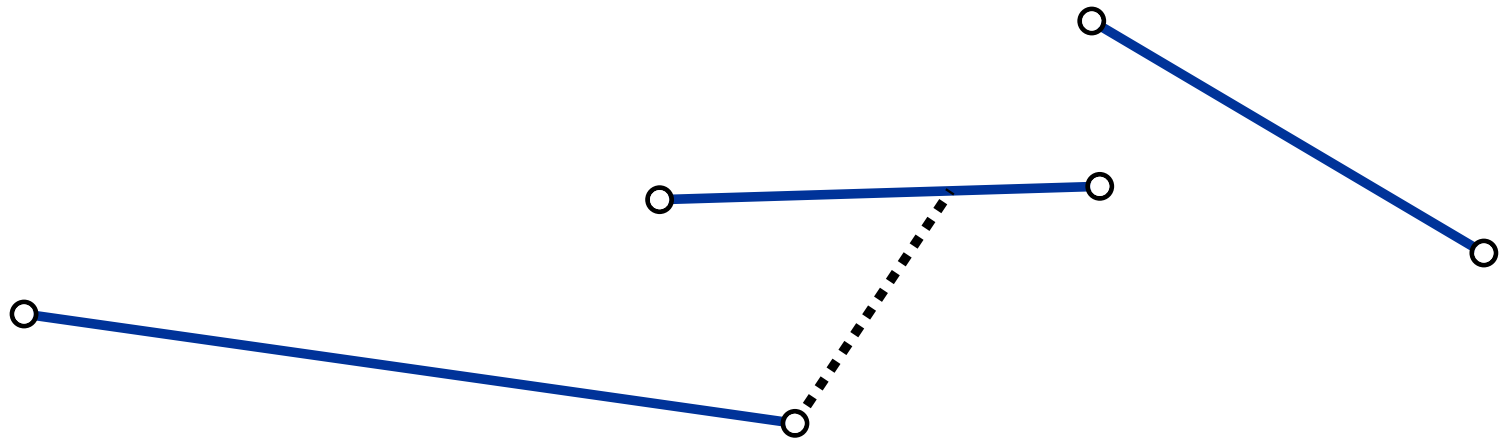
Aufgabe 2



360° Rotation

Q: Was sind hier die Events?

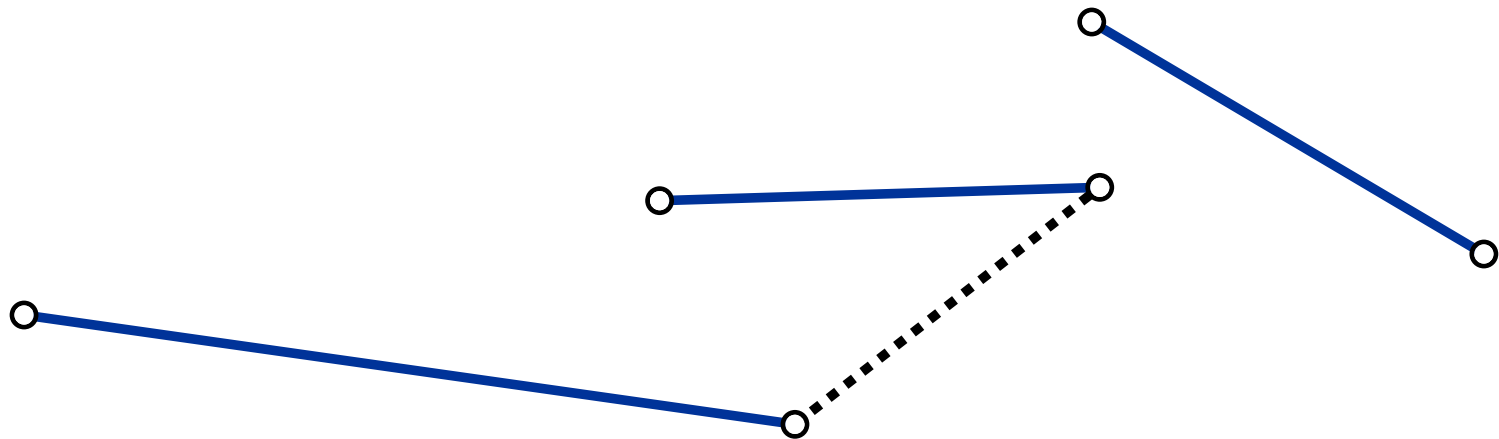
Aufgabe 2



360° Rotation

Q: Was sind hier die Events?

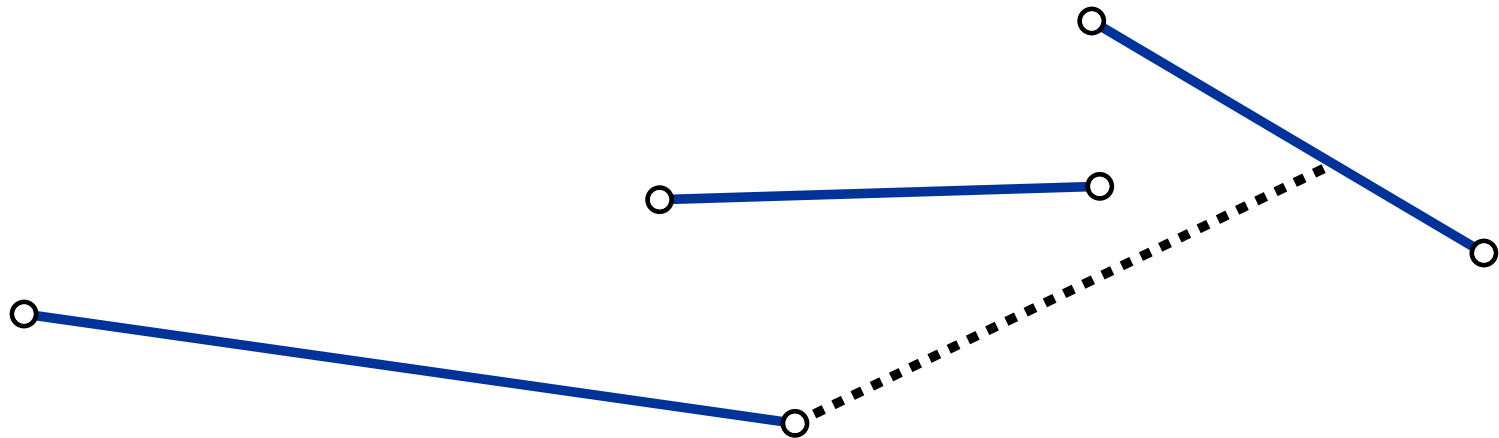
Aufgabe 2



360° Rotation

Q: Was sind hier die Events?

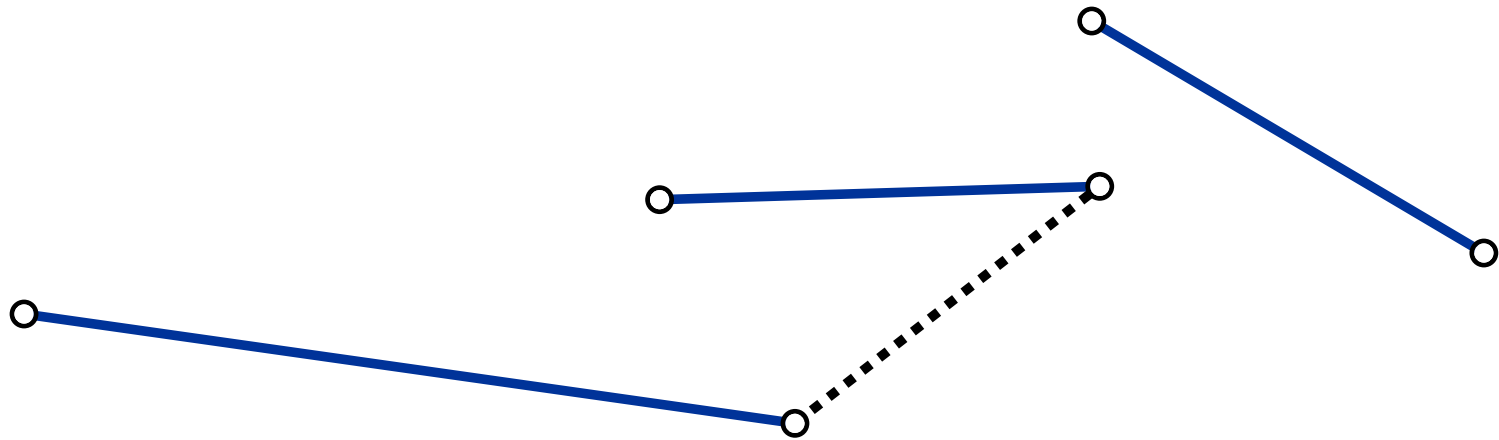
Aufgabe 2



360° Rotation

Q: Was sind hier die Events?

Aufgabe 2

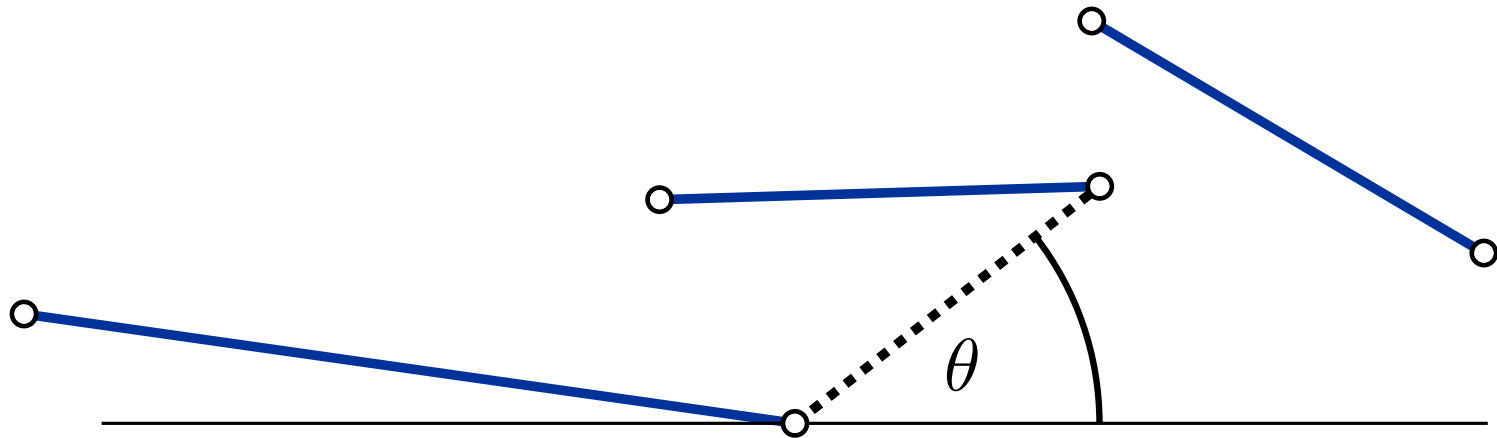


360° Rotation

Q: Was sind hier die Events?

A: Strahl trifft Knoten

Aufgabe 2

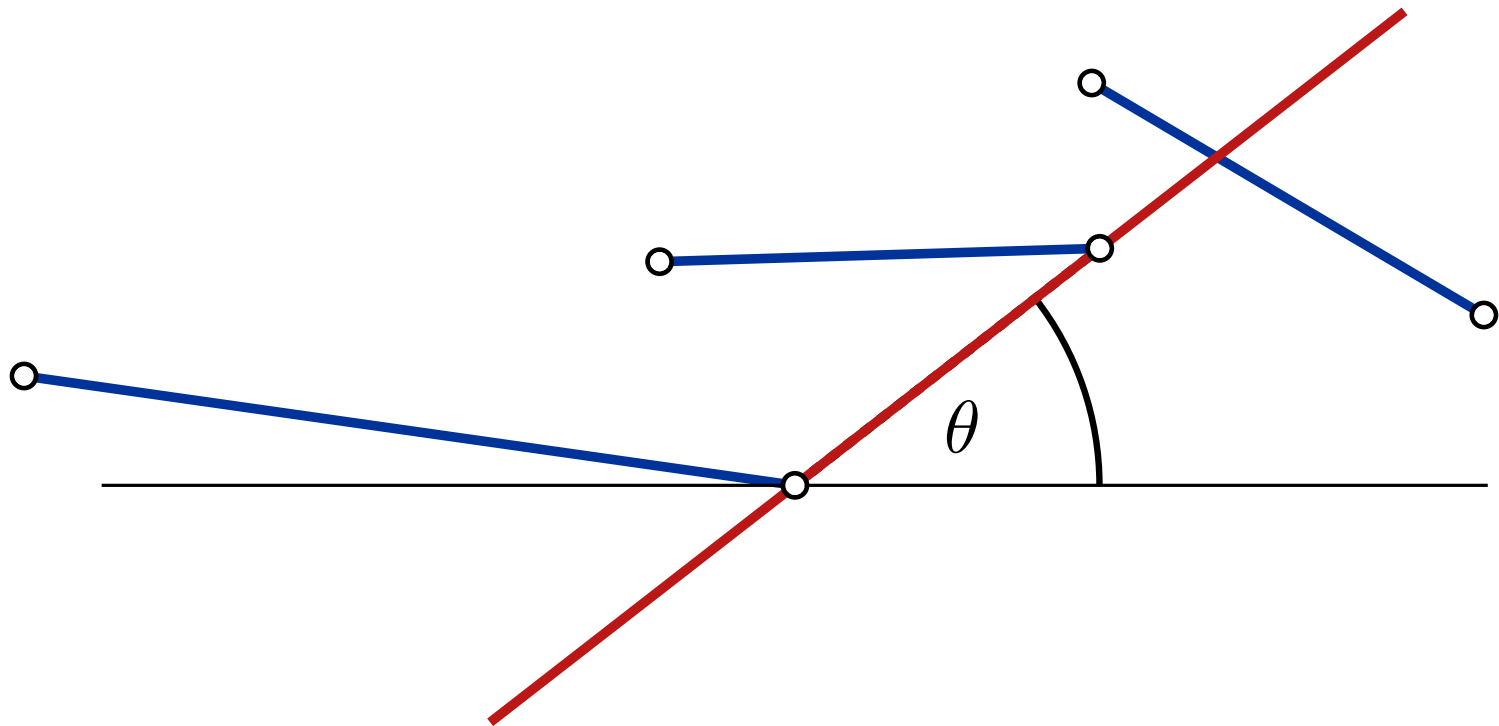


360° Rotation

Q: Was sind hier die Events?

A: Strahl trifft Knoten

Aufgabe 2

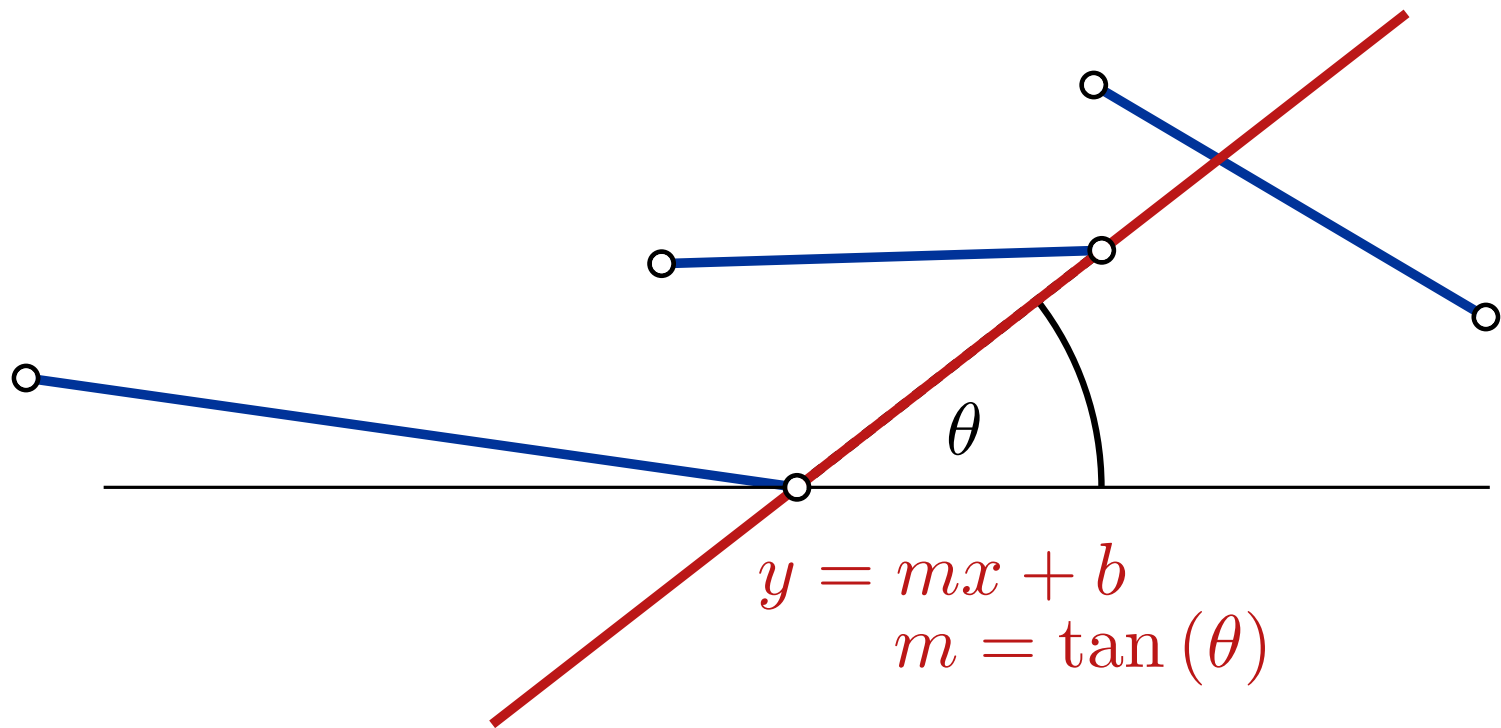


360° Rotation

Q: Was sind hier die Events?

A: Strahl trifft Knoten

Aufgabe 2



360° Rotation

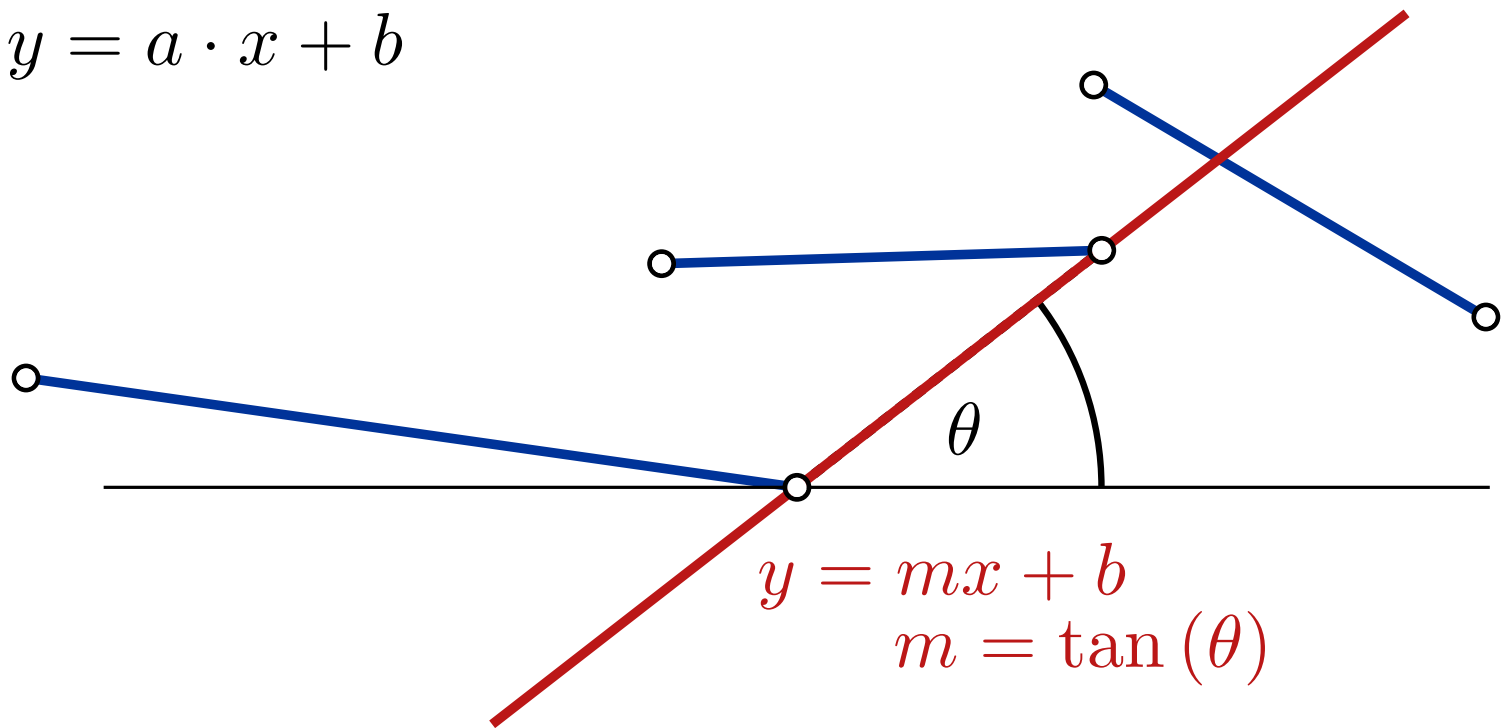
Q: Was sind hier die Events?

A: Strahl trifft Knoten

Aufgabe 2

Dualität:

$$(a, b) \leftrightarrow y = a \cdot x + b$$



360° Rotation

Q: Was sind hier die Events?

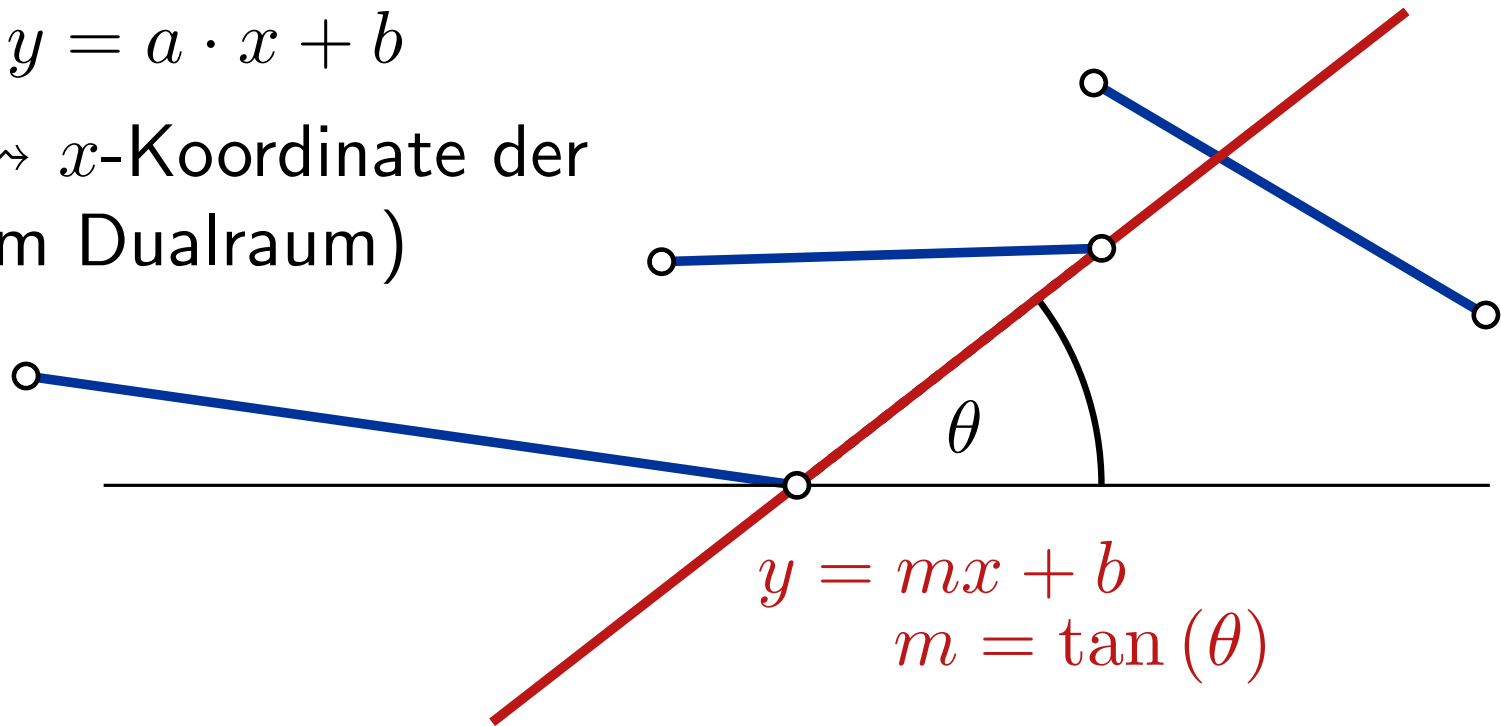
A: Strahl trifft Knoten

Aufgabe 2

Dualität:

$$(a, b) \leftrightarrow y = a \cdot x + b$$

Events \leftrightarrow x -Koordinate der Punkte (im Dualraum)



360° Rotation

Q: Was sind hier die Events?

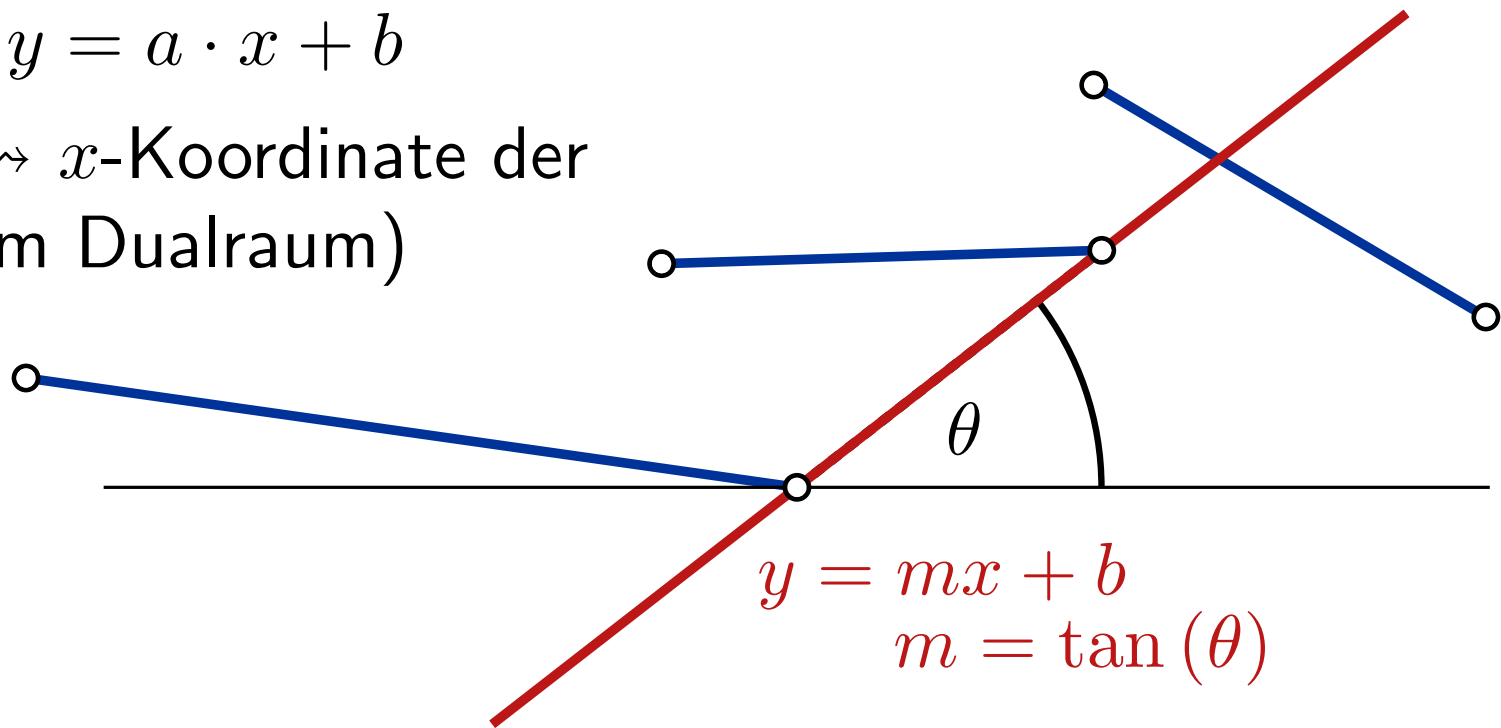
A: Strahl trifft Knoten

Aufgabe 2

Dualität:

$$(a, b) \leftrightarrow y = a \cdot x + b$$

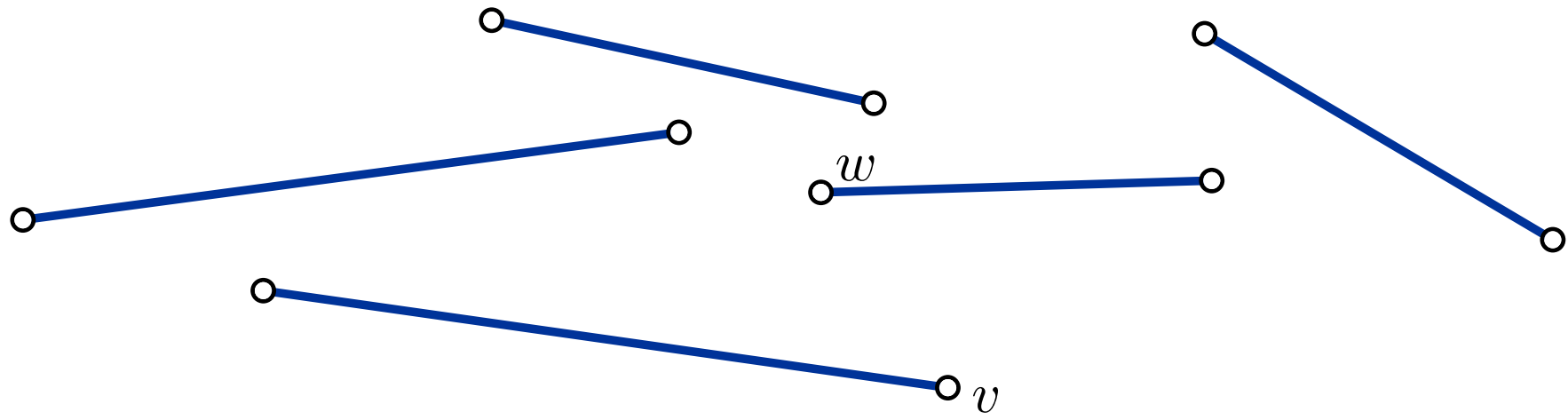
Events \leftrightarrow x -Koordinate der Punkte (im Dualraum)



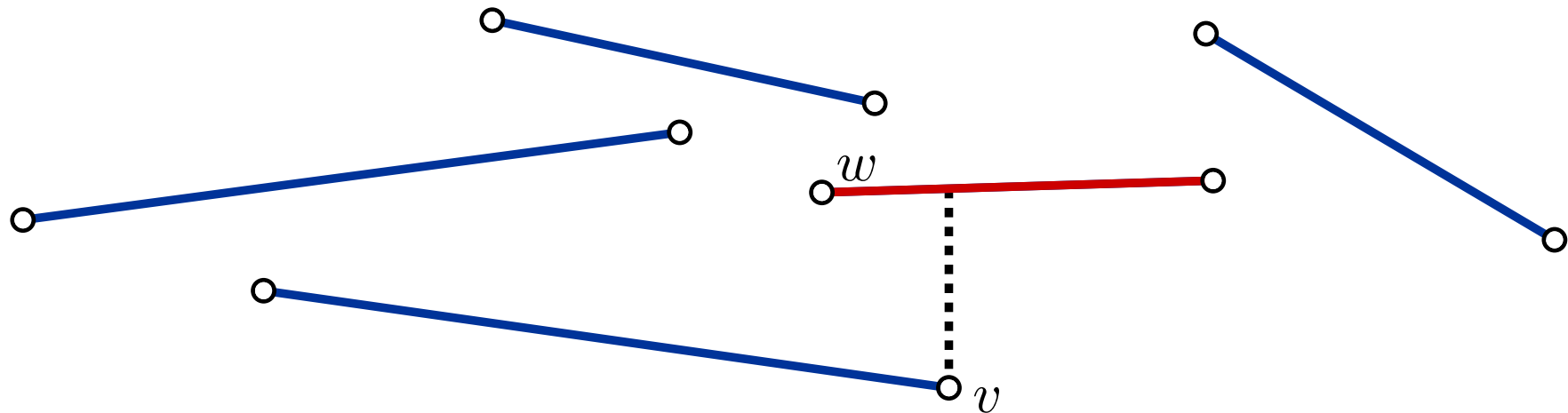
Vorgehen:

- Wandle alle Knoten der Polygone in Geraden um (Dualität)
- Sweepe von links nach rechts durch das Geradenarrangement
- Beim Sweep merke die Schnittpunkte der Geraden
- Sweep liefert Events sortiert nach Winkel in $O(n^2)$

Aufgabe 2



Aufgabe 2

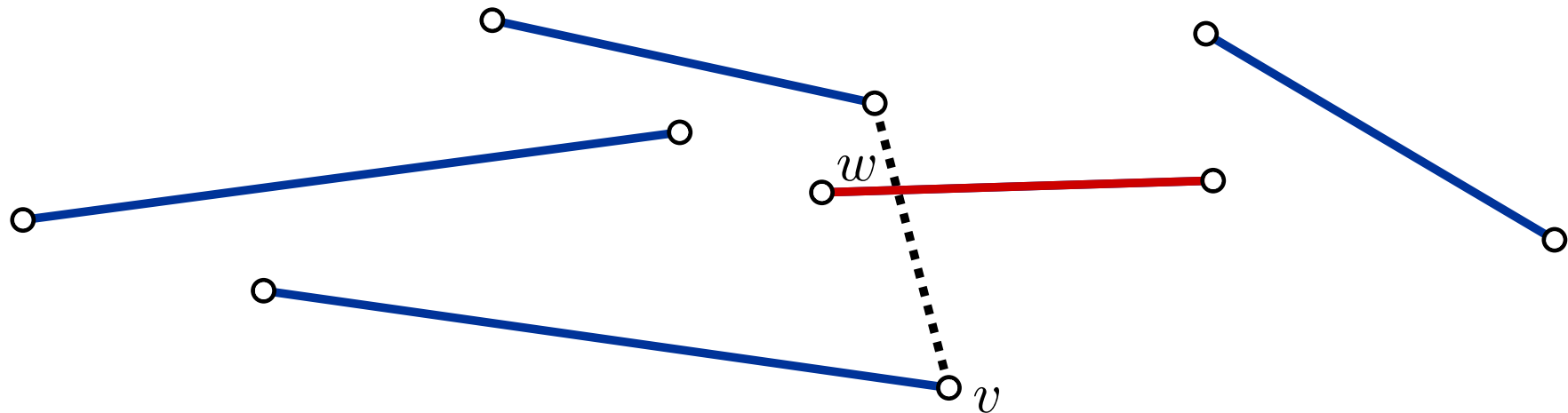


- Bestimme Segment $f(v)$ das als erstes vom Strahl getroffen wird.

Fälle:

- Unsichtbar

Aufgabe 2

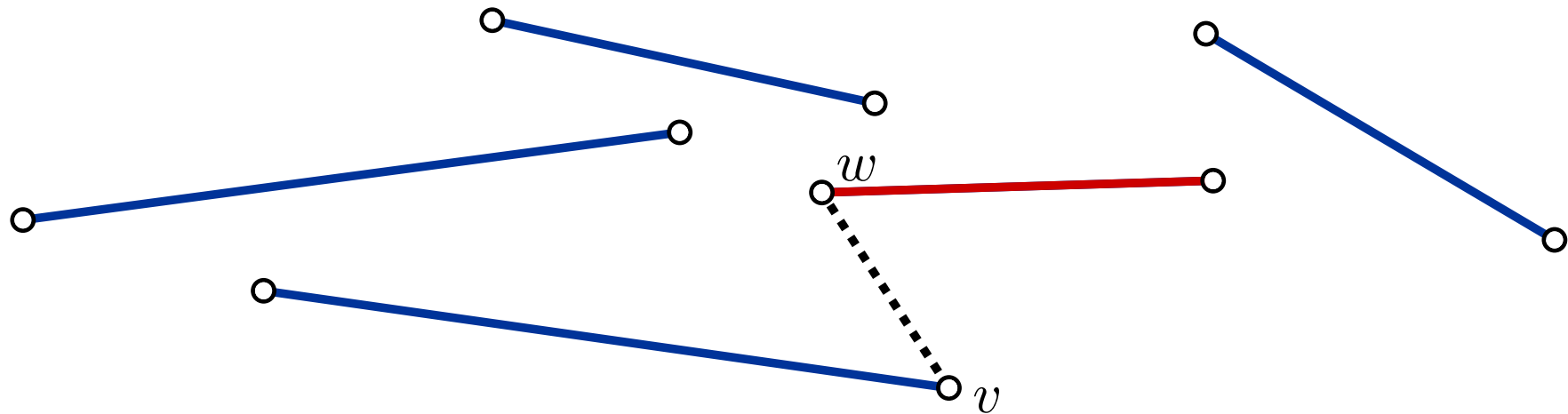


- Bestimme Segment $f(v)$ das als erstes vom Strahl getroffen wird.

Fälle:

- Unsichtbar

Aufgabe 2

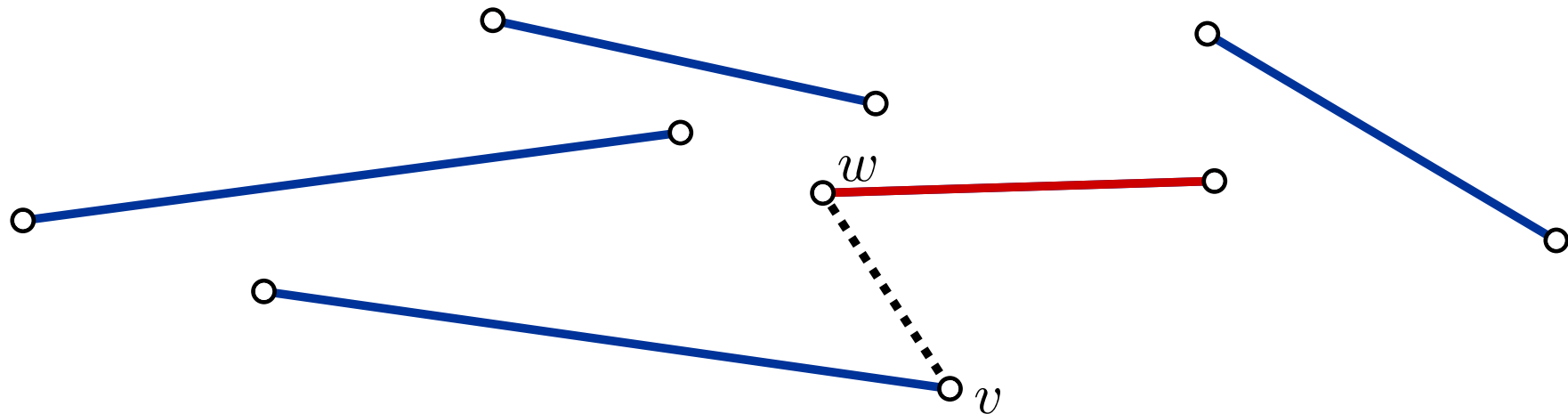


- Bestimme Segment $f(v)$ das als erstes vom Strahl getroffen wird.

Fälle:

- Unsichtbar
- Verlassen eines Segments

Aufgabe 2



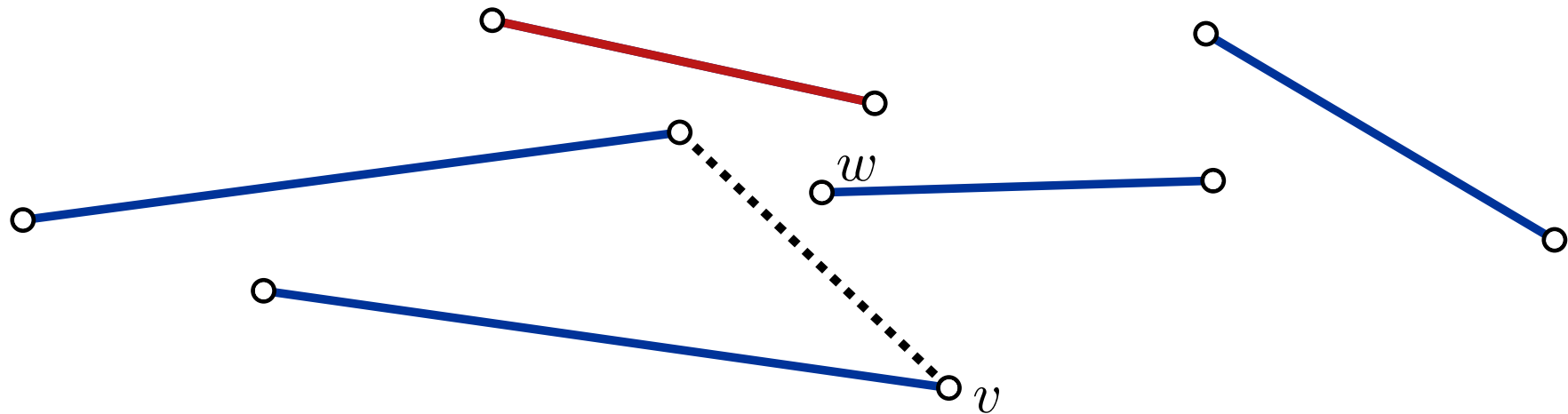
- Bestimme Segment $f(v)$ das als erstes vom Strahl getroffen wird.

Fälle:

- Unsichtbar
- Verlassen eines Segments

Wie $f(v)$ updaten?

Aufgabe 2

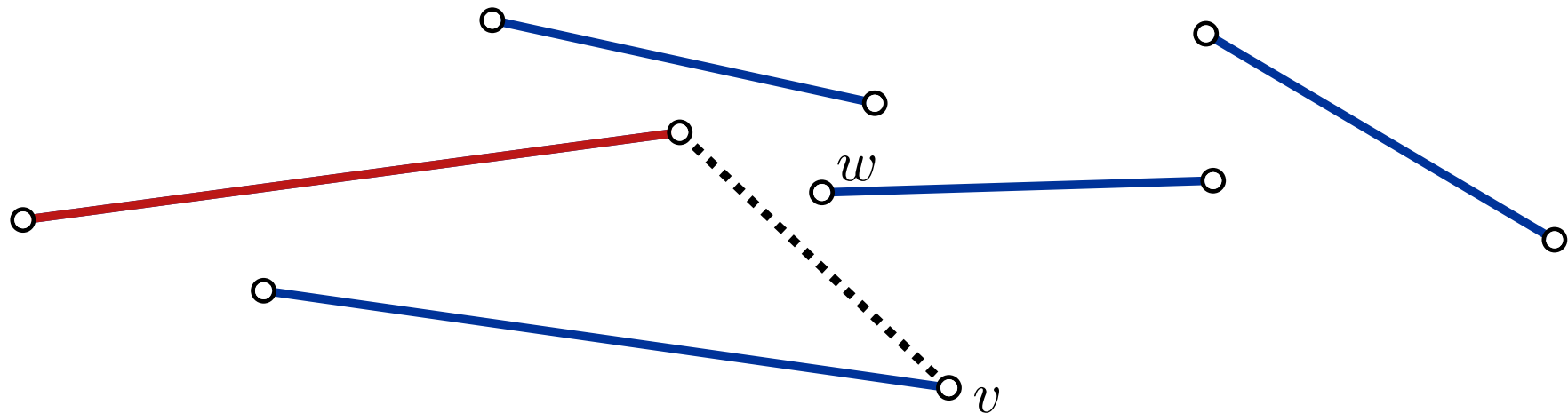


- Bestimme Segment $f(v)$ das als erstes vom Strahl getroffen wird.

Fälle:

- Unsichtbar
- Verlassen eines Segments
- Betreten eines Segments

Aufgabe 2

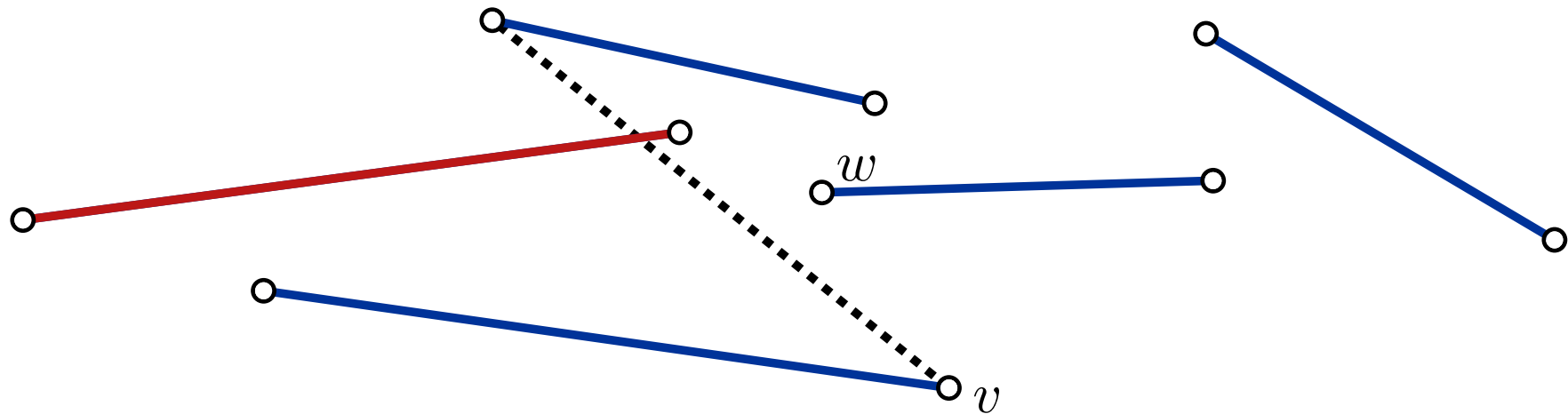


- Bestimme Segment $f(v)$ das als erstes vom Strahl getroffen wird.

Fälle:

- Unsichtbar
- Verlassen eines Segments
- Betreten eines Segments

Aufgabe 2

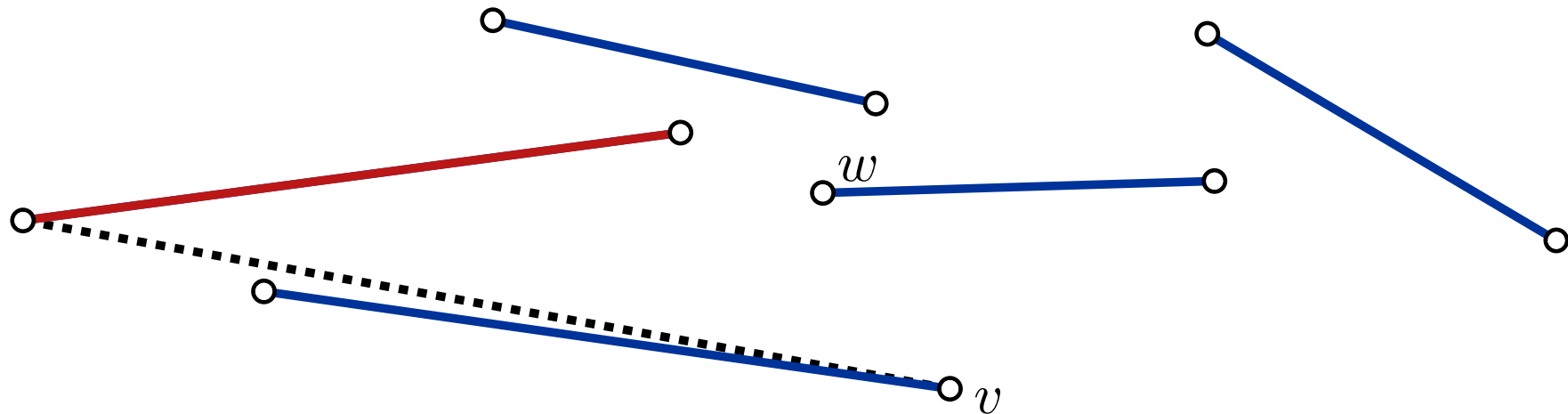


- Bestimme Segment $f(v)$ das als erstes vom Strahl getroffen wird.

Fälle:

- Unsichtbar
- Verlassen eines Segments
- Betreten eines Segments

Aufgabe 2

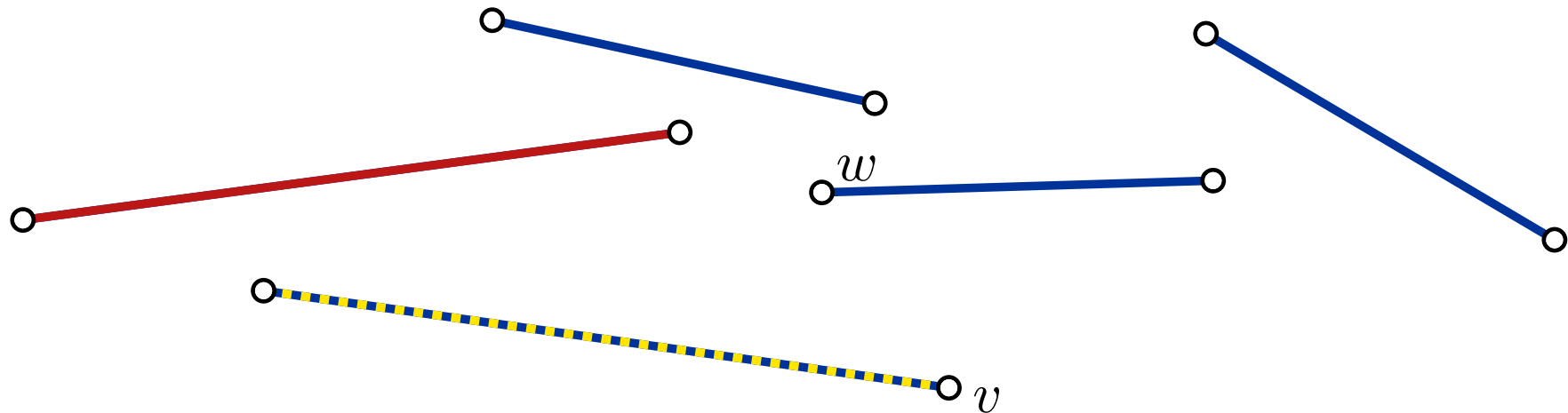


- Bestimme Segment $f(v)$ das als erstes vom Strahl getroffen wird.

Fälle:

- Unsichtbar
- Verlassen eines Segments
- Betreten eines Segments

Aufgabe 2

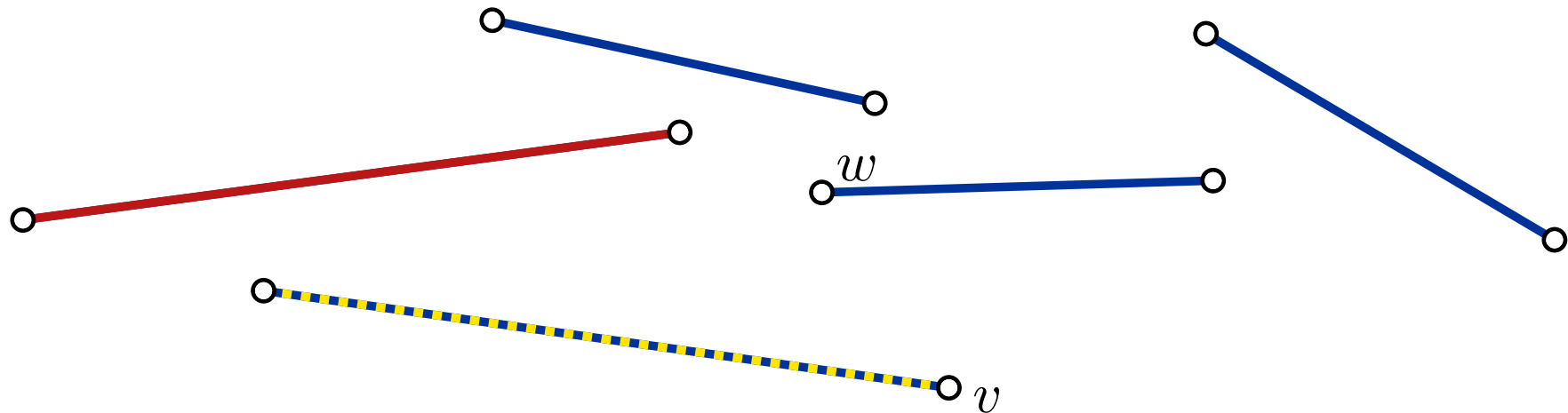


- Bestimme Segment $f(v)$ das als erstes vom Strahl getroffen wird.

Fälle:

- Unsichtbar
- Verlassen eines Segments
- Betreten eines Segments
- Gleiches Segment

Aufgabe 2



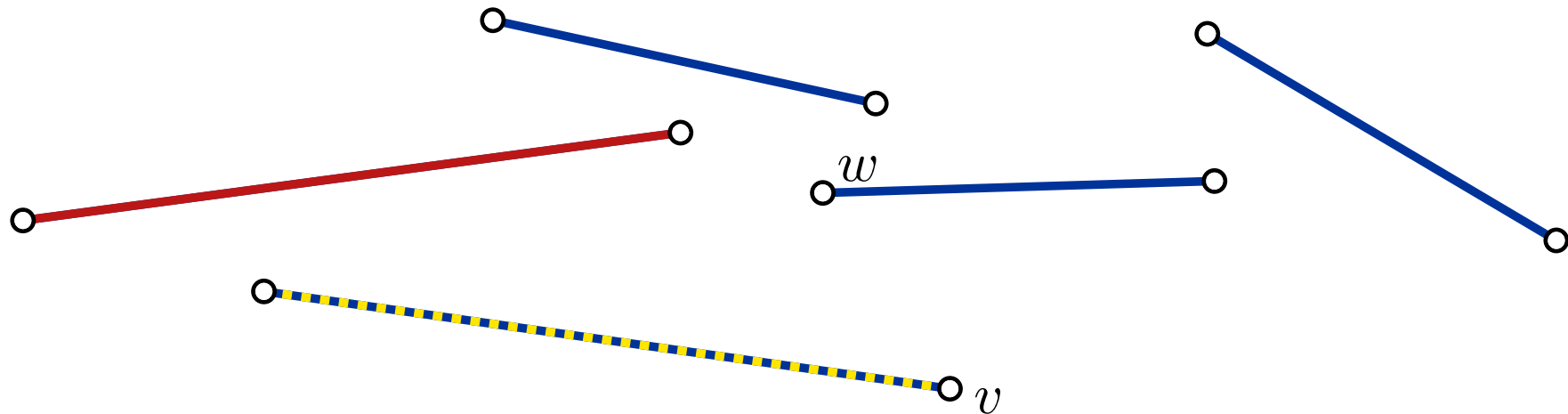
- Bestimme Segment $f(v)$ das als erstes vom Strahl getroffen wird.

Fälle:

- Unsichtbar
- Verlassen eines Segments
- Betreten eines Segments
- Gleiches Segment

} Füge Kante zum Sichtbarkeitsgraph hinzu

Aufgabe 2



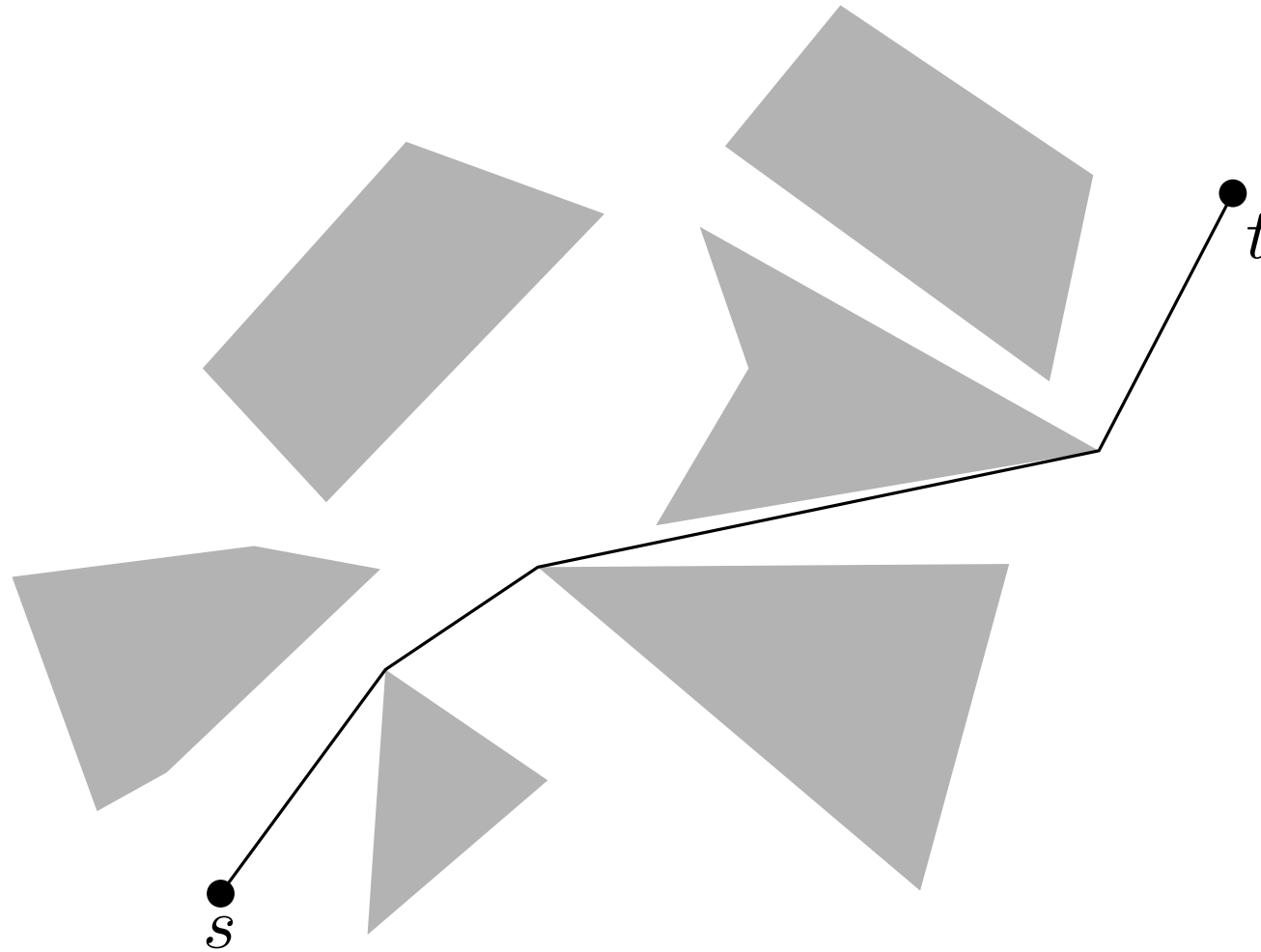
- Bestimme Segment $f(v)$ das als erstes vom Strahl getroffen wird.

Fälle:

- Unsichtbar $O(1)$
 - Verlassen eines Segments $O(1)$
 - Betreten eines Segments $O(1)$
 - Gleiches Segment $O(1)$
- } Füge Kante zum Sichtbarkeitsgraph hinzu

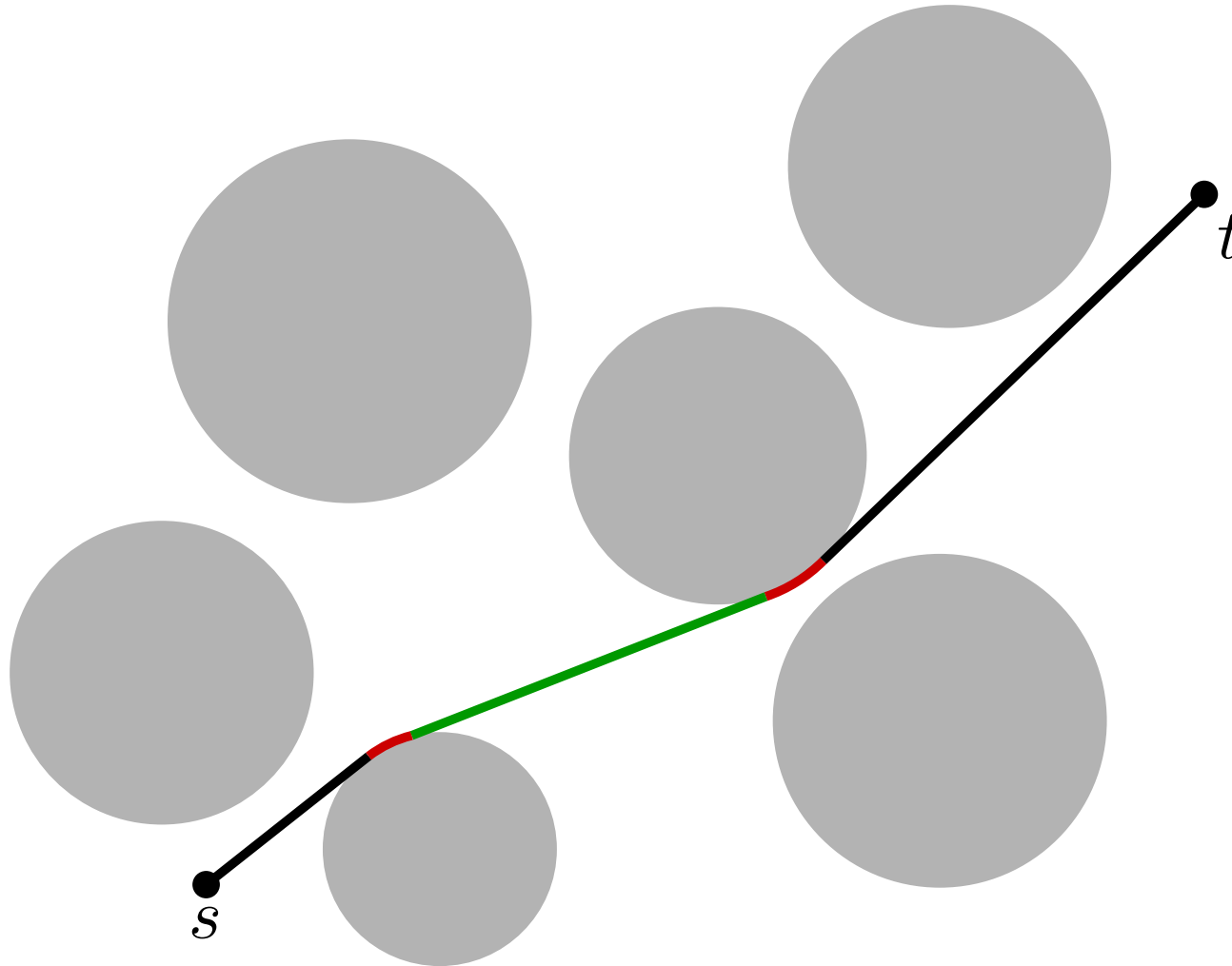
Aufgabe 3

Gegeben: Menge S von Polygonen mit insgesamt n Knoten.



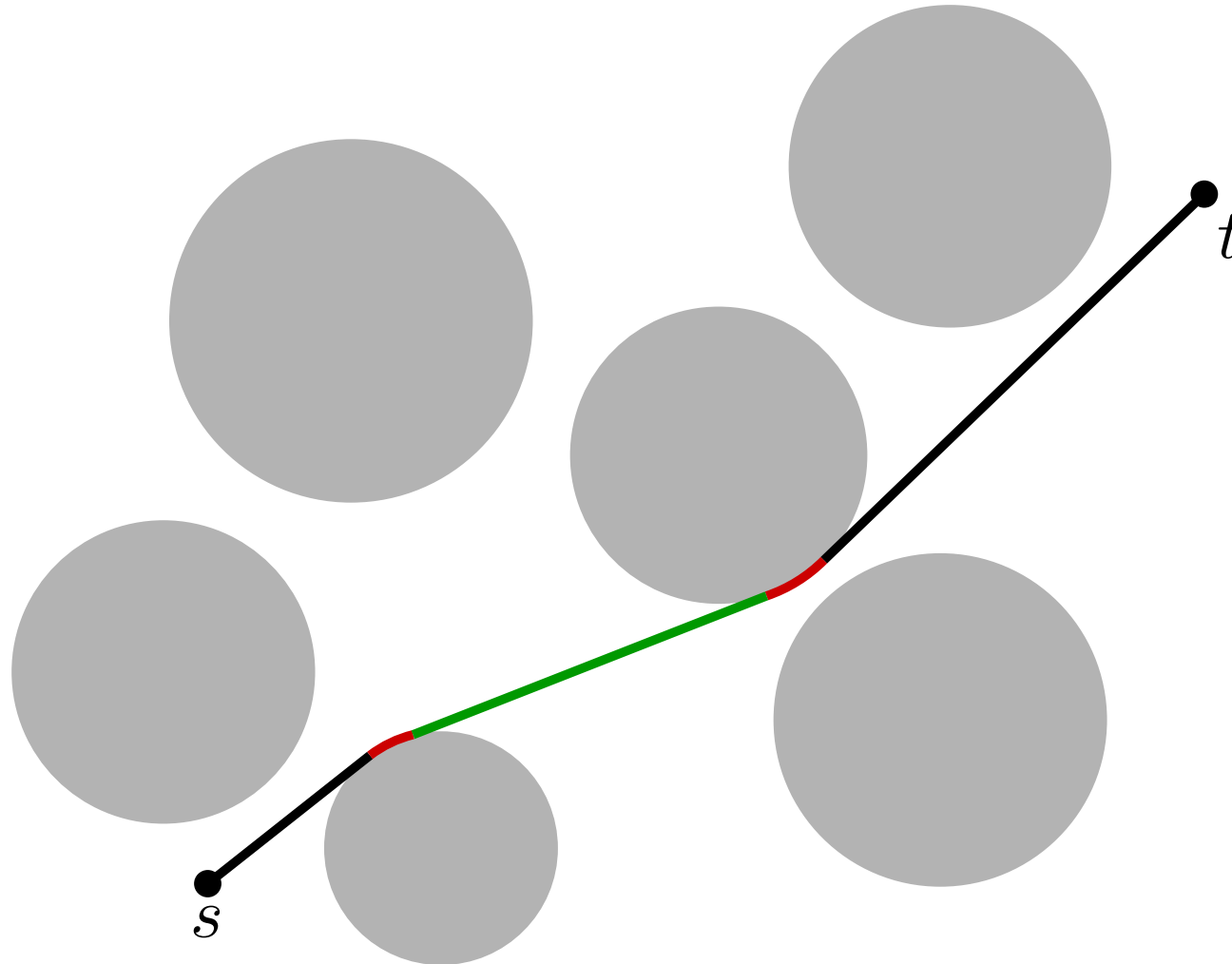
Aufgabe 3

Gegeben: Menge S von n Scheiben



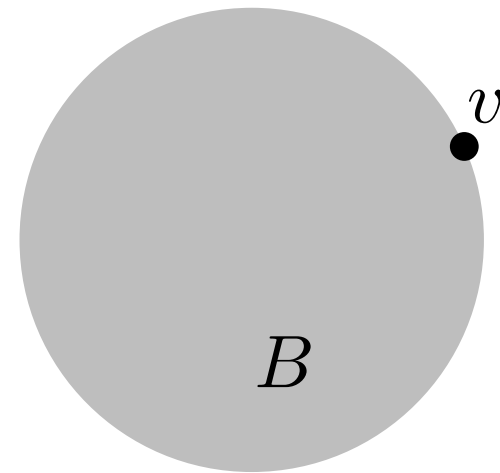
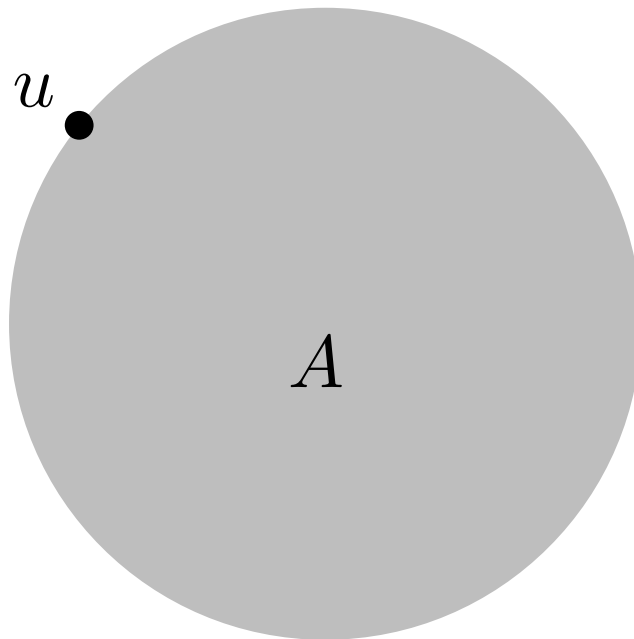
Aufgabe 3

Gegeben: Menge S von n Scheiben



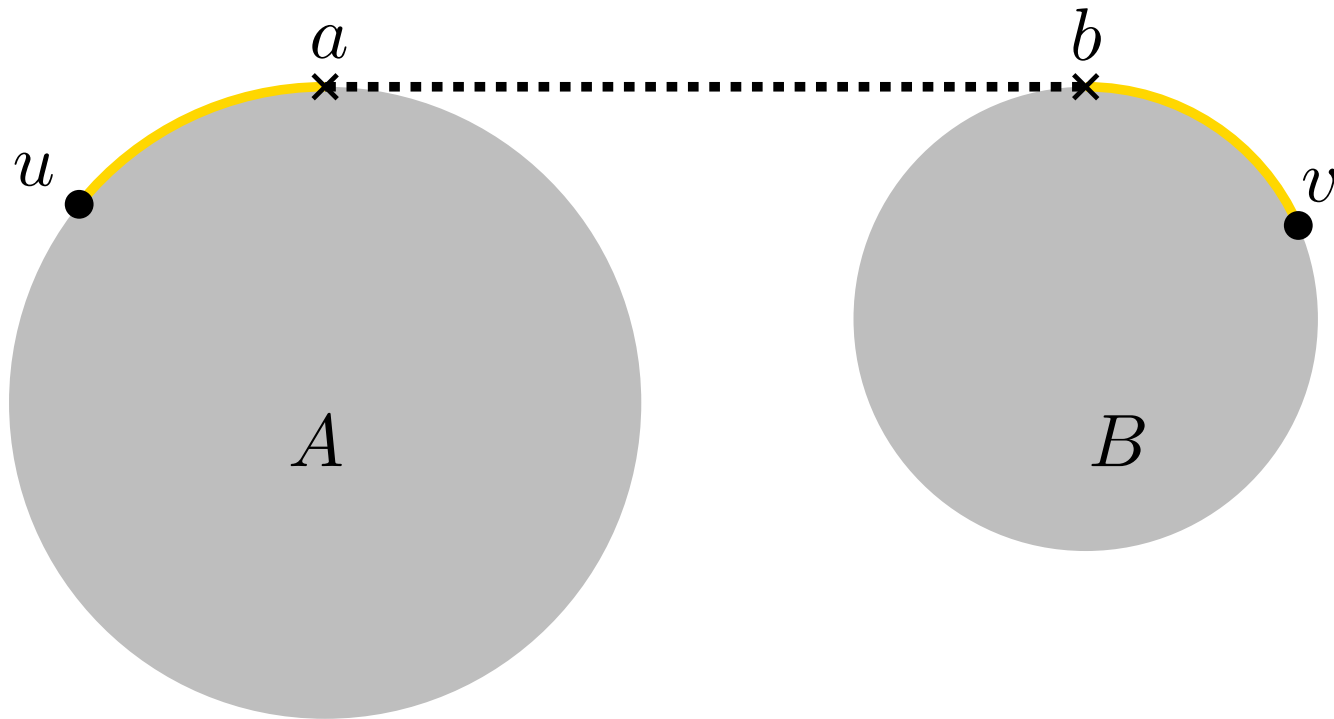
Tangente s/t – Kreis
Tangente Kreis – Kreis
Kreissegment

Aufgabe 3



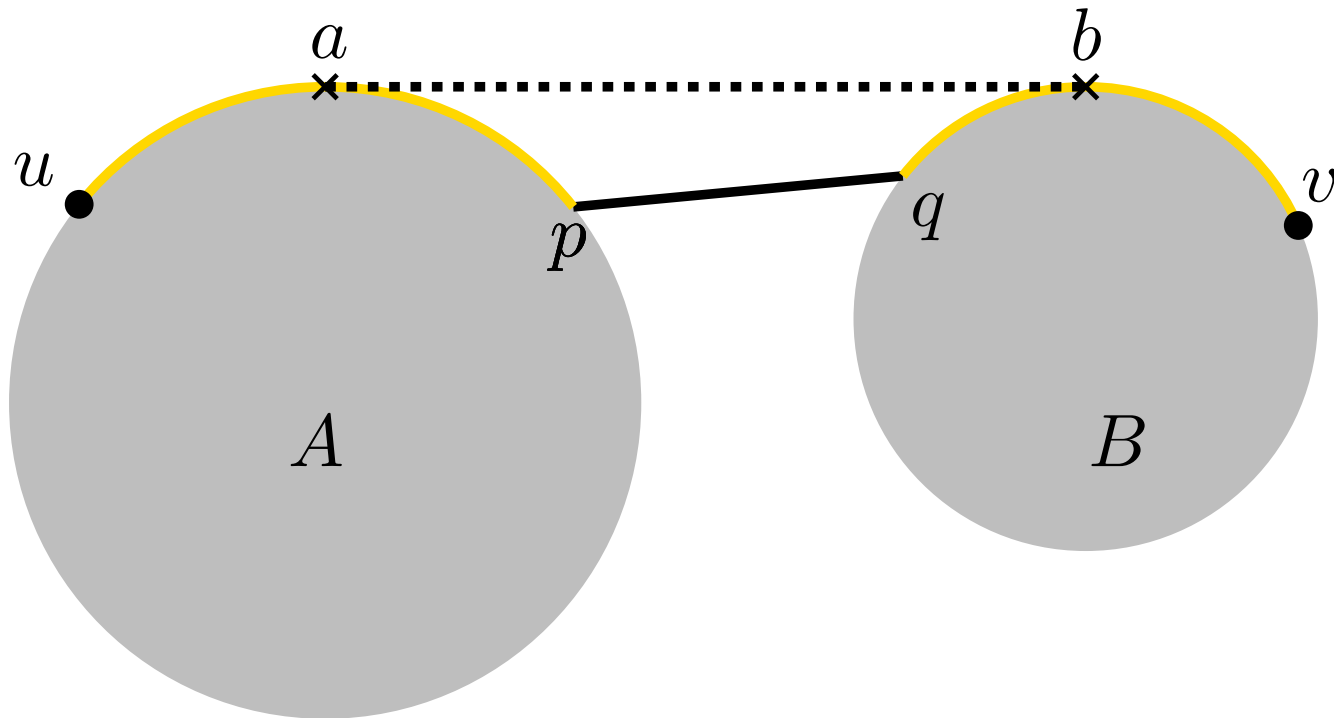
Tangente Kreis – Kreis

Aufgabe 3



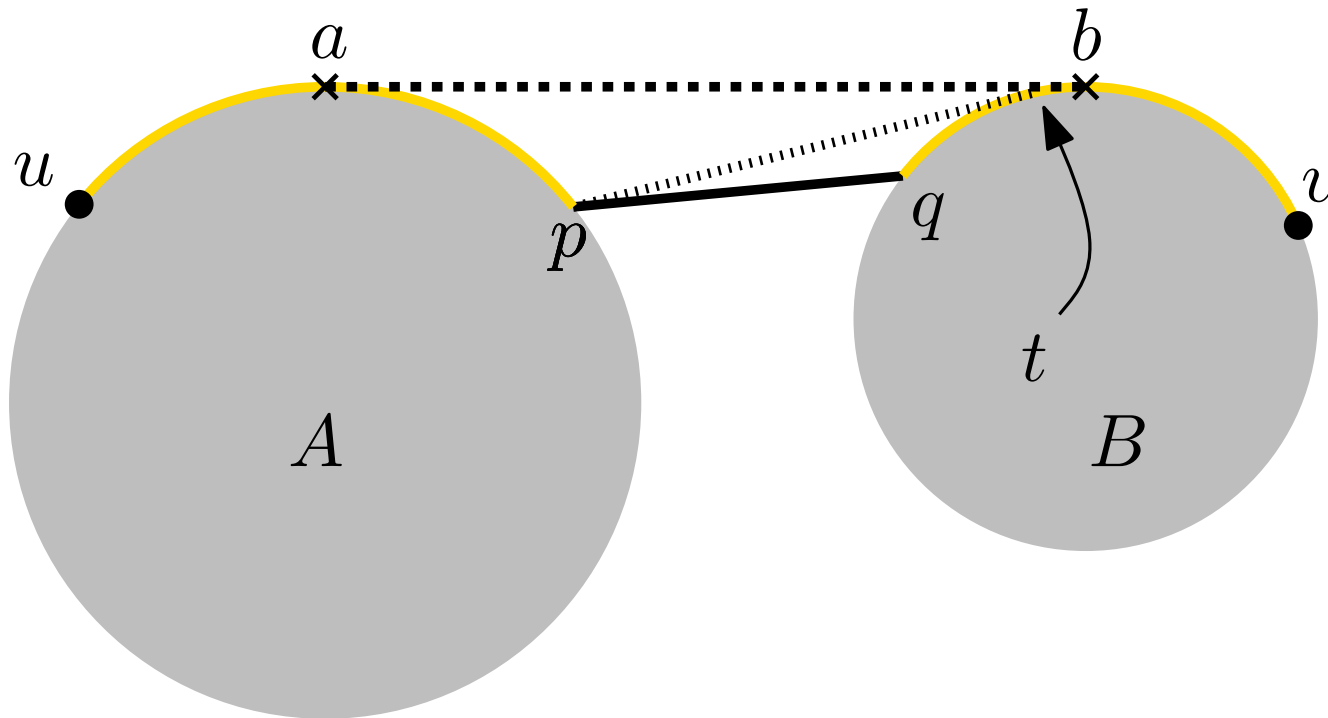
Tangente Kreis – Kreis

Aufgabe 3



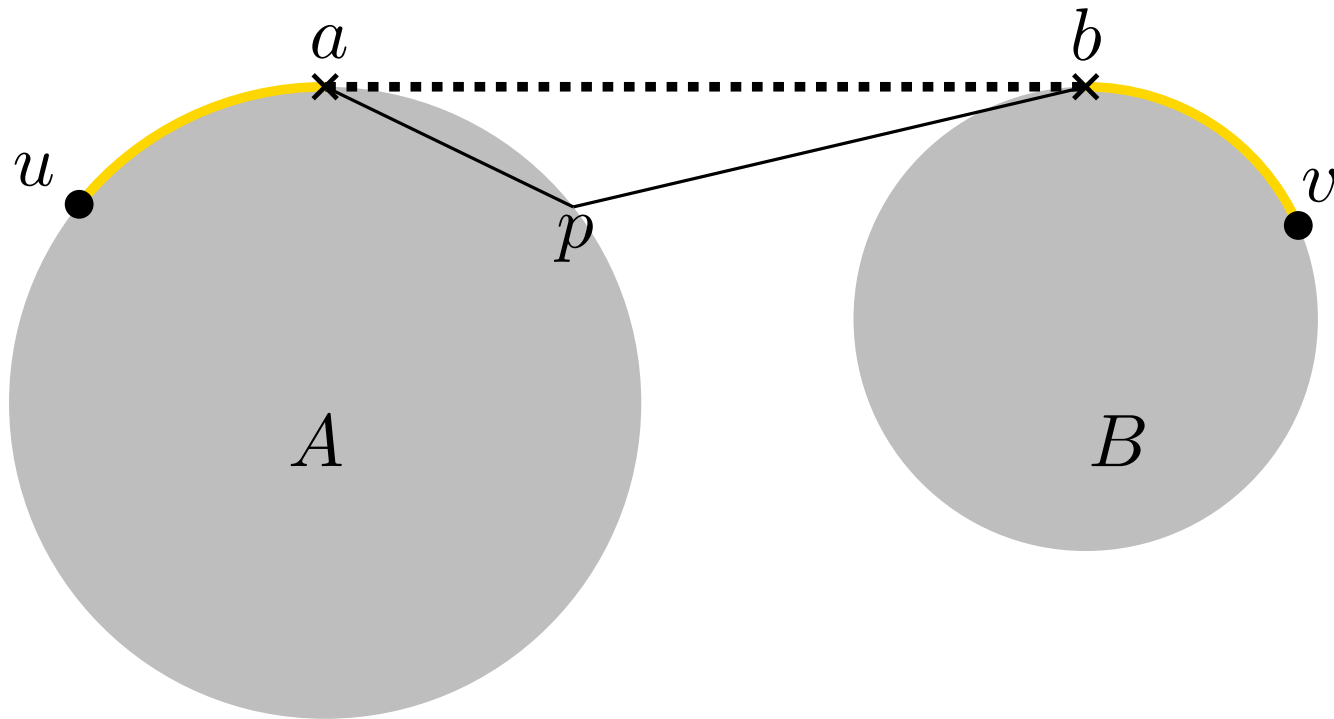
Tangente Kreis – Kreis

Aufgabe 3



Tangente Kreis – Kreis

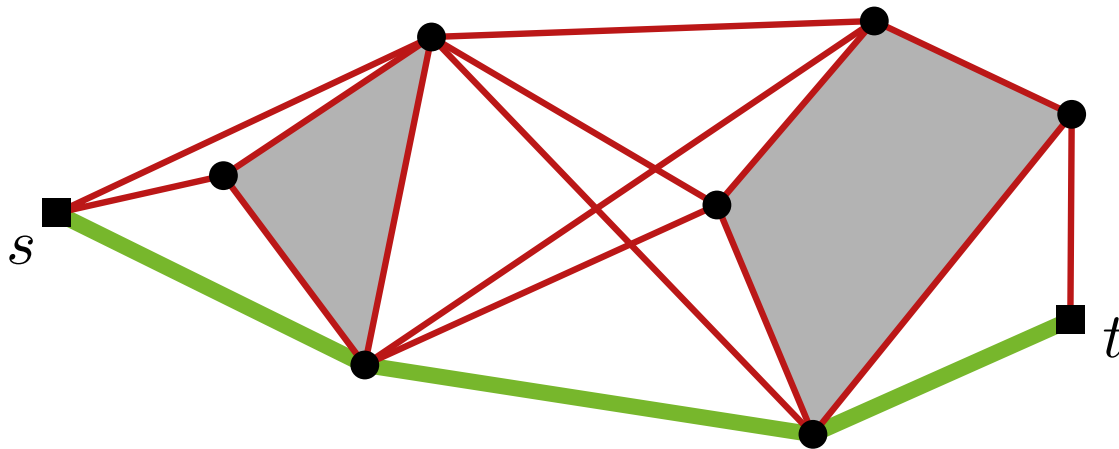
Aufgabe 3



Tangente Kreis – Kreis

Gegeben sei eine Menge S disjunkter offener Polygone...

...mit Knotenmenge $V(S)$.



Def.: Dann ist $G_{\text{vis}}(S) = (V(S), E_{\text{vis}}(S))$ der **Sichtbarkeitsgraph** von S mit $E_{\text{vis}}(S) = \{uv \mid u, v \in V(S) \text{ und } u \text{ sieht } v\}$ und $w(uv) = |uv|$.
Dabei gilt u **sieht** $v : \Leftrightarrow \overline{uv} \cap \bigcup S = \{u, v\}$

Definiere $S^* = S \cup \{s, t\}$ und $G_{\text{vis}}(S^*)$ analog.


Lemma 1

\Rightarrow

Der kürzeste st -Weg, der die Hindernisse in S vermeidet, entspricht einem kürzesten Weg in $G_{\text{vis}}(S^*)$.

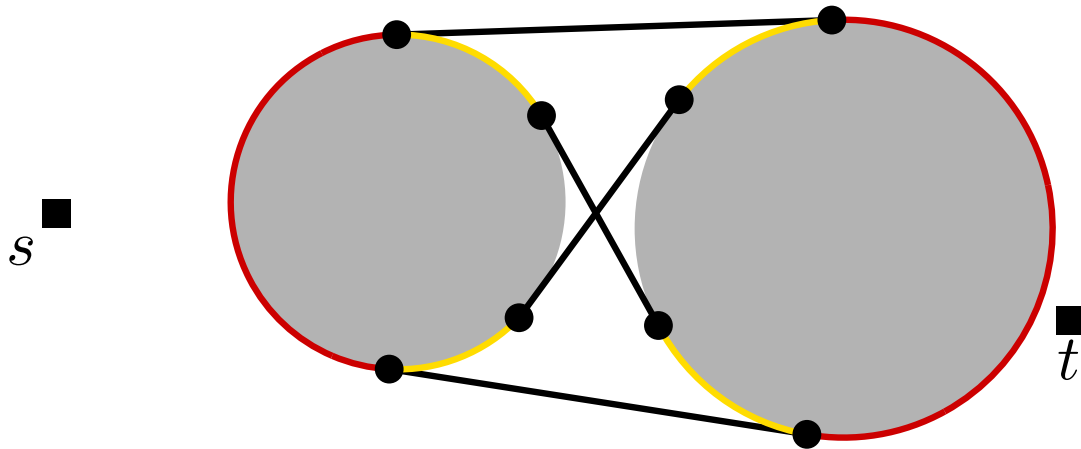
Aufgabe 3 – Sichtbarkeitsgraph

Gegeben sei eine Menge S disjunkter offener Scheiben.



Aufgabe 3 – Sichtbarkeitsgraph

Gegeben sei eine Menge S disjunkter offener Scheiben.



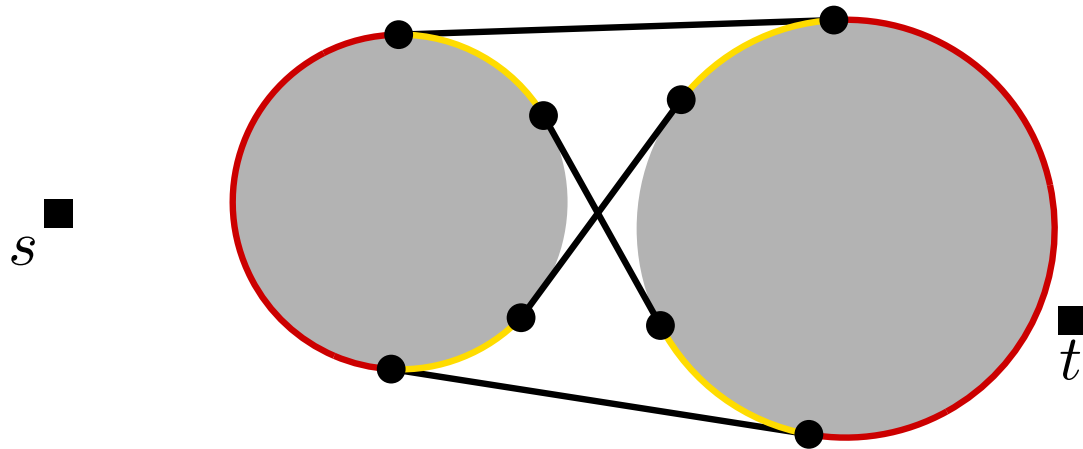
Tangentenknoten: $V(S)$

$E_{\text{vis}}(S) = \{uv \mid u, v \in V(S) \text{ und } u \text{ sieht } v\}$ und $w(uv) = |uv|$.

$E_{\text{arc}}(S) = \{\text{Kreisbogen } uv \mid u, v \in V(S) \text{ und } u, v \text{ auf gleicher Scheibe 'hintereinander'}\}$
und $w(uv) = |uv| \cdot \alpha$.

Aufgabe 3 – Sichtbarkeitsgraph

Gegeben sei eine Menge S disjunkter offener Scheiben.



Tangentenknoten: $V(S)$

$E_{\text{vis}}(S) = \{uv \mid u, v \in V(S) \text{ und } u \text{ sieht } v\}$ und $w(uv) = |uv|$.

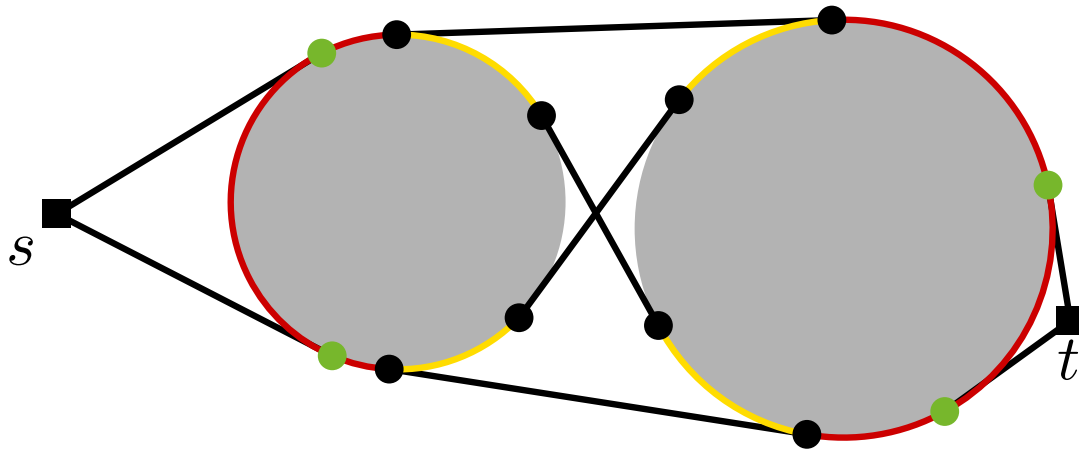
$E_{\text{arc}}(S) = \{\text{Kreisbogen } uv \mid u, v \in V(S) \text{ und } u, v \text{ auf gleicher Scheibe 'hintereinander'}\}$
und $w(uv) = |uv| \cdot \alpha$.

Def.: Dann ist $G_{\text{vis}}(S) = (V(S), E_{\text{vis}}(S) \cup E_{\text{arc}})$ der **Sichtbarkeitsgraph** von S .

Definiere $S^* = S \cup \{s, t\}$ und $G_{\text{vis}}(S^*)$ analog.

Aufgabe 3 – Sichtbarkeitsgraph

Gegeben sei eine Menge S disjunkter offener Scheiben.



Tangentenknoten: $V(S)$

$E_{\text{vis}}(S) = \{uv \mid u, v \in V(S) \text{ und } u \text{ sieht } v\}$ und $w(uv) = |uv|$.

$E_{\text{arc}}(S) = \{\text{Kreisbogen } uv \mid u, v \in V(S) \text{ und } u, v \text{ auf gleicher Scheibe 'hintereinander'}\}$
und $w(uv) = |uv| \cdot \alpha$.

Def.: Dann ist $G_{\text{vis}}(S) = (V(S), E_{\text{vis}}(S) \cup E_{\text{arc}})$ der **Sichtbarkeitsgraph** von S .

Definiere $S^* = S \cup \{s, t\}$ und $G_{\text{vis}}(S^*)$ analog.

Aufgabe 3 – Sichtbarkeitsgraph berechnen

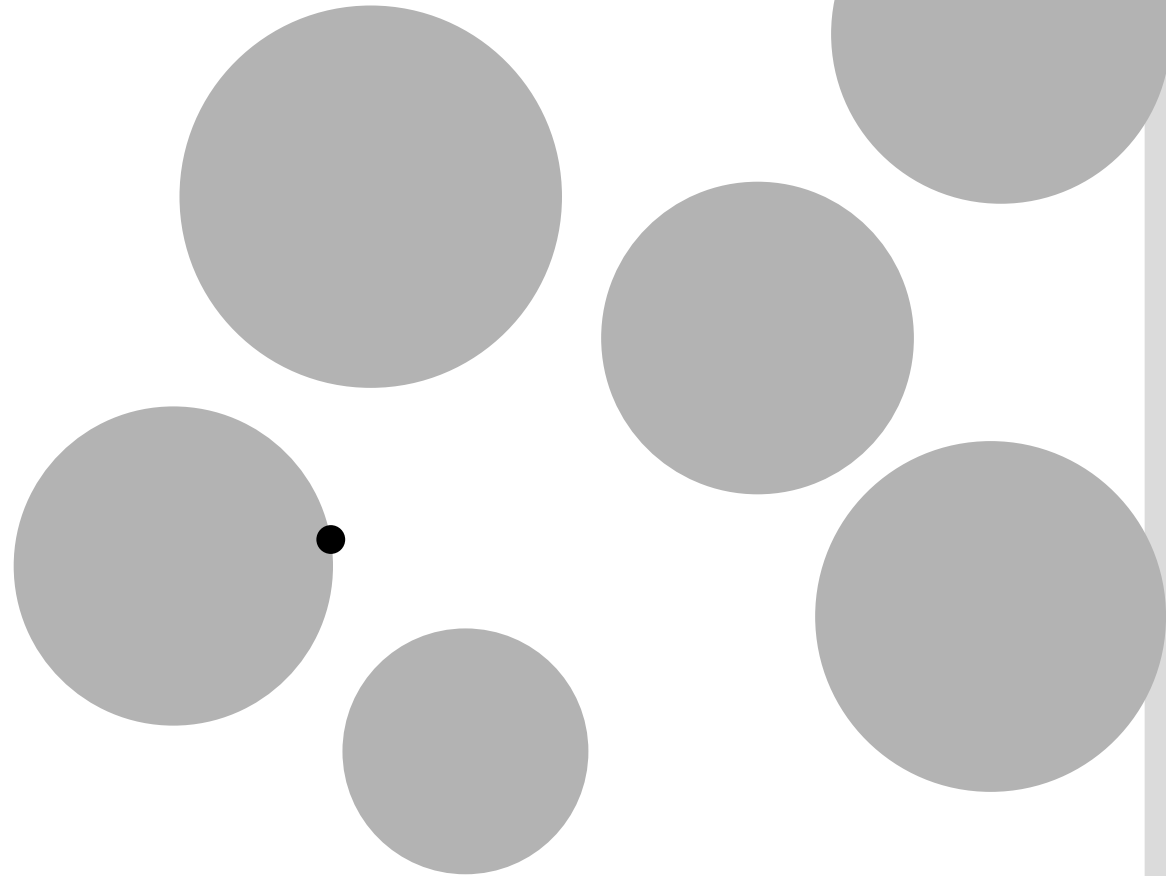
VISIBILITYGRAPH(S)

Input: Menge disjunkter Polygone S

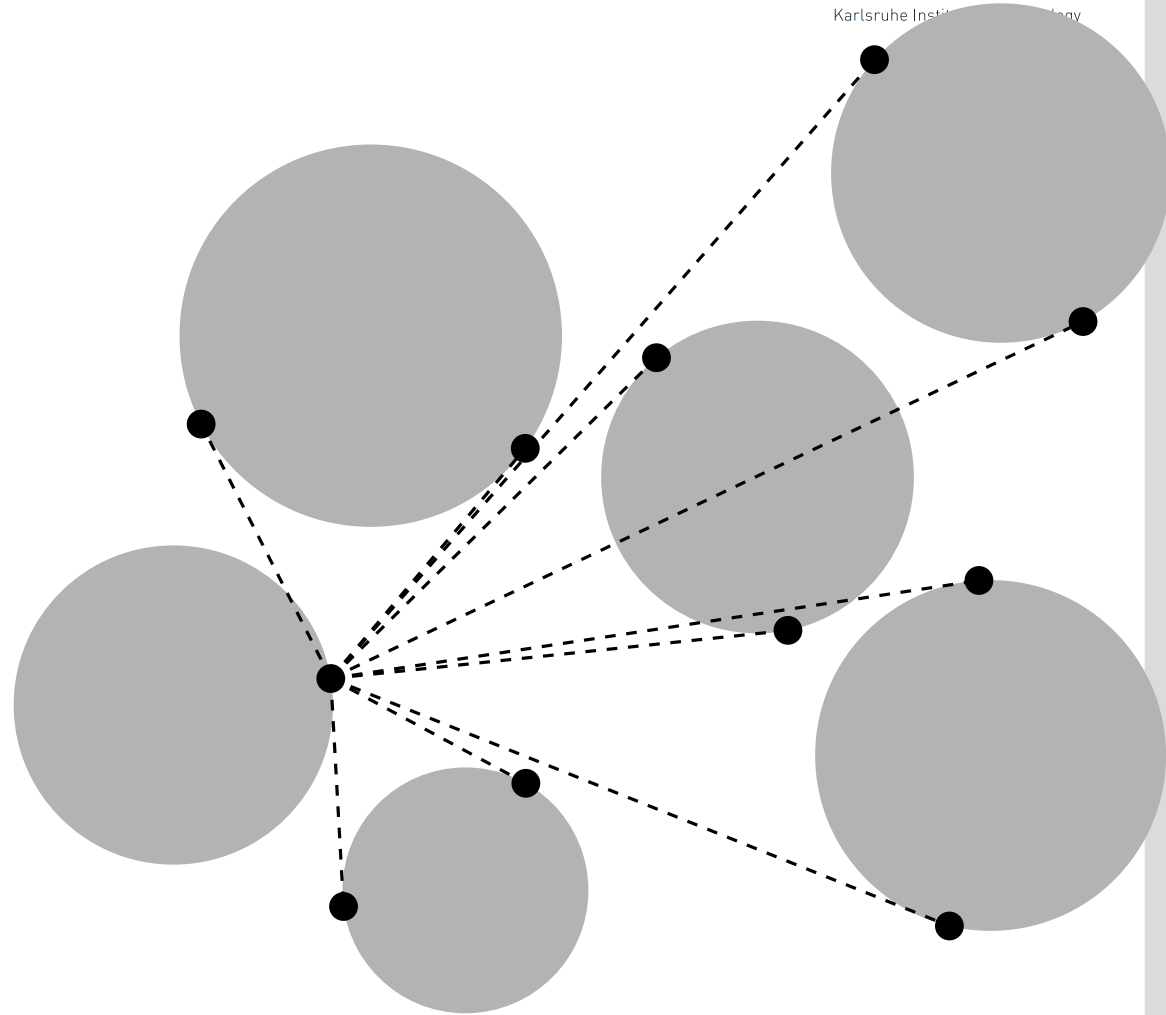
Output: Sichtbarkeitsgraph $G_{\text{vis}}(S)$

- 1 $E \leftarrow \emptyset$
- 2 **foreach** $v \in V(S)$ **do**
- 3 $W \leftarrow \text{VISIBLEVERTICES}(v, S)$
- 4 $E \leftarrow E \cup \{vw \mid w \in W\}$
- 5 $E \leftarrow E \cup \{ \text{arc zum n\u00e4chsten Nachbarn auf der Scheibe} \}$
- 6 **return** E

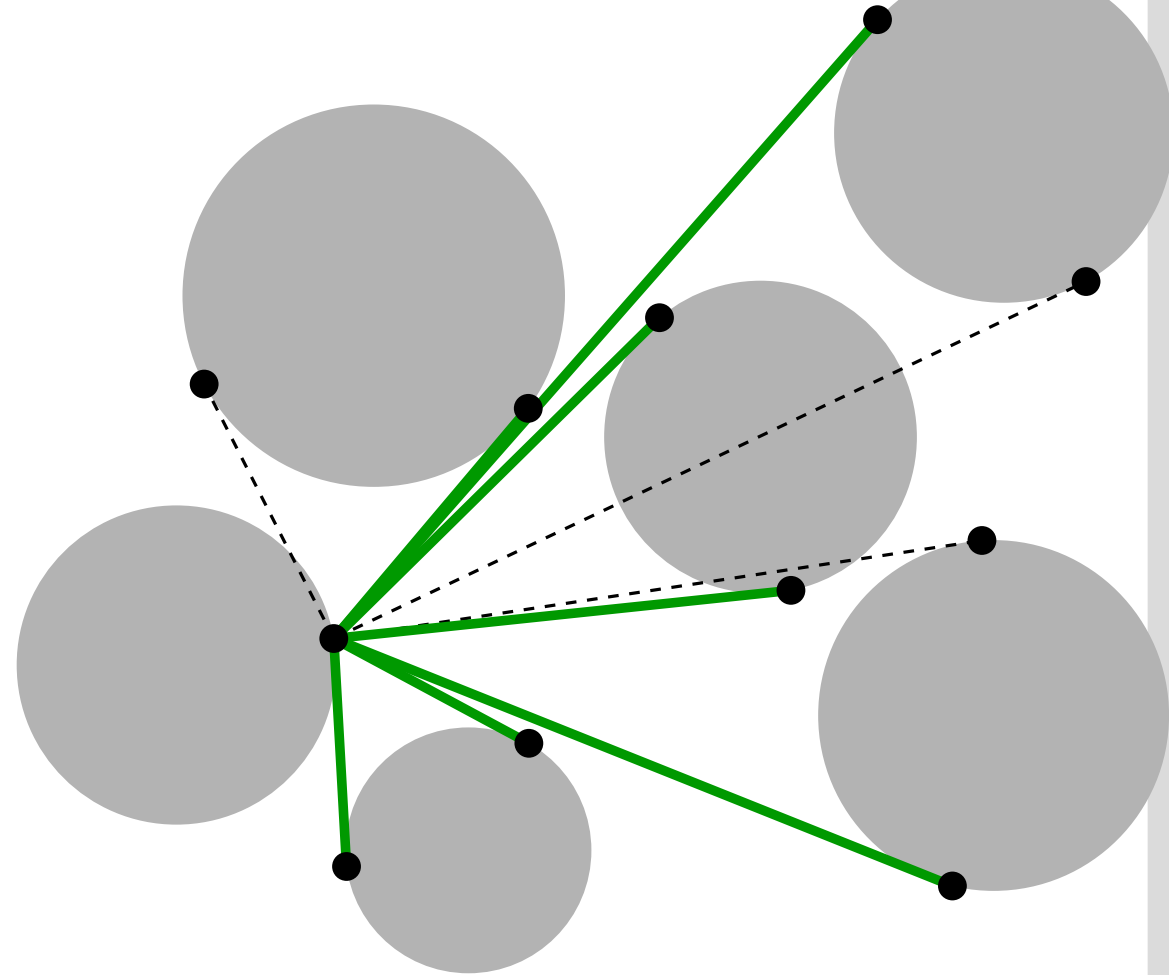
Aufgabe 3 – Sichtbare Knoten berechnen



Aufgabe 3 – Sichtbare Knoten berechnen



Aufgabe 3 – Sichtbare Knoten berechnen



Aufgabe 3 – Sichtbare Knoten berechnen

$VISIBLEVERTICES(p, S)$

$$r \leftarrow \{p + k \begin{pmatrix} 1 \\ 0 \end{pmatrix} \mid k \in \mathbb{R}_0^+\}$$

$$I \leftarrow \{e \in E(S) \mid e \cap r \neq \emptyset\}$$

$$\mathcal{T} \leftarrow \text{balancedBinaryTree}(I)$$

$$w_1, \dots, w_n \leftarrow \text{sortiere } V(S) \text{ im UZS}$$

$$W \leftarrow \emptyset$$

for $i = 1$ **to** n **do**

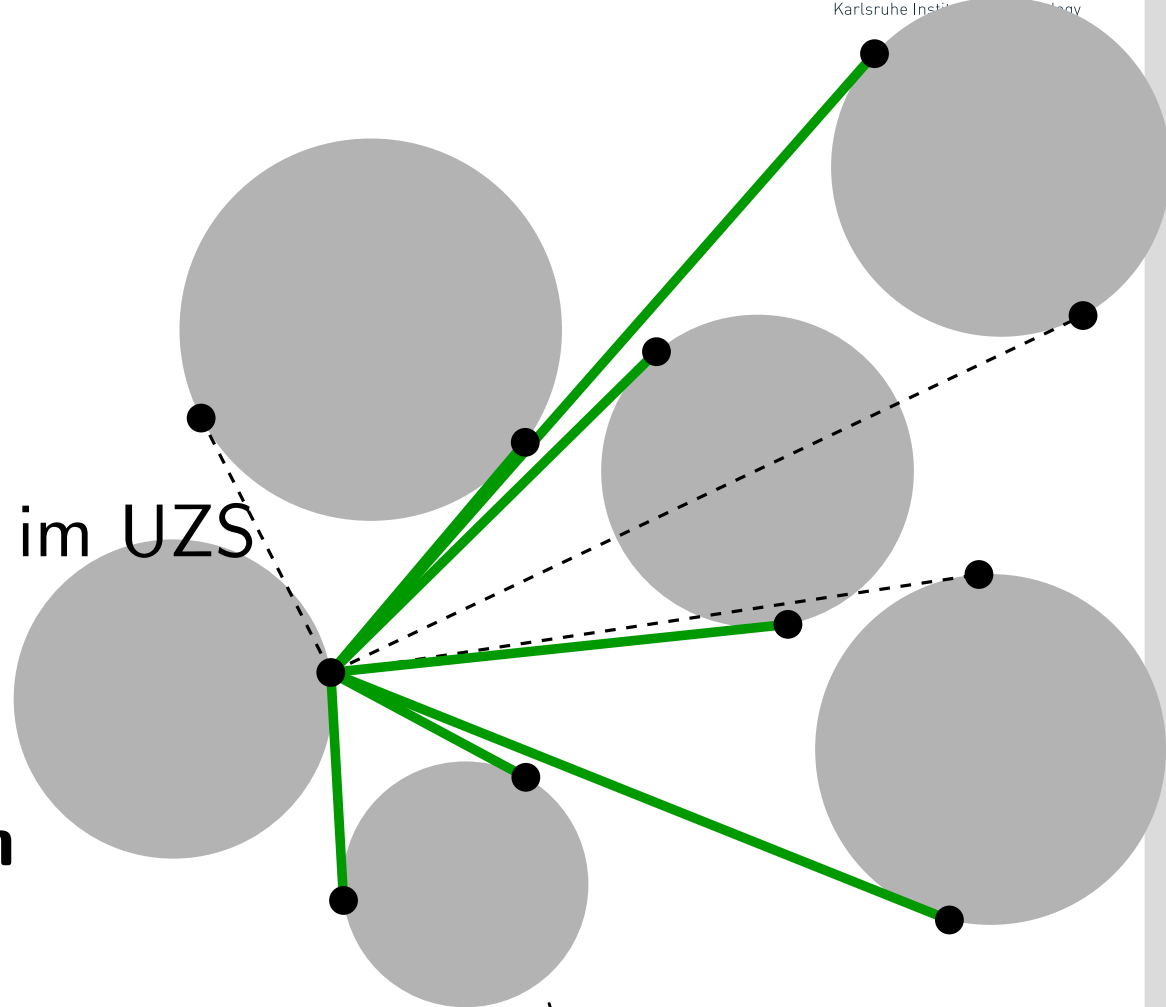
if $VISIBLE(p, w_i)$ **then**

$$\quad W \leftarrow W \cup \{w_i\}$$

 füge in \mathcal{T} zu w_i inzidente Kante aus $\overrightarrow{pw_i}^+$ ein

 lösche aus \mathcal{T} zu w_i inzidente Kanten aus $\overrightarrow{pw_i}^-$

return W



Aufgabe 3 – Shortest Path

SHORTESTPATH(S, s, t)

$$n = |V(S)|, m = |E_{\text{vis}}(S)|$$


Input: Hindernismenge S , Punkte $s, t \in \mathbb{R}^2 \setminus \bigcup S$

Output: kürzester kollisionsfreier st -Weg in S

- 1 $G_{\text{vis}} \leftarrow \text{VISIBILITYGRAPH}(S \cup \{s, t\})$ $O(n^2 \log n)$
 - 2 **foreach** $uv \in E_{\text{vis}}(S)$ **do** $w(uv) \leftarrow |uv|$ $O(m)$
 - 3 **return** $\text{DIJKSTRA}(G_{\text{vis}}, w, s, t)$ $O(n \log n + m)$
-
- $O(n^2 \log n)$

Aufgabe 3 – Worst Case

n Scheiben



Von jeder Scheibe mindestens eine Tangente an jede andere Scheibe

$\Omega(n)$ Tangentenknoten pro Scheibe $\Rightarrow \Omega(n^2)$ Knoten insgesamt

$\Omega(n)$ Tangentenknoten pro Scheibe $\Rightarrow \Omega(n^2)$ Kanten pro Scheibe +
 $\Omega(n^2)$ Kanten von Scheiben zu Scheiben $\Rightarrow \Omega(n^2)$ Kanten insgesamt

Aufgabe 3 – Shortest Path

SHORTESTPATH(S, s, t)

$$n^2 = |V(S)|, m = |E|$$

Input: Hindernismenge S , Punkte $s, t \in \mathbb{R}^2 \setminus \bigcup S$

Output: kürzester kollisionsfreier st -Weg in S

- 1 $G_{\text{vis}} \leftarrow \text{VISIBILITYGRAPH}(S \cup \{s, t\})$ $O(n^4 \log n^2)$
 - 2 **foreach** $uv \in E_{\text{vis}}(S)$ **do** $w(uv) \leftarrow |uv|$ $O(m)$
 - 3 **return** $\text{DIJKSTRA}(G_{\text{vis}}, w, s, t)$ $O(n^2 \log n^2 + m)$
-
- $O(n^4 \log n^2)$

Aufgabe 3 – Shortest Path

SHORTESTPATH(S, s, t)

$$n^2 = |V(S)|, m = |E|$$

Input: Hindernismenge S , Punkte $s, t \in \mathbb{R}^2 \setminus \bigcup S$

Output: kürzester kollisionsfreier st -Weg in S

- 1 $G_{\text{vis}} \leftarrow \text{VISIBILITYGRAPH}(S \cup \{s, t\})$ $O(n^4 \log n^2)$
 - 2 **foreach** $uv \in E_{\text{vis}}(S)$ **do** $w(uv) \leftarrow |uv|$ $O(m)$
 - 3 **return** $\text{DIJKSTRA}(G_{\text{vis}}, w, s, t)$ $O(n^2 \log n^2 + m)$
-
- $O(n^4 \log n^2)$

Danke!

Viel Erfolg bei der Prüfung!

Praktikum zur Routenplanung

- im Wintersemester 2012/2013 (Master)
- Betreuung: Moritz Baum, Julian Dibbelt, Thomas Pajor
- 6 ECTS-Punkte
- Praktische Implementierung einiger Aspekte aus der Vorlesung
 - Beschleunigungstechniken
 - Alternativrouten
 - Public Transport
 - Hub-Labels (in Datenbanken)
 - ...
- Möglichkeit aktuelle Forschung im Bereich Routenplanung praktisch auszuprobieren

Details werden auf unserer Seite bekanntgegeben unter
<http://illwww.iti.kit.edu>

Algorithmen zur Visualisierung von Graphen

- Dozenten: Tamara Mchedlidze, Martin Nöllenburg, Ignaz Rutter
- 5 ECTS-Punkte
- Termin: Dienstags 9:45 Uhr und mittwochs 14 Uhr
- Themen (Auswahl):
 - Kräftebasierte Layouts
 - Knickminimierung, Winkelauflösung
 - Lagenlayouts, Baumlayouts, Gitterzeichnungen
 - Zeichnen von Metromaps
 - ...

Mehr Informationen werden auf unserer Seite bekanntgegeben unter
<http://illwww.iti.kit.edu>

Geometrische Algorithmen für Anwendungen in der Geovisualisierung

- Andreas Gemsa, Martin Nöllenburg, Ignaz Rutter
- Termin: Dienstags 15:45 Uhr
- 4 ECTS-Punkte
- Themen (Auswahl):
 - Schematische Karten
 - Kartogramme
 - Beschriftung von Karten
 - Dynamische Darstellung von Karten
 - Generalisierung
 - ...

Mehr Informationen werden auf unserer Seite bekanntgegeben unter

<http://illwww.itl.kit.edu>

Synergien aus Graph-Theorie und Data-Mining zur Analyse von Netzwerkdaten

- Proseminar und Seminar (Algorithmentechnik B)
- Zusammen mit dem IPD
- Methoden zur Analyse komplexer Netzwerke
z.B. soziale Netzwerke, Zitationsdatenbanken, Sensornetzwerke
- Schwerpunkte:
 - Maße zur Bewertung von Knoten und Subgraphen
 - Graph Clustering zur Gruppierung von ähnlichen Graph-Strukturen
 - Graph Outlier Mining zur Erkennung von Graph-Anomalien

Erster Termin: 16. Oktober 2012, 14 Uhr (SR 348, Geb. 50.34)